

SCHOOL BASED ASSESSMENT 2024

MODEL PAPER

Computer Science Grade 7

[Paper A: 48 Marks, Paper B: 52 Marks, Total: 100 Marks] , Time = 3 hours



School Name: _____

Student Name : _____

Roll Number : _____

Section : _____

OBJECTIVE PART(MCQs)

Question No.1 : The technology that enables a device to act and think like a human:

- (a) Holographic imaging (b) Virtual reality
(c) Artificial intelligence (d) Augmented reality

Question No.3 : The cache size of the Intel Core i7 - 12700E processor is:

- (a) 12MB (b) 18MB (c) 24MB (d) 30MB

Question No.5 : The step after entering the email for Gmail sign-in page is:

- (a) Phone number (b) Password (c) Address (d) Name

Question No.7 : On the basis of DNS TXT records, commonly used E-mail authentication methods are:

- (a) 1 (b) 2 (c) 3 (d) 4

Question No.9 : Amount to be paid for creating Gmail account is:

- (a) 0 Dollars (b) 100 Dollar (c) 200 Dollar (d) 350 Dollar

Question No.11 : The important types of algorithm are:

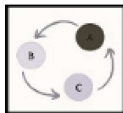
- (a) Three (b) Five (c) Seven (d) Nine

Question No.13 : The output of the following code is:

```
x=5;
if (x<4)
    print ("hello");
if (x==5)
    print ("hi");
else
    print ("no");
```

- (a) No (b) Hello (c) Hi (d) Error

Question No.15 : Identify the example in the given cycle:



- (a) Finite loop (b) Infinite loop (c) Selection structure (d) Repitaton structure

Question No.17 : The number of bytes in 1KB are:

- (a) 127 (b) 256 (c) 512 (d) 1024

Question No.19 : 1TB is equal to:

- (a) 1024KB (b) 1024MB (c) 1024GB (d) 1024B

Question No.21 : The images on a Scratch computer program screen are :

- (a) Sprite (b) Stage (c) Script (d) Code

Question No.23 : To start coding in Scratch we need to create something called:

- (a) Screen (b) Sprite (c) Stage (d) Script

Question No.2 : The ultimate purpose of robotics is to make:

- (a) Intelligent machines (b) Magnetic machines (c) Electric machines (d) Remote machines

Question No.4 : The best word processor for physically challenge users is:

- (a) Microsoft word (b) Dragon (c) Ragtime (d) Google Documents

Question No.6 : The method used for email authentication based on DNS TXT records is:

- (a) Password based (b) Certificate based
(c) Sender Policy Framework (d) Biometric based

Question No.8 : Platform that is used for Email is:

- (a) Microsoft Word (b) Microsoft Excel
(c) Microsoft Outlook (d) Microsoft Pwoerpoint

Question No.10 : To login gmail account, the credentials required are:

- (a) Date of Birth and Password (b) Address and Password
(c) Email and Password (d) Gender and Password

Question No.12 : A set of instructions for solving a problem or accomplishing a task is called:

- (a) Algorithm (b) Loop (c) Pattern (d) Flowchart

Question No.14 : The earth rotating around the sun is an example of:

- (a) Finite loop (b) Infinite loop (c) Selection structure (d) Sequential structure

Question No.16 : Determining input fitness for the correct output means:

- (a) Ignoring the input (b) Randomly selecting inputs
(c) Assessing input relevance (d) To modify input

Question No.18 : 1 byte is equal to:

- (a) 2 bits (b) 4 bits (c) 8 bits (d) 16 bits

Question No.20 : 1024ZB is equal to:

- (a) 1 Zetta Byte (b) 1 Yotta Byte (c) 1 Peta Byte (d) 1 Terra Byte

Question No.22 : The major elements of Scratch are:

- (a) 1 (b) 2 (c) 3 (d) 4

Question No.24 : The real-time collaboration and storage application is:

- (a) Google Meet (b) Gmail (c) Google Docs (d) Google Drive

Question No.25 : Plagiarizing an entire text is known as:

- (a) Self Plagiarism (b) Global Plagiarism
(c) Patchwork Plagiarism (d) Paraphrasing Plagiarism

Question No.27 : Presenting other's work or idea as your own is known as:

- (a) copyright (b) plagiarism
(c) piracy (d) cyberbullying

Question No.29 : Some common and most renowned example of a successful digital platform is:

- (a) Electronic media platform (b) Technological platform
(c) Social media platform (d) Political media platform

Question No.31 : The benefit of having a value proposition is:

- (a) to attract customers (b) to increase cost
(c) to reduce cost (d) to increase quality

Question No.26 : A music series can be protected by:

- (a) Licensing (b) Copyright (c) Plagiarism (d) Piracy

Question No.28 : One of the most important steps to run a successful business as a partnership is:

- (a) Business plan (b) Business card (c) Business qualification (d) Business profile

Question No.30 : The numbers of key components of a business plan are:

- (a) 5 (b) 7 (c) 9 (d) 11

Question No.32 : A process-oriented technique that focuses on preventing quality issues is:

- (a) Quality control (b) Quality assurance
(c) Product management (d) Product distribution

SUBJECTIVE PART(CRQs)

Question No: 33

- a) Differentiate between human and artificial intelligence. (2 Marks)
b) Describe any four uses of Robots. (4 Marks)
c) Define the term Emerging Technology and write the names of any two emerging technologies. (4 Marks)

Question No: 34

- a) Define the term E-mail. (2 Marks)
b) Write any six names of common platforms used for E-mail.(6 Marks)
c) Define E-mail protocol and describe any two types.(4 Marks)

Question No: 35

- a) Define the Brute force algorithm. (2 Marks)
b) Write down three characteristics of a standard algorithm. (3 Marks)
c) Write an algorithm to find whether a given number is a prime number or not. (5 Marks)

Question No: 36

- a) What is the script area in scratch? (2 Marks)
b) Write the four steps to convert decimal numbers into binary numbers. (4 Marks)
c) Define binary numbers system. Write down three steps of conversion of binary numbers into decimal numbers. (4 marks)

Question No: 37

- a) Define copyright law. (2 Marks)
b) Discuss any two types of plagiarism. (4 Marks)
c) Define biased digital media. Name any two types of media biases. (4 Marks)

SCHOOL BASED ASSESSMENT 2024

Model Paper

English Grade 7



[Paper A: 48 Marks, Paper B: 52 Marks, Total: 100 Marks] , Time = 3 hours

School Name: _____

Student Name : _____

Roll Number : _____

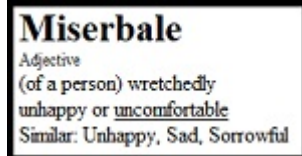
Section : _____

OBJECTIVE PART(MCQs)

Question No.1 : Look at the dictionary entry and answer the following question.

Which is the suitable meaning of the word 'Miserable'?

- (a) Uniform (b) Missile
(c) Depressed (d) Satisfied



Question No.3 : Fill in the blank with the correct 'Prefix'.

'Water and acids can harm ___protected wooden surface.'

- (a) il (b) un (c) in (d) dis

Question No.5 : What is the 'Plural' form of 'Cross-country'?

- (a) Crosses-country (b) Cross-countrys (c) Cross-countries (d) Crosses-countries

Question No.7 : Choose the correct pair of 'Homographs'.

- (a) Some/Sum (b) Male/Mail (c) Left/Left (d) Break/Brake

Question No.9 : Identify the underlined 'Phrase' of the sentence.

'The peaceful garden was a welcome respite from the city noise.'

- (a) Adverb (b) Prepositional (c) Adjective (d) Conjunctional

Question No.11 : Identify the 'Direct Object' in the following sentence.

'Zain gave Salman a ticket so he can leave Pakistan.'

- (a) Ticket (b) Salman (c) Leave (d) Pakistan

Question No.13 : Identify the type of underlined 'Verb'.

'This ocean looks calm this morning.'

- (a) Transitive Verb (b) Linking Verb (c) Action Verb (d) Helping Verb

Question No.15 : 'Burj Khalifa is _____ building in the world.'

- (a) most tall (b) taller than (c) the tallest (d) the most tall

Question No.17 : Identify the 'Tense' of the given sentence.

'Sir Syed Ahmad died on March 27, 1898, in Aligarh.'

- (a) Past Simple Tense (b) Present Simple Tense (c) Past Perfect Tense (d) Present Perfect Tense

Question No.19 : Complete the 'Analogy' . 'Tree is to climb as ocean is to ____.

- (a) fish (b) water (c) big (d) swim

Question No.21 : Select the sentence having 'Attributive Adjective'.

- (a) The green door opened slowly. (b) My mother looks tired. (c) The lake was calm and beautiful. (d) This area is dangerous.

Question No.23 : Choose the sentence with the correct use of 'Apostrophe'.

- (a) Fruit's nutrients help maintain health. (b) Fruit's nutrients's help maintain health.
(c) Fruit's nutrient's help maintain health. (d) Fruits's nutrients' help maintain health.

Question No.2 : 'The student needs to study for _____ test.'

- (a) its (b) his (c) her (d) their

Question No.4 : What is meant by the proverb 'A hard nut to crack'?

- (a) To be deceived (b) An easy task (c) Confirm truth (d) Difficult issue

Question No.6 : 'My uncle had been living _____ fifty years in Pakistan.'

- (a) from (b) for (c) since (d) ago

Question No.8 : Identify the sentence in which 'Article' is used correctly.

- (a) A positive attitude can help you through tough times. (b) A positive attitude can help you through tough an times.
(c) An positive attitude can help you through tough times. (d) Positive attitude can help you an through tough times

Question No.10 : Identify the 'Type of Sentence'. 'Respect your elders.'

- (a) Exclamatory (b) Imperative (c) Interrogative (d) Declarative

Question No.12 : Which sentence is 'Capitalized' correctly?

- (a) Hamna and Ahmad are twins who were born in april. (b) Hamna and Ahmad are Twins who were born in April.
(c) Hamna and Ahmad are twins who were born in April. (d) Hamna and ahmad are Twins who were born in April.

Question No.14 : 'Global temperature _____ increased due to pollution'.

- (a) has (b) have (c) are (d) were

Question No.16 : Select the correct 'Syllabic Division' of 'Reading'.

- (a) Read/ng (b) Rea/ding (c) Re/ading (d) Read/ing

Question No.18 : Which group of words has the silent 'B' ?

- (a) Label, Noble, Orbit (b) Table, Fiber, Cabin (c) Objects, Elbow, Fable (d) Comb, Lamb, Doubt

Question No.20 : 'I am grateful for my family. _____ supported me in my difficult times.'

- (a) He (b) They (c) It (d) Their

Question No.22 : Choose the correct 'Sentence Structure' of the given sentence.

'The baby is like a flower.'

- (a) SVO (b) SVOO (c) SVC (d) SVOC

Question No.24 : Identify the word with the 'Correct Spelling'.

- (a) Individual (b) Indivisual (c) Indevisual (d) Indevisual

Question No.25 : Identify the 'Figure of Speech' in 'Your voice sounds like nails on a chalkboard.'

- (a) Simile (b) Metaphor (c) Alliteration (d) Irony

Question No.26 : What does the acronym 'STEM' stands for?

- (a) Space Triangle Economic Modern (b) Science Traditional Education Ministry (c) Social Tourism English Method (d) Science Technology Engineering Math

Question No.27 : Identify the underlined part of the sentence.

'The best way to predict the future is to create it.'

- (a) Phrase (b) Clause (c) Sentence (d) Word

Paragraph Instruction

Read the following poem carefully and answer the questions given below.

Respecting elders is the key, To live a life of harmony.
With gentle words and loving hearts, They share their stories, their precious parts.
Their wrinkled hands and tired eyes, Hold a treasure trove, a priceless prize.
They've walked the path we're just starting, Their wisdom is truly heartwarming.
So let's be kind, let's be aware, To show our elders that we truly care.
Let's cherish them with utmost grace, And honor them in every place.



Question No. 28 : According to the poem, why respecting elders is important?

- (a) It helps us live a life of harmony. (b) It earns us their love and affection.
(c) It ensures we receive their precious parts. (d) They share with us stories of their past.

Question No.29 : How does the poem describe the wisdom of elders?

- (a) Cold (b) Frightening (c) Encouraging (d) Outdated

Question No.30 : What does the word 'Cherish' mean?

- (a) Ignore (b) Admire (c) Criticize (d) Disregard

Question No.31 : What is the message of the poem?

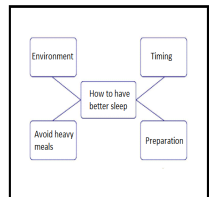
- (a) Burden on us and we should avoid them. (b) Possess wisdom and deserve respect.
(c) Irrelevant in our lives. (d) Always look toward us.

Question No.32 : What is the tone of the poem?

- (a) Heartwarming (b) Enigmatic (c) Indifferent (d) Patronizing

SUBJECTIVE PART(CRQs)

Question No.33 : Read the given mind map and write a paragraph of ten sentences on 'How to have Better Sleep'. Use correct grammar, punctuation and spelling. Marks (10)



Question No.34 : Write a letter to your mother expressing joy in achieving what you wanted. Use correct grammar, punctuation and spelling. Marks (10)

Question No.35 : The given paragraph has many errors in it. Rewrite it after corrections. Use correct grammar, punctuation and spelling. Marks (10)

Istanbul Though is considered one city, part of it sits on the continent of Europe, neighboring Greece and Bulgaria the other part sits on the continent of asia, neighboring Syria Iran and Iraq The result is a Cultural and ethnic melted pot, a city cosmopolitan with Greek Roman, Byzantine, Uttoman and modern structures Turkish —a skyline of domes and minarets mosques in, churchs, and synagogues, palaces, casals, and towers

Question No.36 : * Read the paragraph carefully and answer the questions. Use correct grammar, punctuation and spelling. Marks (10)

Maya loved to paint. She would spend hours daily drawing and painting, and she became very good at it. One day, she entered an art competition and won it. She was proud of herself. She spent all her time practicing and drawing, neglecting her schoolwork and friends. Her grades began to slip, and she lost touch with her friends. One day, Maya realized that she had become so obsessed with drawing that she had lost sight of what was important. She was upset about it. One of her cousins suggested her skip art for some time and focus on her studies and relationships. After this, she decided to take a break from drawing and focus on what she neglected. She started studying harder and spending time with her friends again. Maya realized that while it's important to have hobbies and interests, it's equally important to maintain a balance in our lives.

- 1)-What was Maya's hobby? Marks (2). 2)-What did her cousin suggest her to do? Marks (2). 3)-What was Maya's reaction to her cousin's suggestion? Marks (2). 4)-How did she realize the importance of balance in life? Marks (2). 5)-What is the theme of this paragraph? Marks (2)

Question No.37 : Reading fluency: Marks (04) - Instructions: Read the paragraph shown by your teacher correctly in one minute.

Question No.38 : Listening and Speaking: Marks (08)-Instructions: 1. Listen to the teacher and perform the activity.

SCHOOL BASED ASSESSMENT 2024

MODEL PAPER

History & Geography Grade 7

[Paper A: 48 Marks, Paper B: 52 Marks, Total: 100 Marks] , Time = 3 hours



School Name: _____

Student Name : _____

Roll Number : _____

Section : _____

OBJECTIVE PART(MCQs)

Question No.1 : Water covered the part of earth:

- (a) 71% (b) 78%
(c) 83% (d) 88%

Question No.3 : A flat land raised significantly above the ground surface is the characteristic of:

- (a) valley (b) plateau
(c) island (d) delta

Question No.5 : The most important cause of change in weather and raining is:

- (a) water vapours (b) water cycle
(c) humidity in the air (d) abundance of forests

Question No.7 : The settlement which is bigger than village and smaller than city is called:

- (a) metropolitan (b) city
(c) town (d) hamlet

Question No.9 : The agriculture contributes to the economy by:

- (a) importing agricultural goods (b) manufacturing agricultural equipments
(c) providing raw materials to industries (d) attracting tourists

Question No.11 : The most important Rabi crop in Pakistan is:

- (a) sugarcane (b) cotton
(c) wheat (d) maize

Question No.13 : The gas responsible for the rise in temperature of atmosphere is:

- (a) Carbon dioxide (b) Sulfur dioxide
(c) Nitrogen dioxide (d) Carbon mono oxide

Question No.15 : Extraction of valueable minerals and other materials from the Earth is called:

- (a) Mining (b) Geography
(c) Geology (d) Geodesy

Question No.17 : Solar energy, wind energy and hydro energy are helpful to generate:

- (a) natural gas (b) biogas
(c) electricity (d) petrol

Question No.19 : The printing machine was invented in:

- (a) 1430 CE (b) 1440 CE
(c) 1444 CE (d) 1450 CE

Question No.21 : The main purpose of Abbasid Caliph to go in public by disguising was:

- (a) awareness of public opinion (b) awareness of public issues
(c) monitoring the security systems (d) checking measuring instruments

Question No.2 : The suitable plain for agriculture is:

- (a) erosional (b) river
(c) glacial (d) coastal

Question No.4 : Atmospheric temperature remains moderate because of:

- (a) water cycle (b) earth cycle
(c) weather cycle (d) light cycle

Question No.6 : The city established due to port is:

- (a) Islamabad (b) Gawadar
(c) Quetta (d) Lahore

Question No.8 : In the rural settlements, most of the people occupation is:

- (a) trade (b) fishing
(c) mining (d) agriculture

Question No.10 : The country depends on 83% irrigation agriculture is:

- (a) America (b) Iran
(c) India (d) Pakistan

Question No.12 : The phenomenon that primarily contributes to the increasing temperature and climate change on earth is:

- (a) volcanic emissions (b) dust and fog
(c) dust and smoke (d) greenhouse gases

Question No.14 : Excessive use of fossil fuels is rapidly increasing the gas in atmosphere:

- (a) Oxygen (b) Nitric oxide
(c) Sulphur dioxide (d) Carbon dioxide

Question No.16 : In hilly areas, the energy generated on large scale is:

- (a) Solar Energy (b) Hydro Energy
(c) Wind Energy (d) Thermal Energy

Question No.18 : The most important concern for coal miners is:

- (a) mine depth (b) coal dust
(c) old equipments (d) shortage of capital

Question No.20 : In the Middle Ages, students were taught to read and write:

- (a) English language (b) Greek language
(c) Latin language (d) Italian language

Question No.22 : Abbasid era was the golden era of Islam because of the progress in:

- (a) Science, Mathematics, Medicine and Art (b) Science, Sociology, Chemistry and Art
(c) Science, Civics, Physics and Art (d) Science, Banking, Geography and Art

Question No.23 : Seljuk Dynasty foundation was laid by:

- (a) Tughlaq Baig & Senjri Baig (b) Alp Arsalan
(c) Malik Shah I (d) Malik Shah II

Question No.25 : First Battle of Panipat in 1526 was fought between:

- (a) Ibrahim Lodhi and Zaheer-ud-Din Babar (b) Daulat Khan Lodhi and Zaheer-ud-Din Babar
(c) Bahlul Khan Lodhi and Zaheer-ud-Din Babar (d) Rana Sanga and Zaheer-ud-Din Babar

Question No.27 : The king who spent time as a prisoner in Rangoon was:

- (a) Zaheer-ud-Din Babar (b) Noor-ud-Din Jehangir
(c) Jalal-ud-Din Akbar (d) Bahadur Shah Zafar

Question No.29 : Muslims suffered politically, culturally and economically after the:

- (a) Second War of Panipat (b) Buxar War
(c) Kanwaha War (d) War of Independence 1857

Question No.31 : William Caxton introduced the printing press in Britain in:

- (a) 1466 CE (b) 1476 CE
(c) 1486 CE (d) 1496 CE

Question No.24 : Nur-ud-Din Muhammad Jahangir was successor of:

- (a) Qutb-ud-Din Aibak (b) Jalal-ud-Din Akbar
(c) Zaheer-ud-Din Babar (d) Naseer-ud-Din Humayun

Question No.26 : Rajput princes fought Battle of Kanwaha under the leadership of:

- (a) Bahlul Lodhi (b) Ibrahim Lodhi
(c) Rana Sanga (d) Rana Kumara

Question No.28 : The Mamluk dynasty ruled over the:

- (a) small parts of East Asia (b) large parts of South Asia
(c) small parts of Western Asia (d) large parts of Western Asia

Question No.30 : The main reason of Mughal's attack on Subcontinent was:

- (a) disunity among the Lodhi nobles (b) weak army of Lodhis
(c) Expansionism (d) Acquisition of wealth

Question No.32 : Mostly changes have been occurred in Europe during the:

- (a) 13th and 14th centuries CE (b) 15th and 16th Centuries CE
(c) 17th and 18th Centuries CE (d) 19th and 20th centuries CE

SUBJECTIVE PART(CRQs)

Question No: 33

a) How dams affect the river and its environment? (Marks 05)

b) Describe the importance of Delta.(Marks 05)

Question No: 34

a) Elaborate the importance of canal system in agriculture of Pakistan. (Marks 05)

b) Write down the suitable condition for the rice crop. (Marks 05)

Question No: 35

a) Analyze the importance of preserving and maintaining the ozone layer for the well-being of life on Earth. (Marks 05)

b) Analyze the impact of the use of Chloro-Flouro-Carbon (CFCs) on the depletion of the ozone layer. (Marks 05)

Question No: 36

a) Describe the daily life of people in Europe during the Middle Ages. (Marks 06)

b) Explain the different trades which were made during Middle Ages in Europe.(Marks 06)

Question No: 37

a) Explain the chain of justice. (Marks 05)

b) Write a short on Taj Mahal. (Marks 05)

Result.pk

SCHOOL BASED ASSESSMENT 2024

MODEL PAPER

Islamiat Grade 7

[Part A: 48 Marks Part B: 52 Marks Total: 100 Marks] , Time = 3 hours



School Name: _____

Student Name : _____

Roll Number : _____

Section : _____

حصہ اول: معروفی سوالات

سوال نمبر 1: "فِيهَا كُتُبٌ بَيِّنَةٌ" سورت کی آیت مبارکہ ہے:

- (a) التین کی (b) العلق کی (c) القدر کی (d) الہدیٰ کی
(a) درود پاک (b) اشعار (c) استغفار (d) وظائف

سوال نمبر 3: مسیلہ کذاب کو ان کے حکم سے ختم کیا گیا:

- (a) حضرت ابو بکر صدیق رضی اللہ تعالیٰ عنہ کے (b) حضرت عمر فاروق رضی اللہ تعالیٰ عنہ نے
(c) حضرت عثمان غنی رضی اللہ تعالیٰ عنہ کے (d) حضرت علی المرتضیٰ رضی اللہ تعالیٰ عنہ کے

سوال نمبر 5: روزہ کے ذریعے انسان میں اعمال کی جو بدیہی کے حوالہ سے پیدا ہونے والی فکر کو کہتے ہیں:

- (a) شجاعت (b) غم (c) خشوع (d) تقویٰ
(a) رب تمہاری دعا (b) دعا مانگنا اچھا کام (c) رب تمہاری دعا (d) اپنے رب سے دعا
سنتا ہے ہے قبول کرتا ہے مانگو

سوال نمبر 7: غزوہ خندق میں کفار کی میدان سے فرار کی وجہ تھی:

- (a) بارش (b) زلزلہ (c) قحط سالی (d) آندھی

سوال نمبر 9: یہودیوں کی قوت کو توڑنے میں سب سے زیادہ معاون ثابت ہوا:

- (a) غزوہ بنو قریظہ (b) غزوہ بنو نضیر (c) غزوہ بنو نضیر (d) غزوہ خندق
(a) صلح حدیبیہ پیش خیمہ ثابت ہوئی:

سوال نمبر 12: صلح حدیبیہ سے ہم بنیادی طور پر سیکھتے ہیں:

- (a) علم اعداد (b) علم نجوم (c) علم نافع (d) علم غیر نافع
(a) کفایت شعاری (b) خدمت خلق (c) ایفائے عہد (d) سخاوت

سوال نمبر 11: وہ علم جس سے انسانیت کو فائدہ ہو، کہلاتا ہے:

- (a) سیاحت کا (b) سفارت کاری کا (c) ایمانداری کا (d) صبر کا
(a) سبھانے کا بہترین طریقہ ہے:

- (a) دلیل کا (b) بحث کا (c) جلدی بولنے کا (d) اونچا بولنے کا

سوال نمبر 15: دین اسلام کے مطابق بہترین کام ہیں:

- (a) شہرت والے (b) طاقت والے (c) جلدی والے (d) اعتدال والے
(a) عاجزی (b) مشقت (c) سخاوت (d) میانہ روی

سوال نمبر 18: سوال کرنے کی اجازت دینا، علم کے حصول میں ہے:

- (a) وقت کا ضیاع (b) اضافی گفتگو (c) غیر نصابی سرگرمی (d) مددگار

سوال نمبر 17: ہجرت مدینہ کے بعد انصار کا مہاجرین کی آباد کاری میں حصہ لینا ہمیں عملی زندگی میں ترغیب دیتا ہے کہ ہم دوسروں کی کریں:

- (a) اصلاح (b) مدد (c) عزت (d) تربیت

سوال نمبر 20: ریاکاری کی نیکی کا مقصد ہوتا ہے:

- (a) رضائے الہیٰ کا حصول (b) لوگوں کی خوشی (c) آخرت میں کامیابی (d) نیکی میں سبقت

سوال نمبر 19: رسول اللہ خاتم النبیین صَلَّی اللہُ عَلَیْہِ وَاٰلِہٖ وَسَلَّمَ نے انبیاء علیہم السلام کا وارث قرار دیا ہے:

- (a) علماء کو (b) عابدین کو (c) مجاہدین کو (d) طلباء کو

سوال نمبر 21: مدینہ منورہ میں مہمان خانے کے لیے گھر استعمال ہوتا تھا:

- (a) خدمت گزاری کا (b) حاجت روائی کا (c) نظم و ضبط کا (d) انفرادیت کا

- (a) حضرت رملہ رضی اللہ تعالیٰ عنہا کا (b) حضرت ام ہانی رضی اللہ تعالیٰ عنہا کا
(c) حضرت صفیہ رضی اللہ تعالیٰ عنہا کا (d) حضرت بریرہ رضی اللہ تعالیٰ عنہا کا

سوال نمبر 23: دعاؤں کی قبولیت کے لیے ہمیں اہتمام کرنا چاہیے:

- (a) حلال روزی کا (b) سخاوت کا (c) میانہ روی کا (d) قناعت کا
(a) خیانت سے (b) جھوٹ سے (c) بدگمانی سے (d) غیبت سے

سوال نمبر 25: اہمات المؤمنین سے مراد یہویاں ہیں:

- (a) حضرت ابراہیم علیہ السلام کی (b) حضرت موسیٰ علیہ السلام کی
(c) حضرت محمد رسول اللہ خاتم النبیین صَلَّی اللہُ عَلَیْہِ وَاٰلِہٖ وَسَلَّمَ کی (d) حضرت یوسف علیہ السلام کی

سوال نمبر 27: حضرت ابو ہریرہ رضی اللہ تعالیٰ عنہ کا لقب "سلطان الحدیث" ظاہر کرتا ہے:

(a) جہاد سے محبت (b) فقہ سے محبت (c) نماز سے محبت (d) حدیث سے محبت

سوال نمبر 28: ہمیں صوفیہ کرام رحمۃ اللہ تعالیٰ علیہم کے نقش قدم پر چلنا چاہیے تاکہ حاصل کریں:

(a) نفس کی پاکیزگی (b) دولت (c) بہادری (d) اقتدار

سوال نمبر 29: طارق بن زیاد کی زندگی سے سبق اخذ ہوتا ہے:

(a) ظلم برداشت (b) مظلوم کی حمایت کا (c) ناحق ظلم کرنے کا (d) مظلوم کو نظر انداز کرنے کا

سوال نمبر 30: اللہ تعالیٰ کے فرمان "اقْرَأْ بِسْمِ رَبِّكَ الَّذِي خَلَقَ" میں حکم دیا گیا ہے:

(a) سمجھنے کا (b) سننے کا (c) پڑھنے کا (d) لکھنے کا

سوال نمبر 31: قرآن مجید میں زمین و آسمان کے نظام میں ہمارے لیے سبق ہے:

(a) فخر کا (b) عبادت کا (c) اخلاق کا (d) غور و فکر کا

سوال نمبر 32: حدیث مبارک کے مطابق جو کسی مسلمان کے عیب چھپائے گا اللہ تعالیٰ اس کے عیب چھپائے گا:

(a) دنیا میں (b) قبر میں (c) قیامت میں (d) جنت میں

حصہ دوم: انشائیہ سوالات

سوال نمبر 33

(i) صوم کا معنی اور مفہوم بیان کریں۔ (2)

(ii) ماہ رمضان کی برکت و فضیلت پر جامع نوٹ لکھیں۔ (4)

(iii) روزے کے روحانی، جسمانی اور معاشرتی فوائد کا جائزہ لیں۔ (4)

سوال نمبر 34

(i) آپ خاتم النبیین صَلَّی اللہُ عَلَیْہِ وَاٰلِہٖ وَاٰحْضَیْہٖ وَسَلَّمَ کا مدیہ کے مقام پر پڑاؤ ڈالنے کی وجہ بیان کریں۔ (2)

(ii) بیعت رضوان کے بارے میں آپ کیا جانتے ہیں، مختصر بیان کریں۔ (5)

(iii) صلح حدیبیہ سے ہمیں کیا پیغام ملتا ہے جس سے ہم اپنی عملی زندگی میں دینی، معاشی اور سیاسی فوائد حاصل کر سکتے ہیں؟ (5)

سوال نمبر 35

(i) سخاوت کی تعریف لکھیں۔ (3)

(ii) حضرت عثمان رضی اللہ تعالیٰ عنہ کی زندگی سے سخاوت کا کوئی ایک واقعہ لکھیں۔ (3)

(iii) سخاوت کے کوئی چار فوائد لکھیں۔ (4)

سوال نمبر 36

(i) صحابہ کرام رضی اللہ تعالیٰ عنہم سے مراد کون سی ہستیاں تھیں؟ (2)

(ii) حضرت زید بن ثابت رضی اللہ تعالیٰ عنہ کی دینی خدمات بیان کریں۔ (4)

(iii) حضرت عبد اللہ بن عمر رضی اللہ تعالیٰ عنہ کی زندگی میں ہمارے لیے کیا سبق ہے؟ (4)

سوال نمبر 37

(i) امن عامہ کا مفہوم بیان کریں۔ (2)

(ii) قرآن و حدیث کی روشنی میں امن عامہ کی اہمیت بیان کریں۔ (4)

(iii) روزمرہ زندگی میں امن و امان برقرار رکھنے کے لئے ایک انسان کو کیا کرنا چاہیے؟ (4)

Result.pk

SCHOOL BASED ASSESSMENT 2024

MODEL PAPER

Mathematics Grade 7

[Paper A: 48 Marks, Paper B: 52 Marks, Total: 100 Marks] , Time = 3 hours



School Name: _____

Student Name : _____

Roll Number : _____

Section : _____

OBJECTIVE PART(MCQs)

Question No.1 : The absolute value of -10 is :

- (a) 9 (b) 10
(c) 11 (d) -10

Question No.3 : Identify correct statement:

- (a) $-9999 < -10000$ (b) $-9999 > -10000$
(c) $-9999 = -10000$ (d) $-9999 \leq -10000$

Question No.5 : Hina bought $\frac{69}{6}$ litre cooking oil. She used $\frac{9}{2}$ litre oil for cooking. The oil left with her is:

- (a) 7 litre (b) 10 litre
(c) 15 litre (d) 30 litre

Question No.7 : By Rounding 25.587 to 2 decimal places, we get:

- (a) 25.58 (b) 25.59
(c) 25.50 (d) 25.69

Question No.9 : If the old price of a book was Rs 800 and new price is Rs 1200, then the ratio of increased price will be:

- (a) 3:4 (b) 3:3
(c) 3:2 (d) 3:1

Question No.11 : If the length of one side of a square shaped table is 4.5 m. Then area of a plastic sheet to cover the table will be:

- (a) $9 m^2$ (b) $18 m^2$
(c) $20.25 m^2$ (d) $22.25 m^2$

Question No.13 : If the general term of a sequence is $a_n = 3n + 1$, then its 15^{th} term will be:

- (a) 16 (b) 19
(c) 45 (d) 46

Question No.15 : The product of $3xy$ and $3x^3 + 4xy$ is:

- (a) $9x^3 + 4xy$ (b) $9x^3 + 12xy$
(c) $9x^2y^2 + 12x^4y$ (d) $9x^4y + 12x^2y^2$

Question No.17 : Factorization of $3xy - 9x^2y^3$ is:

- (a) $3xy(1 - 3xy^2)$ (b) $3xy(xy - 3xy^2)$
(c) $3xy(1 - 3xy)$ (d) $3xy(xy - 9xy^2)$

Question No.19 : The point (2,6) lies in the quadrant:

- (a) I (b) II
(c) III (d) IV

Question No.21 : Centimetres in 62 metres are:

- (a) 0.0062 (b) 0.062
(c) 6200 (d) 62000

Question No.23 : If a car covers 800 meter in 40 second, then its speed will be:

- (a) 15 m/s (b) 20 m/s
(c) 25 m/s (d) 30 m/s

Question No.2 : The place value of 4 in 74653 is:

- (a) 4 (b) 40
(c) 400 (d) 4000

Question No.4 : The LCM of 5,10 and 15 is:

- (a) 15 (b) 20
(c) 30 (d) 35

Question No.6 : The property in the equation

$$\left(\frac{2}{5} + \frac{3}{7}\right) + \frac{5}{9} = \frac{2}{5} + \left(\frac{3}{7} + \frac{5}{9}\right) \text{ is:}$$

- (a) Commutative property w.r.t. addition (b) Associative property w.r.t. addition
(c) Distributive property of multiplication over addition (d) Associative property w.r.t. multiplication

Question No.8 : Bilal earns Rs 4500 in 9 days. He will earn in one day:

- (a) Rs 450 (b) Rs 500
(c) Rs 550 (d) Rs 600

Question No.10 : If the area of square shaped garden is $289 m^2$, then length of one side of garden will be:

- (a) 13 m (b) 15 m
(c) 17 m (d) 19 m

Question No.12 : The general term of the sequence 7, 9, 11... is:

- (a) $2n - 2$ (b) $2n - 4$
(c) $2n + 5$ (d) $2n + 4$

Question No.14 : The sum of the polynomials $2x^2 + 4x + 3$ and $4x^2 - 8x + 12$ is:

- (a) $2x^2 + 12x + 15$ (b) $6x^2 + 6x + 15$
(c) $2x^2 - 12x + 15$ (d) $6x^2 - 4x + 15$

Question No.16 : The solution of $2x(x + y) - 6y(x + y)$ is:

- (a) $2x^2 + 4xy - 6y^2$ (b) $2x^2 - 4xy - 6y^2$
(c) $2x^2 + 8xy - 6y^2$ (d) $2x^2 - 8xy - 6y^2$

Question No.18 : The solution of $3x + 2 = 11$ is:

- (a) 2 (b) 3
(c) 9 (d) 13

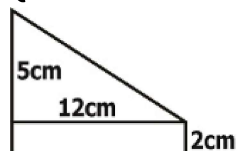
Question No.20 : The linear equation for the statement "the sum of two numbers is 90" will be:

- (a) $x + y = 90$ (b) $x - y = 90$
(c) $x + y = -90$ (d) $x - y = -90$

Question No.22 : 108km/h in m/s will be:

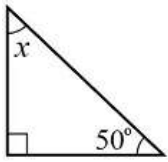
- (a) 30m/s (b) 31m/s
(c) 32m/s (d) 33m/s

Question No.24 : The area of given figure is:



- (a) $20 cm^2$ (b) $24 cm^2$
(c) $30 cm^2$ (d) $54 cm^2$

Question No.25 : The value of angle x in the given figure is:



- (a) 30° (b) 40°
 (c) 50° (d) 60°

Question No.27 : A polygon having at least one reflex angle is called:

- (a) Rectangle (b) Convex
 (c) Square (d) Concave

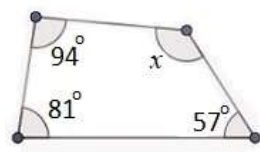
Question No.29 : The order of rotational symmetry of a regular octagon is:

- (a) 4 (b) 8
 (c) 12 (d) 16

Question No.31 : The mode of given data 3,4,3,5,6,3,7 is:

- (a) 3 (b) 5
 (c) 6 (d) 7

Question No.26 : The value of angle x in the given figure is:



- (a) 108° (b) 118°
 (c) 128° (d) 138°

Question No.28 : Sum of the interior angles of a kite is:

- (a) 90° (b) 180°
 (c) 270° (d) 360°

Question No.30 : Example of continuous data is:

- (a) Number of students (b) Number of toys
 (c) Height of a students (d) Number of houses in a street

Question No.32 : If a dice is rolled, then probability of getting 6 is:

- (a) $\frac{1}{6}$ (b) $\frac{5}{6}$
 (c) $\frac{2}{3}$ (d) $\frac{1}{3}$

SUBJECTIVE PART(CRQs)

Question No: 33

a) Verify: $(\frac{2}{5} + \frac{3}{10}) + \frac{9}{20} = \frac{2}{5} + (\frac{3}{10} + \frac{9}{20})$. (5 marks)

b) If $U = \{5, 6, 7, 8, \dots, 25\}$ and $A = \{7, 9, 13, 17, 21, 24\}$ then prove that $A \cup A^c = U$ (5 marks)

Question No: 34

a) Ahmad bought a motorcycle for Rs 55000. After few months he sold his motorcycle for Rs 50000. Find his loss percentage. (5 marks)

b) The general term of a sequence is $a_n = \frac{5}{3n+9}$. Find 27th term. (5 marks)

Question No: 35

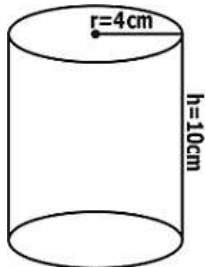
a) Subtract $x^2 + 4x + 8$ from the sum of $3x^2 - 8x - 7$ and $2x^2 - 6x + 12$. (5 marks)

b) Solve the linear equation $-2(2x + 5) = 2(-x - 9) - 4x$. (5 marks)

Question No: 36

a) A bike covers a distance of 160km in 2 hours. Find its speed in km/h. (5 marks)

b) Find surface area of the given cylinder. (5 marks)



Question No: 37

a) Construct a triangle PQR when $\overline{mPQ} = 4\text{cm}$, $\overline{mQR} = 3.5\text{cm}$ and $m\angle Q = 60^\circ$. (7 marks)

b) The table below shows the weights (in kg) of members in a sports club. Calculate the mean of weights. (5 marks)

Masses	42-48	49-55	56-62	63-69	70-76	77-83
Frequency	6	8	12	14	7	3

SCHOOL BASED ASSESSMENT 2024

MODEL PAPER Science Grade 7



[Paper A: 48 Marks, Paper B: 52 Marks, Total: 100 Marks] , Time = 3 hours

School Name: _____

Student Name : _____

Roll Number : _____

Section : _____

OBJECTIVE PART(MCQs)

Question No.1 : The most suitable temperature for photosynthesis is:

- (a) 10 – 15 °C (b) 15 – 20 °C (c) 20 – 25 °C (d) 25 – 35 °C

Question No.3 : Which part of the root protects the newly born soft cells from damage?

- (a) Tap root (b) Root cap (c) Root hairs (d) Fibrous roots

Question No.5 : Which of the following is NOT a part of the circulatory system?

- (a) Heart (b) Kidney (c) Vein (d) Artery

Question No.7 : Plasma without fibrinogen (blood clotting proteins) and blood cells is called:

- (a) red blood cells (b) serum
(c) white blood cells (d) platelets

Question No.9 : Which of the following diseases is caused by bacteria?

- (a) Measles (b) Polio (c) Diarrhoea (d) Hepatitis

Question No.11 : Which statement is true about tonsils? These:

- (a) store white blood cells (b) filter the blood
(c) swell up in response to infection (d) produce specific lymphocytes

Question No.13 : How many protons are there in silicon atom?

- (a) 12 (b) 13 (c) 14 (d) 15

Question No.15 : Which of the following methods causes rusting of iron?

- (a) Applying oil (b) Forming alloy
(c) Applying paint (d) Placed in water

Question No.17 : Which bond is formed between sodium and chlorine?

- (a) Ionic bond (b) Covalent bond
(c) Single covalent bond (d) Double covalent bond

Question No.19 : A solution that contains a relatively less amount of solute is a _____ solution.

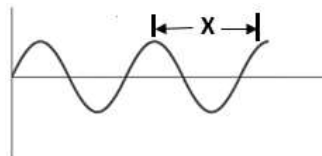
- (a) concentrated (b) dilute (c) saturated (d) normal

Question No.21 : In which unit, speed is measured?

- (a) joule (b) newton
(c) volt (d) meter per second

Question No.23 : In the given image, labelled part "X" represents:

- (a) amplitude
(b) time period
(c) wavelength
(d) frequency



Question No.25 : The particles of the medium vibrate perpendicular to the direction of waves. These waves are called:

- (a) longitudinal waves (b) transverse waves
(c) sound waves (d) ultrasound waves

Question No.2 : Which of the following is necessary for the process of respiration?

- (a) Glucose and oxygen (b) Water and carbon dioxide
(c) Glucose and nitrogen (d) Water and oxygen

Question No.4 : Which phenomenon takes place for the natural rise of water in plants?

- (a) Translocation (b) Transpiration (c) Respiration (d) Photosynthesis

Question No.6 : Which type of blood cells helps the body to fight infection and other diseases?

- (a) Red blood cells (b) Platelets (c) White blood cells (d) Plasma cells

Question No.8 : The exchange of materials between the body cells and blood cells is done by:

- (a) arteries (b) veins (c) capillaries (d) vanules

Question No.10 : Secretion of the stomach that kills the pathogens present in the food is called:

- (a) mucus (b) sebum (c) saliva (d) gastric juice

Question No.12 : Which of the following is NOT a way of preventing an infection?

- (a) Wearing mask (b) Taking a bath daily
(c) Keeping our home clean (d) Unwashed hands before eating

Question No.14 : The number of electrons in the L-shell of the fluorine atom is:

- (a) 6 (b) 7 (c) 8 (d) 9

Question No.16 : Identify the gas that causes rusting of iron in the moist air.

- (a) CO₂ (b) O₂ (c) H₂ (d) N₂

Question No.18 : What is the chemical formula of sulphuric acid?

- (a) H₃ SO₃ (b) H₂ SO₄ (c) H₄ SO₄ (d) H₄ SO₃

Question No.20 : Which of the following is an example of gas-liquid solution?

- (a) Air (b) Fizzy drinks (c) Brass (d) Bronze

Question No.22 : How does force affect the motion of an object in terms of speed?

- (a) Increases speed (b) Decreases speed
(c) Stops the object (d) Changes the direction

Question No.24 : Which of the following factors does NOT affect the loudness of sound?

- (a) Surface area (b) Distance (c) Amplitude (d) Frequency

Question No.26 : Which energy is lost when an object is placed in the freezer?

- (a) Kinetic energy (b) Thermal energy
(c) Potential energy (d) Mechanical energy

Question No.27 : Among all temperature scales, only the Celsius scale is termed as:

- (a) fahrenheit scale
- (b) centigrade scale
- (c) kelvin scale
- (d) absolute scale

Question No.29 : Which of the following is the best pair of preservatives used to preserve food?

- (a) Salt and vinegar
- (b) Cloves and water
- (c) Sugar and honey
- (d) Cinnamon and cardamom

Question No.31 : Which of the following objects pulls the ocean water more strongly?

- (a) Star
- (b) Earth
- (c) Sun
- (d) Moon

Question No.28 : Wood is not a good conductor of heat because it has:

- (a) free electrons
- (b) fixed electrons
- (c) smooth surface
- (d) soft surface

Question No.30 : In mango pickles, the growth of microorganisms can be prevented by:

- (a) adding water into it
- (b) drying/dehydrating it
- (c) covering it
- (d) packing it in tin canes

Question No.32 : If there is winter in one hemisphere, what will be the season in other hemisphere?

- (a) Summer
- (b) Winter
- (c) Spring
- (d) Autumn

SUBJECTIVE PART(CRQs)

Question No: 33

- a) Write the names of the two upper chambers of the human heart. (2 Marks)
- b) Define respiration and also write the names of its two types. (2+2=4 Marks)
- c) Write one function of each of the following. (4 Marks)
1. Red blood cells 2. White blood cells 3. Platelets 4. Plasma

Question No: 34

- a) Define immune system. (2 Marks)
- b) How does the adaptive immunity develop in an individual? Explain. (4 Marks)
- c) Write any four ways to prevent infections. (4 Marks)

Question No: 35

- a) Define valency. (2 Marks)
- b) Write the chemical formulas of the given compounds based on their valency. (4 Marks)
1. Sodium sulphate, 2. Aluminium chloride
- c) How electrons are lost and gained in the formation of sodium chloride? (4 Marks)

Question No: 36

- a) Define wave and give an example. (3 Marks)
- b) Write two differences between mechanical and electromagnetic waves. (6 Marks)
- c) How transverse waves are different from longitudinal waves? (3 Marks)

Question No: 37

- a) Write any two methods to preserve food. (2 Marks)
- b) Write the names of any three materials required to make and preserve lemon pickles. (3 Marks)
- c) Write five steps involved in making and preserving mango pickles. (5 Marks)

Result.pk

SCHOOL BASED ASSESSMENT 2024

MODEL PAPER

TARJUMA-TUL-QURAN-UL

MAJEED Grade 7



[Part A:10 Marks Part B: 40 Marks Total: 50 Marks] , Time = 3 hours

School Name: _____

Student Name : _____

Roll Number : _____

Section : _____

حصہ اول: معروضی سوالات

سوال نمبر 2: سورۃ الطارق کا یہ نام رکھا گیا کیوں کہ اس میں ذکر ہے:

- (a) رات کے تارے کا (b) تخلیق آدم کا (c) نظام کائنات کا (d) یوم آخرت کا

سوال نمبر 1: سورۃ النزلت کی تعلیمات پر عمل پیرا ہو کر ہم تیار کرتے ہیں:

- (a) جہاد کی (b) آخرت کی (c) امتحان کی (d) سفر کی

سوال نمبر 4: واضح اور روشن دلائل آنے کے باوجود لوگوں کے ایمان نہ لانے کی وجہ ہے:

- (a) ضد (b) لاعلمی (c) نادانی (d) لاپرواہی

سوال نمبر 3: غاشیہ کا معنی ہے:

- (a) ڈوب جانے والی (b) کھا جانے والی (c) چھپ جانے والی (d) چھا جانے والی

سوال نمبر 6: ابوالانبیاء سے مراد ہے:

- (a) انبیاء کے خطیب (b) انبیاء کے امام (c) انبیاء کے باپ (d) انبیاء کے فخر

سوال نمبر 5: سورۃ النکاح کے مطابق انسان کی آخرت سے غفلت کی وجہ ہے:

- (a) مال کی محبت (b) اولاد کی محبت (c) عہدے کی ذمہ داریاں (d) کاروباری مصروفیت

سوال نمبر 8: حضرت موسیٰ علیہ السلام کی والدہ کی جانب سے آپ کو دریا میں ڈالنے کا مقصد تھا کہ آپ علیہ

السلام محفوظ رہیں:

- (a) قدرتی آفات سے (b) وبائی امراض سے (c) فرعون کے شر سے (d) مفلسی سے

سوال نمبر 7: حضرت ابراہیم علیہ السلام کے آگ میں ڈالے جانے کے واقعہ سے ہم سبق سیکھتے ہیں:

- (a) ہمدردی کا (b) توکل علی اللہ کا (c) محنت کا (d) سخاوت کا

سوال نمبر 10: ایک دن روزہ رکھنا اور ایک دن افطار کرنا سنت تھی:

- (a) حضرت آدم علیہ السلام کی (b) حضرت ابراہیم علیہ السلام کی (c) حضرت اسماعیل علیہ السلام کی (d) حضرت داؤد علیہ السلام کی

سوال نمبر 9: بنی اسرائیل کے لیے اتارا گیا:

- (a) براق (b) حجر اسود (c) من و سلویٰ (d) آب زم زم

حصہ دوم: انشائیہ سوالات

سوال نمبر 11

(i) درج ذیل میں سے پانچ سوالوں کے مختصر جواب لکھیں۔ (2x5=10)

زمانہ جاہلیت کی کسی ایک وحشیانہ رسم کے متعلق لکھیں؟ (2)

(ii) سورۃ البلد کو یہ نام کیوں دیا گیا ہے؟ (2)

(iii) حضرت ابراہیم علیہ السلام نے عراق سے ہجرت کیوں کی؟ (2)

(iv) سورۃ الاعلیٰ کے مطابق کامیاب انسان کون ہے؟ (2)

(v) سورۃ البروج کا مرکزی مضمون کیا ہے؟ (2)

(vi) حضرت موسیٰ علیہ السلام کی دعوت و تبلیغ سے ہمیں کیا راہنمائی ملتی ہے؟ (2)

(vii) حضرت داؤد علیہ السلام کا عبادت کا معمول کیا تھا؟ (2)

(viii) حضرت ابراہیم علیہ السلام کو تمام آسمانی مذاہب میں قابل تعظیم کیوں سمجھا جاتا ہے؟ (2)

سوال نمبر 12

(i) اَلْاَرْضُ اَشْتَاتًا | بَعَثُوا | اَلْمَبْشُورَاتُ

(ii) سَوَّفَ | اَلْحَسْبُ | يَحْسَبُ

سوال نمبر 13

(i) درج ذیل میں سے کوئی سے تین اجزاء کا با محاورہ ترجمہ لکھیں۔ (5x3=15)

اِذَا دُرِّيَتْ اَلْاَرْضُ زَلْزَالَهَا ۗ وَاَخْرَجَتْ اَلْاَرْضُ اَنْفَاكَهَا ۗ وَقَالَ اِنْمَا مَا كَانَتْ (5)

(ii) وَإِنَّهُ لِحُبِّ الْخَيْرِ لَشَدِيدٌ ۗ أَفَلَا يَعْلَمُ إِذَا بُعِثُوا فِي الْقُبُورِ ۗ وَحُصِّلَ مَا فِي الصُّدُورِ ۗ (5)

(iii) الْقَارِعَةُ ۗ مَا الْقَارِعَةُ ۗ وَمَا أَذْرَكَ مَا الْقَارِعَةُ ۗ يَوْمَ يَكُونُ النَّاسُ كَالْفَرَاشِ الْمَبْتُوثِ ۗ (5)

(iv) كَلَّا لَوْ تَعْلَمُونَ عِلْمَ الْبَاقِينَ ۗ لَتَرَوُنَّ الْجَحِيمَ ۗ ثُمَّ لَتَرَوْهَا وَعَيْنَ الْبَاقِينَ ۗ (5)

(v) وَيَلْبَسُونَ حُلُومَ هَمَزَةٍ لَهْمَزَةٍ ۗ وَالَّذِي جَمَعَ مَالًا وَعَدَّدَهُ ۗ يَحْسَبُ أَنَّ مَالَهُ أَخْلَدَهُ ۗ (5)

سوال نمبر 14

(i) درج ذیل میں سے کسی ایک سوال کا جواب لکھیں۔ (10)

سورۃ الضحیٰ کے مضامین کی روشنی میں ہم اپنی عملی زندگیوں کو کیسے بہتر بناتے ہیں؟ (10)

(ii) حضرت موسیٰ علیہ السلام کی حیات مبارکہ کے مطالعہ سے ہم اپنی عملی زندگی میں کیا تبدیلی لاتے ہیں؟ (10)

Result.pk

SCHOOL BASED ASSESSMENT 2024

MODEL PAPER Urdu Grade 7



[Part A: 48 Marks Part B: 52 Marks Total: 100 Marks] , Time = 3 hours

School Name: _____

Student Name : _____

Roll Number : _____

Section : _____

حصہ اول: معروفی سوالات

سوال نمبر 1: ماضی قریب کے استعمال والا جملہ ہے:

- (a) قاصد بڑی دور سے پیغام لایا ہے۔ (b) قاصد بڑی دور سے پیغام لایا تھا۔
(c) قاصد بڑی دور سے پیغام لایا ہو گا۔ (d) قاصد بڑی دور سے پیغام لاتا ہے۔

سوال نمبر 3: ”عالیہ بہت شہر اترتی ہے۔ اس نے سب کو تنگ کر رکھا ہے۔“ اس کیفیت کو واضح کرنے کے لیے درست محاورہ ہے:

- (a) انیس بیس کا فرق ہونا (b) ناک میں دم کرنا (c) اللہ اللہ کرنا (d) تین پانچ کرنا
(a) ابن مریم ہوا کرے کوئی (b) دل کے خوش رکھنے کو غالب یہ خیال اچھا ہے
(c) بے خطر کو پڑا آتش نمرود میں عشق (d) آج بھی ہو جو ابر اہیم سائیاں پیدا

سوال نمبر 5: ”شاہد اچھا لڑکا ہے۔ وہ صبح سویرے سکول جاتا ہے۔ اُس کا رویہ اپنے اساتذہ کے ساتھ بہت اچھا ہے۔“ ان جملوں میں ”وہ اور اُس“ قواعد کی رُو سے ہیں:

- (a) اسم ضمیر حاضر (b) اسم ضمیر غائب (c) اسم ضمیر متکلم (d) اسم ضمیر تنکیری
(a) امر، زندگی (b) فطری، امر (c) اونچ، تنچ (d) اونچ، فطری

سوال نمبر 7: تذکیر و تانیث کے درست استعمال والا جملہ ہے:

- (a) گھاس کاٹی گئی۔ (b) بستر خریدی گئی۔ (c) دروازہ توڑی گئی۔ (d) وہی کھائی گئی۔
(a) ”علی گھر آیا۔“ ”حمزہ گھر سے چلا گیا۔“ ان جملوں سے بننے والا درست مرکب جملہ ہے:
(a) علی کے گھر آنے کے بعد حمزہ چلا گیا۔ (b) علی گھر آیا تو حمزہ گھر سے چلا گیا۔
(c) علی گھر آتے ہی وہاں سے حمزہ چلا گیا۔ (d) علی گھر آیا، حمزہ گھر سے چلا گیا۔

سوال نمبر 9: ”زمین سبز مٹھی قالین سے ڈھکی ہوئی تھی۔“ اس جملے میں استعمال ہوا ہے:

- (a) کنایہ (b) تلمیح (c) استعارہ (d) تشبیہ
(a) وہ سکول جا رہی ہیں۔ (b) ہم گو جز انوالد جا رہے ہیں۔
(c) وہ سکول جا رہی ہے۔ (d) وہ آم کھا رہے ہیں۔

سوال نمبر 11: متلازم الفاظ کے استعمال والا جملہ ہے:

- (a) یاسر صبح سات بجے سکول چلا گیا تھا۔ (b) ارشد نے آلو، پیٹنگن اور کرپلے خریدے۔
(c) قاطم نے بازار سے خریداری کی۔ (d) سکول میں مالی پودوں کو پانی دے رہا تھا۔
(a) سرخ بنی جل رہی ہو تو ہرگز گاڑی نہ چلائیں۔ (b) معاشرے میں رواداری اور تحمل کی ضرورت ہے۔
(c) گذر یاروز جھوٹ بولتا مگر ایک دن سچ بچ شیر آ (d) صحت کے لیے باقاعدگی سے ورزش کرنا چاہیے۔

سوال نمبر 13: ”ہم اتنے۔۔۔ جان نہیں ہیں۔“ سابقہ کے اعتبار سے جملہ کی درست تکمیل ہے:

- (a) با (b) نا (c) ان (d) نو

سوال نمبر 15: حرف نداء کے استعمال والا جملہ ہے:

- (a) کاش! تم نے محنت کی ہوتی۔ (b) اے لوگو! عدل و انصاف کرو۔
(c) آہا! ہم بیچ جیت گئے۔ (d) واہ! تم کامیاب ہو گئے۔
(a) کسی تحریر کا اقتباس (کٹوا) پیش کرتے وقت یا کسی کا قول پیش کرتے وقت اُس قول یا اقتباس کے شروع اور آخر میں علامت لگائی جاتی ہے:
(a) قوسین (()) (b) واوین (”) (c) تفصیلیہ (:-) (d) سوالیہ (?)

سوال نمبر 17: متضاد الفاظ کے استعمال والا جملہ ہے:

- (a) بڑے شہر میں بہت سے چوک ہوتے ہیں۔ (b) شکاری کا نشانہ چوک گیا اور فاختہ اُڑ گئی۔
(c) گاڑی چلاتے ہوئے چوک میں مجھ سے چوک (d) نیپل کی شہر کے مرکزی چوک میں ڈکان ہو گئی۔
(a) طلوع سحر کی (b) بدلنے موسم کی (c) چاندنی رات کی (d) موسم برسات کی

سوال نمبر 19: لفظ ”مناسب“ کا درست تلفظ ہے:

- (a) مَناسَب (b) مَناسَب (c) مَناسَب (d) مَناسَب
(a) روز، دن (b) ماہ، سال (c) پل، لمحہ (d) منٹ، گھنٹہ

سوال نمبر 21: ”تن کی لمبی چھوٹی..... کر دے سب کی بوٹی بوٹی“ اس پینیلی کی درست بوجھ ہے:

- (a) ہتھوڑی (b) قبینچی (c) چھری (d) چھری
(a) کم علمی جہالت کا دروازہ کھولتی ہے۔ (b) ایسا علم حاصل کریں جو نفع نہ دے۔
(c) خود پسند انسان علم پھیلا سکتا ہے۔ (d) بے اعتمادی ایک اچھی صفت ہے۔

سوال نمبر 23: ”حسن نے سڑک پر ایک حادثہ دیکھا جس میں بچے کے بازو کی ہڈی ٹوٹ گئی۔“ حسن اس صورت میں:

- (a) رونا شروع کر دے گا۔
(b) بازو کو باندھ دے گا۔
(c) ڈر کر بھاگ جائے گا۔
(d) پولیس کو بتائے گا۔

سوال نمبر 24: ”کشیر کی فضا نہ صرف صاف ستھری بلکہ صحت بخش بھی ہے۔ یہاں کا موسم انتہائی خوش گوار ہے۔“ موسم کے خوش گوار ہونے کی وجہ ہے:

- (a) پہاڑوں کی کمی
(b) یہاں ریت کا نہ ہونا
(c) علاقے کا پتھر پیلا ہونا
(d) درختوں کی کثرت

سوال نمبر 25: اسم معرفہ کے استعمال والا درست جملہ ہے:

- (a) وہ ایک عالمانہ سوچ کا حامل شخص ہے۔
(b) میرا دوست ایک ماہر سائنسی محقق ہے۔
(c) میرا شہر سکول اور کالجوں کا مرکز ہے۔
(d) مکہ میں قرآن کی عالمی کانفرنس ہوتی ہے۔

سوال نمبر 26: اک جگہ کیسے اکٹھے کر دیے ہیں سات رنگ / شوخ ہیں ساتوں کے ساتوں، اک نہیں ہے مات رنگ

- (a) دن کی روشنی اور خوب صورتی
(b) چاند کا چاندنی رات میں چمکانا
(c) دھنک کے خوب صورت رنگوں کا
(d) دھوپ اور چھاؤں کی خوب صورتی

سوال نمبر 27: ”تخل اور رواداری معاشرے میں بٹائے باہمی کے لیے ضروری ہے۔“ جملے میں ”تخل“ سے مراد ہے:

- (a) انتشار
(b) پُرا من
(c) خوشی
(d) برداشت

پیرا گراف ہدایات *

درج ذیل عبارت پڑھ کر نیچے دیے گئے سوالات کے درست جوابات کا انتخاب کریں۔

کشیر دنیا کے خوب صورت ترین مقامات میں شامل ہے۔ یہ خطہ ہندوستان، پاکستان اور چین کے درمیان واقع ہے۔ اس کا زیادہ تر حصہ پاکستان اور بھارت میں واقع ہے۔ دنیا بھر سے سیاح اس وادی کی سیاحت کے لیے آتے ہیں اور اپنے ذوق دید کی تسکین کا سامان کرتے ہیں۔ اس خطہ ارض کو دست قدرت نے جس مہارت سے تراشا ہے، اس کی نظیر ملنا محال ہے۔ یوں تو بھارت اپنے زیر قبضہ کشیر کے حقیقی وارث کشیریوں پر ۷۵ سال سے مظالم جاری رکھے ہوئے ہے مگر مظالم کی اس طویل تاریخ میں ۱۵ اگست ۲۰۱۹ء کا دن ایک سیاہ دن کے طور پر یاد رکھا جائے گا۔ جب غاصب بھارت نے مقبوضہ کشیر کی خود مختاری پر شب خون مارا اور کشیریوں سے آئینی حیثیت کے تحت حاصل خود مختاری بھی چھین لی۔ بھارت کا خیال تھا کہ اس کے ان اقدامات سے کشیر میں آزادی کی جدوجہد دب جائے گی مگر اس کی یہ کوشش گزشتہ ظالمانہ حربوں کی طرح بے سود ثابت ہوئی اور کشیریوں کا جذبہ حق خود ارادیت مزید بڑھ گیا۔

سوال نمبر 28: جموں و کشیر متنازع علاقہ ہے:

- (a) پاکستان اور چین کے مابین
(b) بھارت اور چین کے مابین
(c) پاکستان اور بھارت کے مابین
(d) بھارت اور افغانستان کے مابین

سوال نمبر 29: کشیر کے حقیقی وارث ہیں:

- (a) پاکستانی
(b) ہندوستانی
(c) چینی
(d) کشیری

سوال نمبر 30: حق خود ارادیت کی جنگ لڑ رہے ہیں:

- (a) کشیر کے لوگ
(b) پاکستان کے لوگ
(c) بھارت کے لوگ
(d) چین کے لوگ

سوال نمبر 31: کشیریوں کا بھارت سے مطالبہ ہے:

- (a) کشیر کو آزادی دینا
(b) جدوجہد آزادی دہانا
(c) کشیر کا حق تسلیم کرنا
(d) حق خود ارادیت دینا

سوال نمبر 32: دی گئی عبارت کا موزوں عنوان ہے:

- (a) مسئلہ بھارت
(b) مسئلہ پاکستان
(c) مسئلہ کشیر
(d) مسئلہ فلسطین

حصہ دوم: انشائیہ سوالات

سوال نمبر 33: درج ذیل اشعار کی مختصر تشریح کریں۔ (10 نمبر)

علم الماری کا، مکتب چار دیواری کا نام // ملٹن اک لٹھا ہے، مومن خان پنہاری کا نام
بات تو جب ہے بدل جائے سرشت انسان کی // یوں تو لکھ دواؤں پر لاری کا نام

سوال نمبر 34: ”ورزش کے فائدے“ کے موضوع پر مضمون تحریر کریں۔ (10 نمبر)

سوال نمبر 35: ایک کہانی تحریر کریں جس سے نتیجہ اخذ ہو ”جس کا کام اسی کو سا جھے“ (10 نمبر)

سوال نمبر 36: اپنی والدہ کے نام خط لکھیں اور اسکول کے تعلیمی و تفریحی دورے پر جانے کے لیے اجازت لیں۔ (10 نمبر)

سوال نمبر 37: درج ذیل نثر پارہ کو پڑھیں۔ اس نثر پارہ کا خلاصہ بھی سنائیں۔ (6 نمبر)

سوال نمبر 38: درج ذیل نظم پارہ کو سنیں اور پوچھے جانے والے سوالات کے جوابات بتائیں۔ (ممتحن دونوں گروپس میں سے کل تین سوالات پوچھے۔) (6 نمبر)