

# SCHOOL BASED ASSESSMENT 2024

## Model Paper

## Computer Science Grade 6



[Paper A: 48 Marks, Paper B: 52 Marks, Total: 100 Marks] , Time = 3 hours

School Name: \_\_\_\_\_

Student Name : \_\_\_\_\_

Roll Number : \_\_\_\_\_

Section : \_\_\_\_\_

### OBJECTIVE PART(MCQs)

**Question No.1 : A set of computing tools that allowed people to interact in the digital world:**

- (a) ACT (b) ICT (c) BCT (d) SST

**Question No.3 : The example of first generation computer is:**

- (a) CDC 1604 (b) ENIAC (c) IBM 1620 (d) Honey well-6000 series

**Question No.5 : The hardware components is:**

- (a) Speakers (b) Paint (c) Media Player (d) Browser

**Question No.7 : The types of keys on the keyboard is:**

- (a) 2 (b) 4 (c) 6 (d) 8

**Question No.9 : The process that is used to collect data for weather forecasting is:**

- (a) Digital experiments (b) Environmental monitoring (c) Navigation (d) Communication

**Question No.11 : Non open-source operating system is:**

- (a) Unix (b) Linux (c) Windows (d) Android

**Question No.13 : The link between the hardware and the user program is:**

- (a) Operating Environment (b) System Environment (c) Operating System (d) Device Driver

**Question No.15 : The statement “Problem should be clear and specific”, refers to:**

- (a) Defining the problem (b) Identification of problem (c) Analysis of problem (d) Decomposition of problem

**Question No.17 : A problem is said to be well-defined if it has:**

- (a) Clarity (b) Ambiguity (c) Confusion (d) Doubt

**Question No.19 : The data required to solve the problem is called:**

- (a) Input (b) Output (c) Instruction (d) Fact

**Question No.21 : The output of following process is:**



- (a) Pour water into cup (b) Pour milk into cup (c) Pour tea into cup (d) Pour tea into kettle

**Question No.23 : The process of debugging is:**

- (a) Selecting (b) Removing (c) Fixing of bugs (d) Starting

**Question No.2 : Honeywell-6000 series are computers of which generation?**

- (a) First (b) Second (c) Third (d) Fourth

**Question No.4 : The brain of computer is known as:**

- (a) Hard disk (b) Memory (c) Mother board (d) CPU

**Question No.6 : Marine navigation is the use of ICT in the field of:**

- (a) Business (b) Measurement (c) Management (d) Communication

**Question No.8 : The Plug and Play secondary storage device is:**

- (a) HDD (b) USB (c) RAM (d) ROM

**Question No.10 : Android Operating System is developed by:**

- (a) Apple Inc (b) Google LLC (c) Microsoft Corporation (d) Dell Inc

**Question No.12 : A computer cannot function if it does not have the:**

- (a) Compiler (b) Assembler (c) Operating System (d) Loader

**Question No.14 : The large area of the computer desktop where all programs are opened:**

- (a) Task bar (b) Menu bar (c) Background area (d) Notification area

**Question No.16 : The problem-solving step in which time required for implementation is:**

- (a) Problem Identification (b) Problem Definition (c) Problem Analysis (d) Solution Selection

**Question No.18 : The statement for given problem is said as:**

- (a) Fact (b) Output (c) Input (d) Process

**Question No.20 : The formula to calculate the average age of all students is:**

- (a) Total age of all students  $\times$  No. of Students (b) Total No. of students  $\times$  100 (c) Sum of age of all students  $\div$  No. of Students (d) Total number of students  $+100$

**Question No.22 : If a user have not clear instructions to solve a problem these are called:**

- (a) Specific Instructions (b) Non-specific Instructions (c) Simple Instruction (d) Complex Instruction

**Question No.24 : First digital computer that could run a program was:**

- (a) First (b) Desktop (c) Baby (d) First Digital

**Question No.25 : John Von Neumann was a:**

- (a) Mathematician (b) Physicist  
(c) Biologist (d) Chemist

**Question No.27 : The person who develops the skills to effectively use the internet and other digital technologies is called:**

- (a) Digital citizenship (b) Digital citizen (c) Citizen (d) National

**Question No.29 : Reusing work that you have already published or submitted is:**

- (a) Paraphrasing (b) Self  
(c) Global (d) Patchwork

**Question No.31 : The combination of innovator and hustler is an example of:**

- (a) Large company (b) Scalable startup  
(c) Social (d) Imitator

**Question No.26 : The option that use programming to perform different functionalities is:**

- (a) Iron (b) Website (c) Ceiling fan (d) Analogue wall clock

**Question No.28 : The productive way of using smartphones and the internet is:**

- (a) Facebook scroll (b) Instagram scroll  
(c) Educational and cultural activities (d) Using unethical sites

**Question No.30 : Use the previous work that already submitted or published is:**

- (a) Paraphrasing (b) Self plagiarism  
(c) Global (d) Patchwork

**Question No.32 : TikTok application is an example of entrepreneurship:**

- (a) Large company (b) Scalable startup (c) Social (d) Innovator

---

## SUBJECTIVE PART(CRQs)

**Question No: 33**

- a ) Describe environmental monitoring. (2 Marks)  
b ) Write any five drawbacks of ICT devices. (5 Marks)  
c ) Write any five uses of ICT in the business field. (5 Marks)

**Question No: 34**

- a ) Explain the Windows Operating System. (2 Marks)  
b ) Explain the Android Operating System. (2 Marks)  
c ) Write down the functions of the Operating System. (6 Marks)

**Question No: 35**

- a ) List the steps to solve a problem efficiently. (3 Marks)  
b ) List the factors that are considered while selecting a solution of the problem. (3 Marks)  
c ) Write an algorithm to print table of a numbers up to 10. (4 Marks)

**Question No: 36**

- a ) Define the Debugging. (2 Marks)  
b ) Write down four steps to create a program in scratch. (4 Marks)  
c ) Write any four guidelines about proper sitting posture when using a computer. (4 Marks)

**Question No: 37**

- a ) Define the Piracy Act. (2 Marks)  
b ) Write any four characteristics of a responsible digital citizen. (4 Marks)  
c ) Write any four essential elements of digital citizenship. (4 Marks)

# SCHOOL BASED ASSESSMENT 2024

## Model Paper

## English Grade 6



[Paper A: 48 Marks, Paper B: 52 Marks, Total: 100 Marks] , Time = 3 hours

School Name: \_\_\_\_\_

Student Name : \_\_\_\_\_

Roll Number : \_\_\_\_\_

Section : \_\_\_\_\_

### OBJECTIVE PART(MCQs)

**Question No.1 :** 'My father helped \_\_\_\_\_ in my studies.'

- (a) mine (b) me (c) my (d) myself

**Question No.3 :** Fill in the blank with a suitable 'Phrasal Verb'.

'You should \_\_\_\_\_ your bad habit of smoking.'

- (a) give way (b) give up (c) give in (d) give away

**Question No.5 :** Identify the sentence in which 'Have' is used as a 'Helping Verb'.

- (a) You have an excellent future ahead. (b) I have already completed the task.  
(c) They have a garden near the city. (d) We have some fruit for eating.

**Question No.7 :** Choose the 'Abstract Noun' in the given sentence.

'Karim needed courage to attend the first day of school in a new town.'

- (a) Courage (b) Karim (c) School (d) Town

**Question No.9 :** Form an 'Adjective' from the noun 'Nature'.

- (a) Natures (b) Natural (c) Naturally (d) Nature's

**Question No.11 :** Read the sentence and identify the category of underlined 'Adjective'.

'The Story of Civilization is by far the most expensive book I have bought.'

- (a) Adjective of Quality (b) Adjective of size (c) Adjective of Quantity (d) Adjective of Shape

**Question No.13 :** Which of the following is a 'Main Verb' in the sentence?

'Don't beat around the bush, as it is a waste of time.'

- (a) Beat (b) Around (c) Bush (d) Time

**Question No.15 :** Select the 'Connotative Meaning' of the underlined word.

'Naima has a childish behaviour in all matters.'

- (a) Interested (b) Cute (c) Non serious (d) Excited

**Question No.17 :** Which of the following is a 'Collective Noun'?

- (a) Grapes (b) Bunch (c) Bench (d) Desk

**Question No.19 :** Identify the 'Sentence Structure' of the given sentence.

'This watch is expensive.'

- (a) Subject Intransitive Verb (b) Subject Transitive Verb  
(c) Subject Verb Adjective (d) Subject Verb Adverb

**Question No.21 :** Fill in the blank with a 'Modal Verb' to show ability.

'My brother \_\_\_\_\_ help you in studies.'

- (a) can (b) should (c) must (d) may

**Question No.2 :** 'My friend lives just \_\_\_\_\_ the street.'

- (a) below (b) above (c) under (d) across

**Question No.4 :** Identify the underlined word.

'Writing stories allows us to express our creativity.'

- (a) Noun (b) Gerund (c) Participle (d) Adverb

**Question No.6 :** Choose the 'Antonym' of underlined word.

'Her heart was full of sincerity.'

- (a) Empty (b) Packed (c) Stuffed (d) Mused

**Question No.8 :** What does the idiom 'Piece of cake' means?

- (a) An easy task (b) Piece of pastry (c) A tasty dessert (d) A difficult task

**Question No.10 :** Choose the sentence with 'SVN (Subject+Verb+Noun)' structure.

- (a) She cooked meat. (b) His home is well-decorated.  
(c) I always think of winning. (d) They are helpful to me.

**Question No.12 :** Identify the 'Figure of Speech' used in the given sentence.

'The sparrows chirp outside the window every morning.'

- (a) Metaphor (b) Hyperbole (c) Onomatopoeia (d) Personification

**Question No.14 :** Which of the following is an example of a 'Postmodifier after a Noun'?

- (a) The world is divided into seven continents. (b) They live in the beautiful house on the corner.  
(c) The girl in the pink shirt is my neighbour. (d) The earth always revolves around the sun.

**Question No.16 :** Identify the type of underlined 'Pronoun' used in the sentence.

'Who is the current Prime Minister of Pakistan?'

- (a) Interrogative Pronoun (b) Demonstrative Pronoun (c) Reflexive Pronoun (d) Possessive Pronoun

**Question No.18 :** 'Locomotive is an informative book, I really like \_\_\_\_\_.'

- (a) it (b) its (c) their (d) them

**Question No.20 :** 'The train had \_\_\_\_\_ before I left the station.'

- (a) leaving (b) leaves (c) left (d) leave

**Question No.22 :** 'Each day \_\_\_\_\_ new hope.'

- (a) bring (b) brings (c) do not bring (d) do not brings

**Question No.23 : Complete the sentence with a suitable 'Transitional Device'.**

**'I will do my best \_\_\_\_\_ to teach you English vocabulary.'**

- (a) so that (b) in order (c) in addition (d) as well as

**Question No.25 : Identify the sentence of 'Simple Future Tense'.**

- (a) I shall join Pak Army to serve my country. (b) The Govt. will have banned 'Crop burning'.  
(c) CDA will be renaming a road after Sher Khan. (d) Punjab has initiated an anti-hepatitis program.

**Question No.27 : Choose the sentence with correct use of 'Commas'.**

- (a) To tell the truth, we made good decision. (b) To, tell the truth, we made good decision.  
(c) To tell the truth we made, good decision. (d) To tell, the truth, we made good decision.

### Paragraph Instruction

**Read the following poem carefully and answer the questions given below.**

I love my country a land of the free,  
A land of opportunity and equality,  
With pride I look to my country's past,  
Where we stand today as one united nation,  
Our history is not without its flaws,  
We have learned from our mistakes and with each day,  
A place where I can be who I want to be.  
A place where I can live my dreams fully.  
And all the struggles that brought us to the last  
With freedom and justice for all our base.  
But it is through them that we have progressed and grown.  
We strive to make our country a better place to stay.



**Question No. 28 : In the given poem the phrase 'Land of the Free' means:**

- (a) Equality (b) Independent (c) Pride (d) Progression

**Question No.30 : According to the poet, how can a country progress?**

- (a) By learning from mistakes (b) By wasting time and money (c) By efficiency and effectiveness (d) By producing more wealth

**Question No.32 : What is the theme of the poem?**

- (a) Love for country (b) History of country (c) Future of country (d) Equality of nation

**Question No.24 : What does the abbreviation 'ft' stands for?**

- (a) Flat (b) Feet (c) Feature (d) Favorite

**Question No.26 : Identify the 'Gender' of the underlined word.**

**'My neighbours are very nice people.'**

- (a) Masculine (b) Feminine (c) Common (d) Neuter

**Question No.29 : What does this phrase mean?**

**'A place where I can be, who I want to be',**

- (a) Live in an independent country (b) Live in a small country (c) Live in a developed country (d) Live in a restricted country

**Question No.31 : What is the tone of the poem?**

- (a) Regretful (b) Pessimistic (c) Optimistic (d) Formal

## SUBJECTIVE PART(CRQs)

**Question No.33 : Write a paragraph of ten sentences on 'A Pilot'. First, write a topic sentence and then use supporting details to make it interesting. Use correct grammar, punctuation, and spelling. Marks (10)**

**Question No.34 : There is a 'Tree Plantation Campaign' running in your school. Write a dialogue between you and your friend about how trees help us and our environment. Use correct grammar, punctuation and spelling. Marks (10)**

**Question No.35 : Fill out a form to take admission to the 7th class in a new school. Use correct punctuation and spelling. Marks (10)**

Student's Full Name: \_\_\_\_\_ Gender: \_\_\_\_\_ Date of Birth: \_\_\_\_\_ Age: \_\_\_\_\_ Residential Address: \_\_\_\_\_ Email Address: \_\_\_\_\_  
Previous School: \_\_\_\_\_ Grade/Class Seeking Admission to: \_\_\_\_\_ Parent/Guardian's Full Name: \_\_\_\_\_ Relationship to Student: \_\_\_\_\_

**Question No.36 : Read the paragraph carefully and answer the questions. Use correct grammar, punctuation and spelling. Marks (10)**

The chunking method is a way that can help students remember things better. It means breaking down big pieces of information into smaller parts. In this way, our brains handle information easily. Let's say we are learning tables. Instead of trying to remember all the numbers at once, we can group them based on patterns. For example, we can group all the numbers that end in 2 together, like 2, 12, 22, and so on. We can do the same for numbers ending in 5, like 5, 15, and 25. It becomes much easier to remember them. We can also use pictures or fun ways to remember things. Making rhymes can also help. This method is more fun. One can remember things more easily with the help of this method. As a result, one can do better in school.

1)-What is the chunking method? Marks(2). 2)-How it can be used in studies? Marks(2). 3)-Along with tables, what are other things in which this method can be helpful? Marks(2). 4)-In which subject will you apply this method and how? Marks(2). 5)-Suggest a suitable title for the paragraph. Marks(2)

**Question No.37 : Reading Fluency: Marks (04) - Instructions for the Student: Read the paragraph shown by your teacher with correct pronunciation. You will be given one minute to read the paragraph.**

**Question No.38 : Listening and Speaking : Marks (08) - Instructions for the Student : Look at the pictures carefully and answer the questions asked by the teacher. Answer the questions in complete sentences.**





# SCHOOL BASED ASSESSMENT 2024

## MODEL PAPER

### History & Geography Grade 6

[Paper A: 48 Marks, Paper B: 52 Marks, Total: 100 Marks] , Time = 3 hours



School Name: \_\_\_\_\_

Student Name: \_\_\_\_\_

Roll Number: \_\_\_\_\_

Section: \_\_\_\_\_

#### OBJECTIVE PART(MCQs)

**Question No.1 : The depth of mantle layer is about:**

- (a) 2600 km (b) 2700 km  
(c) 2800 km (d) 2900 km

**Question No.3 : In 1992 Geographical Information System was introduced by:**

- (a) US Geological Survey (b) USA Department of Defense  
(c) International Research Center (d) USA Environment Department

**Question No.5 : The average height of Siwalik mountains is:**

- (a) 750 metres (b) 800 metres  
(c) 850 metres (d) 900 metres

**Question No.7 : Himalayas and Karakoram mountain ranges are located in the:**

- (a) East of Pakistan (b) West of Pakistan  
(c) North of Pakistan (d) South of Pakistan

**Question No.9 : The Red Indians race people are found in the forests of:**

- (a) Amazon (b) Congo  
(c) Sundarbans (d) Siberian

**Question No.11 : Forests provide to wildlife:**

- (a) water and carbon dioxide (b) oxygen and water  
(c) food and oxygen (d) habitat and carbon dioxide

**Question No.13 : The major cause of changes in vegetation distribution is:**

- (a) land fertility (b) change in temperature  
(c) water resources (d) human activities

**Question No.15 : Natural disaster that develop cracks in earth crust is termed as:**

- (a) earthquake (b) flood  
(c) drought (d) cyclone

**Question No.17 : The major types of erosion landforms are:**

- (a) four (b) five  
(c) six (d) seven

**Question No.19 : Mesopotamian Civilization was actually established in:**

- (a) South Eastern Asia (b) South Western Asia  
(c) South Western Europe (d) South Eastern Europe

**Question No.21 : In the ancient Indus Valley Civilization, The greatest god considered was:**

- (a) tree (b) sun  
(c) sky (d) fire

**Question No.23 : Mud bricks, mud plaster, wooden doors, and framed cupboards were used in the houses of the:**

- (a) Greek Civilization (b) Mesopotamian Civilization  
(c) Babylonian Civilization (d) Indus Valley Civilization

**Question No.2 : Pakistan is located at such place where two important tectonic plates collided with each other:**

- (a) Indian and Australian (b) Nazca and South American  
(c) Eurasian and Indo-Australian (d) Philippine and Cocos

**Question No.4 : Alluvial soil is formed by particular soil particles by the:**

- (a) disintegration of rocks (b) integration of rocks  
(c) melting of rocks (d) friction of rocks

**Question No.6 : Sedimentary rocks formulate the:**

- (a) mountain range (b) desert area  
(c) coastal line (d) plateaus area

**Question No.8 : Mountainous areas are suitable for producing:**

- (a) hydro electricity (b) wind electricity  
(c) thermal electricity (d) solar electricity

**Question No.10 : 25% of area the country must be covered with forest according to:**

- (a) International standard (b) Country standard  
(c) World Health Organization (d) Human rights

**Question No.12 : Forests located in equatorial belt are:**

- (a) coniferous forests (b) temperate forests  
(c) rainforests (d) deciduous forests

**Question No.14 : Eruption of magma is known as:**

- (a) storm (b) volcanism  
(c) erosion (d) cyclone

**Question No.16 : Monsoon winds cause heavy rainfall on highlands during:**

- (a) summer season (b) winter season  
(c) autumn season (d) spring season

**Question No.18 : The deposition of material brought by sea water to the surface of the earth forms:**

- (a) sea arch (b) beach  
(c) tombolo (d) sea cliffs

**Question No.20 : The term "Nomads" refers to people who settle down:**

- (a) without homes (b) in homes  
(c) in caves (d) in forests

**Question No.22 : The Indus Valley script is a collection of:**

- (a) digits, symbols, phonetics and words (b) alphabets, signs, symbols and phonetics  
(c) symbols, signs, words and digits (d) phonetic, symbols, words and signs

**Question No.24 : Due to less rainfall, the people of Mesopotamia built the system of:**

- (a) roads network (b) irrigation  
(c) house construction (d) urban sprawl

**Question No.25 : The signs of human economic activities have been found in Mehrgarh, a settlement of ancient civilization:**

- (a) cultivation and deforestation (b) fishing and cultivation  
(c) farming and herding (d) mining and herding

**Question No.27 : The first settlers of Rome were known as:**

- (a) Roman (b) Latin  
(c) Greek (d) Persian

**Question No.29 : The use of 'Yakhchal' was quite helpful to:**

- (a) preserve the food (b) produce the food  
(c) protect from storm (d) save from rain

**Question No.31 : In the Aryan's social structure, the duty of the Vaishyas was to:**

- (a) religious education (b) serve others  
(c) protect the society (d) grow grains

**Question No.26 : Alexander the Great ruled over a total area of:**

- (a) 3 million square miles (b) 4 million square miles  
(c) 1 million square miles (d) 2 million square miles

**Question No.28 : During the era of the great philosophers, the wars were fought between:**

- (a) Athens and Byzantinian (b) Sparta and Byzantinian  
(c) Athens and Sparta (d) Sparta and Persia

**Question No.30 : The Aryans spread their culture and civilization through:**

- (a) occupying lands (b) making economic reforms  
(c) sending religious preachers (d) progressing in the scientific field

**Question No.32 : The first believer of Islam among children was:**

- (a) Hazrat Ali رضى الله تعالى عنه (b) Hazrat Umar رضى الله تعالى عنه  
(c) Hazrat Abu Bakr رضى الله تعالى عنه (d) Hazrat Usman رضى الله تعالى عنه

---

## SUBJECTIVE PART(CRQs)

**Question No: 33**

a ) The movement of glaciers and rivers cause the emergence of valleys, Explain. (Marks 05)

b ) Write note on key features of Pothwar plateaus. (Marks 05)

**Question No: 34**

a ) Which climate region is densely populated? Describe human activities in this area. (Marks 05)

b ) Name the regions in the climate zones between 60° to 90° north and south on both sides of the equator. (Marks 05)

**Question No: 35**

a ) Explain the side effects of famine and drought. (Marks 05)

b ) Identify the sudden and immediate impacts of natural disasters. (Marks 05)

**Question No: 36**

a ) Who was the most influential person in the Government of Pharaohs? Discuss. (Marks 05)

b ) Describe the reasons for the decline of the Indus Valley Civilization. (Marks 05)

**Question No: 37**

a ) Why Alexander the Great attacked India? Explain. ( Marks 06)

b ) Evaluate the relations between the Greeks and Romans.( Marks 06)

# SCHOOL BASED ASSESSMENT 2024

## MODEL PAPER

### Islamiat Grade 6

[Part A: 48 Marks Part B: 52 Marks Total: 100 Marks] , Time = 3 hours



School Name: \_\_\_\_\_

Student Name : \_\_\_\_\_

Roll Number : \_\_\_\_\_

Section : \_\_\_\_\_

#### حصہ اول: معروضی سوالات

سوال نمبر 1: آیت مبارکہ **وَإِنَّهُ عَلَىٰ ذَٰلِكَ لَشَهِيدٌ** ہے:

- (a) سورۃ الحجر کی (b) سورۃ القاعدہ کی (c) سورۃ الزلزال کی (d) سورۃ العنکبوت کی

سوال نمبر 2: حدیث مبارک کے مطابق ہمیں مومن بننے کے لیے سب سے زیادہ محبت کرنا ہوگی:

- (a) اپنے آپ سے (b) اپنی اولاد سے (c) اپنے والدین سے (d) اپنے نبی ﷺ سے  
عَلَيْهِ وَعَلَىٰ آلِهِ  
وَآلِهِ وَسَلَّمَ

سوال نمبر 3: عقائد اسلام میں سب سے زیادہ زور دیا گیا ہے:

- (a) توحید پر (b) علم غیب پر (c) آخرت پر (d) شفاعت پر

سوال نمبر 4: انبیائے کرام علیہم السلام کی مشترکہ صفت ہے:

- (a) مقام محمود عطا ہونا (b) گناہوں سے پاک (c) حوض کوثر کا ملنا (d) جامع کتاب کا دیا جانا

سوال نمبر 5: عبادت کا لفظی معنی ہے:

- (a) اطاعت (b) بندگی (c) تعیل (d) تعظیم

سوال نمبر 6: امت مسلمہ کے بین الاقوامی اتحاد کا مظہر ہے:

- (a) نماز (b) روزہ (c) حج (d) زکوٰۃ

سوال نمبر 7: حدیث مبارکہ "بغیر وضو کے نماز نہیں ہوتی" کی روشنی میں ہمیں اختیار کرنا چاہیے:

- (a) قناعت (b) رواداری (c) پاکیزگی (d) سچائی

سوال نمبر 8: وہ رکن نماز جس کے چھوٹنے سے نماز ادا نہیں ہوتی:

- (a) تکبیر تحریرہ (b) سورۃ الاخلاص (c) تسبیحات (d) جلسہ کی دعا

سوال نمبر 9: جزیرہ عرب میں بیت اللہ کے بعد قائم ہونے والی پہلی مسجد کا نام ہے:

- (a) مسجد نبوی (b) مسجد قبلتین (c) مسجد نمبرہ (d) مسجد قبا

سوال نمبر 10: ہجرت مدینہ کے بعد پیش آنے والے اہم واقعات میں سے ایک واقعہ ہے:

- (a) اعلان نبوت (b) تحویل قبلہ (c) واقعہ طائف (d) واقعہ معراج

سوال نمبر 11: معاشرے میں امن کا قیام اور ظلم کے خاتمے کے لئے کی جانے والی کوششیں ہیں:

- (a) نماز (b) روزہ (c) جہاد (d) حج

سوال نمبر 12: غزوہ بدر کا معرکہ رمضان المبارک کی تاریخ کو ہوا:

- (a) 16 کو (b) 17 کو (c) 18 کو (d) 19 کو

سوال نمبر 13: مشرکین کا غزوہ احد کی تیاری کا بنیادی مقصد تھا:

- (a) قیدیوں کی رہائی (b) غزوہ بدر کا بدلہ (c) اپنا مال واپس لینا (d) مدینہ پر قبضہ کرنا

سوال نمبر 14: قرآن مجید میں اللہ تعالیٰ نے اپنی فرمانبرداری کے ساتھ فرمانبرداری کا حکم دیا ہے:

- (a) نبی کریم ﷺ صَلَّی اللہُ عَلَیْہِ وَاٰلِہٖ وَسَلَّمَ  
(b) تمام انبیاء کی  
(c) والدین کی  
(d) فرشتوں کی

سوال نمبر 15: دس سالہ خدمت کے دوران نبی کریم ﷺ صَلَّی اللہُ عَلَیْہِ وَاٰلِہٖ وَسَلَّمَ نے کبھی اف تک نہیں کہا، یہ الفاظ ارشاد فرمائے:

- (a) حضرت سلمان فارسی رضی اللہ تعالیٰ عنہ نے  
(b) حضرت عبد اللہ بن جعفر رضی اللہ تعالیٰ عنہ نے  
(c) حضرت اسامہ بن زید رضی اللہ تعالیٰ عنہ نے  
(d) حضرت انس رضی اللہ تعالیٰ عنہ نے

سوال نمبر 16: آپ ﷺ صَلَّی اللہُ عَلَیْہِ وَاٰلِہٖ وَسَلَّمَ نے ایک شخص کا تین دن مسلسل انتظار کر کے ہمیں سبق دیا:

- (a) وعدہ پورا کرنے کا (b) عدل کا (c) توکل کا (d) دیانت داری کا

سوال نمبر 18: آیت مبارکہ **فَالصَّادِقِينَ عَلَىٰ مَا يَقُولُونَ** میں تلقین کی گئی ہے:

- (a) برداشت کرنے کی (b) مشورہ کرنے کی (c) دوسروں کی مدد کرنے کی (d) انصاف کرنے کی

سوال نمبر 17: نظام خلافت میں تمام امور کے فیصلے کیے جاتے تھے:

- (a) ووٹ سے (b) مشاورت سے (c) اپنی مرضی سے (d) دیر سے

سوال نمبر 20: اسلامی تعلیمات کے مطابق گری ہوئی چیز ملے پر ہمیں چاہیے کہ:

- (a) اسے مسجد میں دے دیں (b) اس کے مالک کو تلاش کریں (c) اسے خود استعمال سے واپس چھوڑ دیں (d) اسے واپس چھوڑ دیں

سوال نمبر 19: آپ ﷺ صَلَّی اللہُ عَلَیْہِ وَاٰلِہٖ وَسَلَّمَ نے جو چیزیں منع فرمائی تھیں:

- (a) سُبْحَانَ اللہ (b) الْحَمْدُ لِلہ (c) اللہُ اَكْبَرُ (d) اَسْتَغْفِرُ اللہ

سوال نمبر 22: حق دار کو اس کے حق کے ساتھ زیادہ ادا کرنے سے مراد ہے:

- (a) انصاف (b) سخاوت (c) ہمدردی (d) احسان

سوال نمبر 21: رزق میں وسعت اور عمر میں برکت کے لیے ہمیں اپنانا چاہیے:

- (a) کفایت شعاری کو (b) صلہ رحمی کو (c) ہمدردی کو (d) سخاوت کو

سوال نمبر 23: مدینہ منورہ میں قحط کے زمانے میں اپنا سارا مال تقسیم کرنے والے تھے:

- (a) حضرت عمر فاروق (b) حضرت عثمان غنی (c) حضرت ابوذر (d) حضرت عبدالرحمن  
(a) رضی اللہ تعالیٰ عنہ (b) رضی اللہ تعالیٰ عنہ (c) غفاری رضی اللہ (d) بن عوف رضی اللہ  
تعالیٰ عنہ تعالیٰ عنہ تعالیٰ عنہ

سوال نمبر 25: نبی کریم ﷺ صلی اللہ علیہ وعلیٰ آلہ وَاٰخِہٖ وَسَلَّمَ کی صاحبزادیوں کی تعداد تھی:

- (a) دو (b) تین (c) چار (d) پانچ

سوال نمبر 27: غزوہ احد میں حضرت سعد بن ابی وقاص رضی اللہ تعالیٰ عنہ نے فریضہ سرانجام دیا:

- (a) زخمیوں کو پانی پلانے کا (b) زخمیوں کو مرہم پٹی کرنے کا  
(c) شہداء کی تدفین کا (d) نبی کریم ﷺ صلی اللہ علیہ وعلیٰ آلہ وَاٰخِہٖ وَسَلَّمَ کی حفاظت کا

سوال نمبر 29: حضرت امام جعفر صادق رضی اللہ تعالیٰ عنہ کا پنے کیل کو تمام غلہ فروخت کرنے کا حکم دینے کی وجہ تھی:

- (a) غریبوں کی مدد (b) غلے کا خراب ہو جانا (c) پیسے کمانا (d) نقل مکانی کرنا

سوال نمبر 31: حدیث مبارکہ کی رو سے صدقہ جاریہ ہے:

- (a) درخت لگانا (b) تجارت کرنا (c) پانی پلانا (d) کھانا کھلانا

سوال نمبر 32: رسول اللہ ﷺ صلی اللہ علیہ وعلیٰ آلہ وَاٰخِہٖ وَسَلَّمَ کا چڑیا کے بچے کو گھونسلے میں واپس رکھوانا ہمیں عملی زندگی میں سکھاتا ہے:

- (a) بچوں کے حقوق (b) جانوروں کے فائدے (c) ایثار و قربانی (d) جانوروں کے حقوق

### حصہ دوم: انشائیہ سوالات

سوال نمبر 33

Result pk

(i) طہارت اور پاکیزگی کا مفہوم بیان کریں؟ (3)

(ii) قرآن مجید میں اللہ تعالیٰ نے پاک رہنے والوں کے لیے کیا ارشاد فرمایا ہے؟ کسی آیت مبارکہ کا ترجمہ تحریر کریں۔ (3)

(iii) روزمرہ زندگی میں طہارت و پاکیزگی سے حاصل ہونے والے چار فوائد تحریر کریں۔ (4)

سوال نمبر 34

(i) مسجد نبوی صلی اللہ علیہ وعلیٰ آلہ وَاٰخِہٖ وَسَلَّمَ کی تعمیر کیلئے کس جگہ کا انتخاب کیا گیا؟ (3)

(ii) حضرت محمد رسول اللہ ﷺ صلی اللہ علیہ وعلیٰ آلہ وَاٰخِہٖ وَسَلَّمَ کی مدینہ تشریف آوری پر اہل مدینہ کا کیا رد عمل تھا؟ وضاحت کریں۔ (4)

(iii) موانع مدینہ سے ہمیں کیا سبق حاصل ہوتا ہے؟ وضاحت کریں۔ (5)

سوال نمبر 35

(i) رفاہ عامہ کسے کہتے ہیں؟ رفاہ عامہ کی کوئی تین صورتیں تحریر کریں۔ (3)

(ii) سیرت رسول ﷺ صلی اللہ علیہ وعلیٰ آلہ وَاٰخِہٖ وَسَلَّمَ کی روشنی میں رفاہ عامہ کی دو مثالیں تحریر کریں۔ (4)

(iii) رفاہ عامہ کی اہمیت کو مد نظر رکھتے ہوئے آپ کیسے معاشرے کی خدمت کر سکتے ہیں؟ کوئی سی تین رائے دیں۔ (3)

سوال نمبر 36

(i) اہمات المؤمنین رضی اللہ تعالیٰ عنہم سے مراد کون سی ہستیاں ہیں؟ (3)

(ii) حضرت عائشہ رضی اللہ تعالیٰ عنہا کی علمی صلاحیت سے مسلمانوں کو کیسے فائدہ پہنچا؟ (3)

(iii) آغاز اسلام میں حضرت خدیجہ رضی اللہ تعالیٰ عنہا کو آج کی خواتین کے لئے کیسے رہنمائی مہیا کرتا ہے؟ (4)

سوال نمبر 37

(i) اسلامی تعلیمات کے مطابق انسانی زندگی میں اس کے ماحول کا کیا کردار ہوتا ہے؟ (2)

(ii) شجر کاری کی اہمیت پر مختصر نوٹ لکھیں۔ (4)

(iii) ہم زندگی میں اپنے ماحول کو کیسے محفوظ بنا سکتے ہیں؟ (4)



# SCHOOL BASED ASSESSMENT 2024

## MODEL PAPER

### Mathematics Grade 6

[Paper A: 48 Marks, Paper B: 52 Marks, Total: 100 Marks] , Time = 3 hours



School Name: \_\_\_\_\_

Student Name: \_\_\_\_\_

Roll Number: \_\_\_\_\_

Section: \_\_\_\_\_

#### OBJECTIVE PART(MCQs)

**Question No.1 : Identify the factor of 87:**

- (a) 2 (b) 3  
(c) 7 (d) 8

**Question No.3 : The LCM of 14 and 56 will be:**

- (a) 2 (b) 7  
(c) 14 (d) 56

**Question No.5 : Identify the integer:**

- (a) 3.7 (b)  $\frac{3}{7}$   
(c)  $1\frac{3}{7}$  (d) 10

**Question No.7 : The solution of  $(+18) + (-23)$  is:**

- (a) 5 (b) -5  
(c) 41 (d) -41

**Question No.9 : The solution of  $(-51) \div (-3)$  is:**

- (a) 15 (b) 17  
(c) 19 (d) 23

**Question No.11 : In percentage  $\frac{28}{100}$  is written as:**

- (a) 0.028% (b) 0.28%  
(c) 2.8% (d) 28%

**Question No.13 : 7% of 200 is:**

- (a) 7 (b) 14  
(c) 21 (d) 28

**Question No.15 : If Ahmad got 720 marks out of 800, then the percentage of obtained marks will be:**

- (a) 89% (b) 90%  
(c) 91% (d) 92%

**Question No.17 : The improper subset of  $B = \{4, 8, 10\}$  is:**

- (a)  $\emptyset$  (b)  $\{\emptyset\}$   
(c)  $\{4, 8\}$  (d)  $\{4, 8, 10\}$

**Question No.19 : The next two terms in the sequence**

5, 8, 11, 14, ... are:

- (a) 15, 16 (b) 17, 20  
(c) 18, 22 (d) 21, 28

**Question No.21 : The sum of  $x - 5y - 4z$  and  $2x + 2y + z$  is:**

- (a)  $3x + 3y + 3z$  (b)  $3x - 3y + 3z$   
(c)  $3x + 3y - 3z$  (d)  $3x - 3y - 3z$

**Question No.23 : If the length of one side of cube is 2 cm, then the surface area of cube will be:**

- (a)  $4\text{ cm}^2$  (b)  $8\text{ cm}^2$   
(c)  $16\text{ cm}^2$  (d)  $24\text{ cm}^2$

**Question No.25 : Identify 3-D shape:**

- (a)  (b)  (c)  (d) 

**Question No.2 : The multiple of 11 is:**

- (a) 33 (b) 36  
(c) 46 (d) 52

**Question No.4 : The HCF of 32 and 42 is:**

- (a) 2 (b) 8  
(c) 32 (d) 42

**Question No.6 : The absolute value of -404 is:**

- (a) -404 (b) -44  
(c) 44 (d) 404

**Question No.8 : The product of (-7) and (-15) is:**

- (a) 105 (b) -105  
(c) 22 (d) -22

**Question No.10 : By subtracting (-23) from (+19) we get:**

- (a) -42 (b) -4  
(c) 4 (d) 42

**Question No.12 : The simplest form of  $\frac{4}{6} : \frac{7}{8}$  is:**

- (a) 2 : 3 (b) 7 : 12  
(c) 16 : 21 (d) 17 : 22

**Question No.14 : In 3 : 5, the antecedent is:**

- (a) 3 (b) 5  
(c) 8 (d) 15

**Question No.16 : There are 30 teachers and 300 students in the school. The ratio of teachers to students will be:**

- (a) 3:4 (b) 1:10  
(c) 10:1 (d) 2:1

**Question No.18 : A set having NO element is called:**

- (a) Empty set (b) Singleton Set  
(c) Infinite Set (d) Universal Set

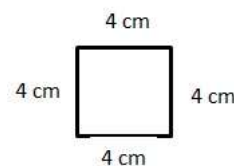
**Question No.20 : The algebraic expression for the statement "a number p decreased by 1" is:**

- (a)  $p - 1$  (b)  $p + 1$   
(c)  $1 - p$  (d)  $-1 - p$

**Question No.22 : Identify linear equation:**

- (a)  $\frac{a}{x} + \frac{b}{y} = 1$  (b)  $\frac{x}{y} + 2y = 1$   
(c)  $ax + b = 0$  (d)  $ax^2 + b = 0$

**Question No.24 : The perimeter of given figure is:**




- (a) 4 cm (b) 8 cm  
(c) 12 cm (d) 16 cm

**Question No.26 : Identify the 2-D shape:**

- (a) Line (b) Square  
(c) Cuboid (d) Cylinder

Question No.27 : The given lines are:



- (a) Horizontal lines (b) Perpendicular lines  
(c) Parallel lines (d) Curved lines

Question No.29 : The mean of the data 90, 78, 97, 79 is:

- (a) 84 (b) 85  
(c) 86 (d) 87

Question No.31 : If a coin is tossed thrice then the possible outcomes will be:

- (a) 2 (b) 4  
(c) 8 (d) 16

Question No.28 : The order of rotational symmetry of the given square is:



- (a) 1 (b) 2  
(c) 3 (d) 4

Question No.30 : The mode of 5, 4, 7, 6, 9, 12, 3, 6, 6, 4, 2, 3 is:

- (a) 3 (b) 4  
(c) 6 (d) 9

Question No.32 : The procedure that can be repeated many times and has a well defined set of possible outcomes is known as:

- (a) Experiment (b) Scientific experiment  
(c) Event (d) Simple event

---

### SUBJECTIVE PART(CRQs)

Question No: 33

- a) Find the HCF of 16, 24 and 48 by division method. (5marks)  
b) Arrange the absolute values of following numbers in ascending order. (5 marks)

-14, 5, 1, 12, -8, -5, 2

Question No: 34

- a) Prove that:  $6 \times (10 + 13) = (6 \times 10) + (6 \times 13)$ . (5 marks)  
b) The price of a bag is increased from Rs 2000 to Rs 2500. Find the increased price of bag in percentage. (5 marks)

Question No: 35

- a) Solve  $(3x + 5y - z) + (2y + z) - (3x + 3y)$  (5 Marks)  
b) Alia and Ayesha bought 25 suits together. Alia bought 13 suits. How many suits did Ayesha buy? (5 Marks)

Question No: 36

- a) Find the area of trapezium whose lengths of parallel sides are 3 cm and 8 cm, with perpendicular height 4 cm. (5 marks)  
b) Construct an angle of  $75^\circ$  with the help of compass and draw bisector of it. (7 marks)

Question No: 37

- a) Find the mean and mode of the data 10, 2, 8, 0, 2, 6, 2. (5 Marks)  
b) Find the probability of getting a prime number if a fair dice is rolled. (5 Marks)

# SCHOOL BASED ASSESSMENT 2024

## MODEL PAPER

### Science Grade 6



[Paper A: 48 Marks, Paper B: 52 Marks, Total: 100 Marks] , Time = 3 hours

School Name: \_\_\_\_\_

Student Name : \_\_\_\_\_

Roll Number : \_\_\_\_\_

Section : \_\_\_\_\_

#### OBJECTIVE PART(MCQs)

**Question No.1 : Energy is produced in which part of the animal cell?**

- (a) Mitochondria (b) Vacuole (c) Ribosomes (d) Cell wall

**Question No.3 : Identify the process in which pollen grains are transferred from the anther to the stigma.**

- (a) Pollination (b) Fertilization (c) Seed formation (d) Seed dispersal

**Question No.5 : Identify the source of fibres from the following.**

- (a) Egg (b) Fish (c) Milk (d) Cereal

**Question No.7 : Bile in the liver helps in the digestion of:**

- (a) starch (b) fats (c) proteins (d) carbohydrates

**Question No.9 : Identify the state of matter in which particles are not free to move.**

- (a) Liquid (b) Gas (c) Solid (d) Plasma

**Question No.11 : The distance between the particles of gaseous atom is:**

- (a) greater (b) Lesser (c) constant (d) Infinite

**Question No.13 : In the molecule of methane, the number of hydrogen atoms is:**

- (a) 1 (b) 2 (c) 3 (d) 4

**Question No.15 : How many types of mixtures are there?**

- (a) One (b) Two (c) Three (d) Four

**Question No.17 : In a salt solution, \_\_\_\_\_ acts as a solvent.**

- (a) sodium (b) chlorine (c) water (d) sodium hydroxide

**Question No.19 : Which of the following is NOT an energy converter?**

- (a) Radio (b) Fan (c) Table (d) Iron

**Question No.21 : Identify the non-renewable source of energy.**

- (a) Coal (b) Wind (c) Solar energy (d) Flowing water

**Question No.23 : Which kind of electricity is produced when oppositely charged clouds meet?**

- (a) Wind electricity (b) Static electricity  
(c) Hydroelectricity (d) Solar electricity

**Question No.2 : Which type of blood cells help to fight against infection?**

- (a) Red blood cells (b) White blood cells (c) Platelets (d) Serum

**Question No.4 : Stem of strawberry which is spread horizontally above the ground is called:**

- (a) bulb (b) tuber (c) runner (d) layer

**Question No.6 : Which mineral is essential for strengthening of bones and teeth?**

- (a) Phosphorus (b) Iron (c) Calcium (d) Zinc

**Question No.8 : What is the role of the large intestine in the digestive system?**

- (a) Breaking down of food (b) Absorbing water and minerals  
(c) Producing enzymes (d) Secreting hormones


**Question No.10 : If a water bottle covered with balloon is pressed then the inflation of the balloon proves the existence of:**

- (a) liquid particles (b) vacuum (c) air particles (d) solid particles

**Question No.12 : The symbol of nitrogen is 'N' and it is a/an:**

- (a) metalloid (b) alloy (c) metal (d) non-metal

**Question No.14 : Identify the atomic structure of CO<sub>2</sub> from the given images.**



**Question No.16 : Identify the pure substance from the following.**

- (a) steel (b) brass (c) bronze (d) gold

**Question No.18 : Which form of energy is produced by beating the drum?**

- (a) Light (b) Nuclear (c) Chemical (d) Sound

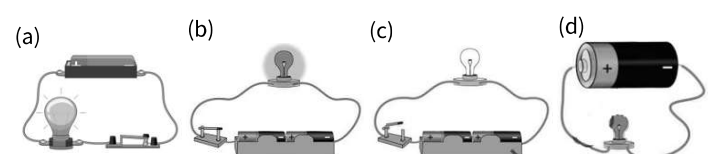
**Question No.20 : When a spring is stretched or compressed then it stores:**

- (a) kinetic energy (b) potential energy  
(c) elastic potential energy (d) gravitational energy

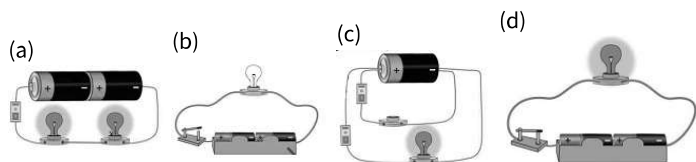
**Question No.22 : Which of the following materials is a good conductor of electricity?**

- (a) Wood (b) Rubber (c) Glass (d) Copper

**Question No.24 : Identify the open circuit from the following images.**



**Question No.25 : Identify the parallel circuit from the following images.**



**Question No.27 : Which of the following is NOT the method to demagnetize a magnet?**

- (a) Heating (b) Hammering (c) Rubbing (d) Dropping

**Question No.29 : The purpose of incubation for 10-12 hours to prepare yogurt is to:**

- (a) kill bacteria (b) enhance bacteria (c) kill virus (d) control virus

**Question No.31 : A comet is a lump of frozen gases, rocks, and dust that orbits around the:**

- (a) Moon (b) Mars (c) Saturn (d) Sun

**Question No.26 : Current carrying wire has \_\_\_\_\_ around it.**

- (a) gravitational field (b) magnetic field  
(c) strong nuclear field (d) weak nuclear field

**Question No.28 : The magnet which does not lose its magnetic property easily is called:**

- (a) temporary magnet (b) permanent magnet  
(c) electromagnet (d) iron magnet

**Question No.30 : Which of the following is the largest planet in the solar system?**

- (a) Mercury (b) Mars (c) Jupiter (d) Neptune

**Question No.32 : Which planet in our solar system is closest to the Sun?**

- (a) Mercury (b) Venus (c) Earth (d) Mars

## SUBJECTIVE PART(CRQs)

**Question No: 33**

- a ) How many ways do plants reproduce? Write their names. (2 Marks)  
b ) How artificial asexual reproduction is different from natural asexual reproduction? Give one example of each. (2+2=4 Marks)  
c ) Explain how agriculture is getting better due to artificial propagation. (4 Marks)

**Question No: 34**

- a ) Why digestion is necessary for the human body. (2 Marks)  
b ) Small and large intestines are parts of the alimentary canal. Write their functions. (4 Marks)  
c ) What are the causes of constipation and ulcer and how they can be controlled? (4 Marks)

**Question No: 35**

- a ) Sugar compound is made up of which components? Write in the form of a word equation. (2 Marks)  
b ) Write the uses of the following metals. (4 Marks)  
1. Iron, 2. Copper, 3. Aluminium, 4. Sodium  
c ) Write any four uses of compounds. (4 Marks)

**Question No: 36**

- a ) Define magnetic field and draw magnetic field lines by using a magnetic compass. (2+2=4 Marks)  
b ) Why the process of magnetization is different from demagnetization? (4 Marks)  
c ) Write the four uses of electromagnets in daily life. (4 Marks)

**Question No: 37**

- a ) How the use of fertilizers is beneficial for the growth of plants? (2 Marks)  
b ) Write the main four steps of preparing yogurt from the raw milk. (4 Marks)  
c ) How does a solar oven work to convert solar energy into heat energy? (4 Marks)

# SCHOOL BASED ASSESSMENT 2024



MODEL PAPER

## TARJUMA-TUL-QURAN-UL MAJEED Grade 6

[Part A:10 Marks Part B: 40 Marks Total: 50 Marks ] , Time = 3 hours

School Name: \_\_\_\_\_

Student Name : \_\_\_\_\_

Roll Number : \_\_\_\_\_

Section : \_\_\_\_\_

### حصہ اول: معروضی سوالات

سوال نمبر 1: صراطِ مستقیم پر چلنے کی دعا ہے:

سوال نمبر 2: سورۃ قریش کی تعلیمات کے مطابق نعمتوں کے ملنے پر ہم کرتے ہیں:

(a) خیرات (b) محنت (c) عبادت (d) ایثار

(a) سورہ الاخلاص میں (b) سورۃ الماعون میں (c) سورۃ العصر میں (d) سورۃ الفاتحہ میں

سوال نمبر 3: اللہ تعالیٰ کے علاوہ کسی کی عبادت کرنا کہلاتا ہے:

سوال نمبر 4: سورۃ النصر کے مطابق غلبے ملے گا:

(a) دین ابراہیم کو (b) دین اسلام کو (c) عیسائیت کو (d) مجوسیت کو

(a) جہالت (b) شرک (c) منافقت (d) ریاکاری

سوال نمبر 5: جادو سے بچنے کے لئے پڑھی جاتی ہیں:

سوال نمبر 6: ابلیس کے حضرت آدم علیہ السلام کو سجدہ نہ کرنے کی وجہ تھی:

(a) عبادت (b) جہالت (c) حسد (d) خیانت

(a) سورۃ الفیل اور (b) سورۃ الماعون اور (c) سورۃ الکافرون اور (d) سورۃ الفلق اور  
(a) سورۃ التدریس (b) سورۃ الکوثر (c) سورۃ النصر (d) سورۃ الناس

سوال نمبر 7: اللہ تعالیٰ کے احکامات سے مسلسل روگردانی سبب بنتی ہے:

سوال نمبر 8: اونٹنی کا معجزہ عطا کیا گیا:

(a) حضرت نوح علیہ السلام کو (b) حضرت ہود علیہ السلام کو (c) حضرت صالح علیہ السلام کو (d) حضرت شعیب علیہ السلام کو

(a) راحت کا (b) تن درستی کا (c) عذاب کا (d) مایوسی کا

سوال نمبر 9: قوم لوط پر عذاب نازل ہوا:

سوال نمبر 10: ناپ تول میں کمی وجہ بنتی ہے:

(a) رزق کثیر کی (b) رزق حرام کی (c) رزق طیب کی (d) رزق نافع کی

(a) شام کے وقت (b) دوپہر کے وقت (c) رات کے وقت (d) صبح کے وقت

### حصہ دوم: انشائیہ سوالات

سوال نمبر 11

(i) کوئی سے پانچ سوالات کے مختصر جواب لکھیں۔ (2x5=10)  
صراطِ مستقیم سے کیا مراد ہے؟ (2)

(ii) اصحاب مدین کے انجام سے ہم کیا نصیحت حاصل کرتے ہیں؟ (2)

(iii) قوم لوط کے انجام سے عبرت حاصل کر کے ہم اپنی عملی زندگی کیسے بہتر بناتے ہیں؟ (2)

(iv) قوم عاد کی کوئی سی دو برائیاں تحریر کریں۔ (2)

(v) سورۃ الملہب کا مرکزی خیال بیان کریں۔ (2)

(vi) سورۃ الکوثر کے نزول کا پس منظر بیان کریں۔ (2)

(vii) حضرت نوح علیہ السلام کے واقعہ سے ہم کیا رہنمائی لیتے ہیں؟ (2)

(viii) سب سے پہلے انسان کو کس چیز سے بنایا گیا؟ (2)

سوال نمبر 12

(i) مندرجہ ذیل میں سے کوئی سے پانچ قرآنی الفاظ کے معنی لکھیں (1x5=5)

إِهْدِنَا	أَنَا	الْصَّمَدُ	الْحَيَاتُ
-----------	-------	------------	------------

مَلِكٌ	أَحَدٌ	كَلِمٌ	تَعْبُدُ
--------	--------	--------	----------

(ii)

سوال نمبر 13

(i) درج ذیل میں سے کوئی سے تین اجزا کا با محاورہ ترجمہ لکھیں۔ (5x3=15)

أَلْحَمْدُ لِلَّهِ رَبِّ الْعَالَمِينَ ۝ الرَّحْمَنُ الرَّحِيمُ ۝ مَلِكٌ يَوْمَ الدِّينِ ۝ (5)



(ii) قُلْ يَا أَيُّهَا الْكَافِرُونَ ۚ لَا أَعْبُدُ مَا تَعْبُدُونَ ۚ وَلَا أَنْتُمْ عَٰبِدُونَ مَا أَعْبُدُ ۚ (5)

(iii) قُلْ هُوَ اللَّهُ أَحَدٌ ۚ اللَّهُ الصَّمَدُ ۚ لَمْ يَلِدْ ۚ وَ لَمْ يُولَدْ ۚ وَ لَمْ يَكُنْ لَهُ كُفُوًا أَحَدٌ ۚ (5)

(iv) قُلْ أَعُوذُ بِرَبِّ الْفَلَقِ ۚ مِنْ شَرِّ مَا خَلَقَ ۚ وَ مِنْ شَرِّ غَاسِقٍ إِذَا وَقَبَ ۚ (5)

(v) قُلْ أَعُوذُ بِرَبِّ النَّاسِ ۚ مَلِكِ النَّاسِ ۚ إِلَهِ النَّاسِ ۚ (5)

سوال نمبر 14

(i) درج ذیل میں سے کسی ایک سوال کا جواب دیں۔

سورۃ الہب کے مضامین کا جائزہ لیں۔ (10)

(ii) حضرت آدم علیہ السلام اور ابلیس کے واقعہ سے سبق حاصل کرتے ہوئے ہم اپنی زندگی میں کیا بہتری لاتے ہیں؟ (10)

Result.pk

# SCHOOL BASED ASSESSMENT 2024

## MODEL PAPER

### Urdu Grade 6

[Part A: 48 Marks Part B: 52 Marks Total: 100 Marks] , Time = 3 hours



School Name: \_\_\_\_\_

Student Name: \_\_\_\_\_

Roll Number: \_\_\_\_\_

Section: \_\_\_\_\_

#### حصہ اول: معروضی سوالات

- سوال نمبر 1: لفظ ”بتلا“ کا درست تلفظ ہے:
- (a) بُتلا (b) بُتلا (c) بُتلا (d) بُتلا
- سوال نمبر 2: اعراب کے لحاظ سے متشابہ الفاظ پر مشتمل جوڑا ہے:
- (a) میز، تیز (b) ارب، عرب (c) گول، مول (d) بل، بل
- سوال نمبر 3: ”پاک فوج امن و جنگ میں ہمیشہ مستعد رہتی ہے۔“ جملے میں متضاد الفاظ ہیں:
- (a) پاک، فوج (b) فوج، امن (c) جنگ، امن (d) مستعد، جنگ
- سوال نمبر 4: ”ہمیں اپنی اور اپنے پیاروں کی خاطر ہیملٹ کی پابندی کرنی چاہیے۔ یہ ہمیں دماغی چوٹوں سے محفوظ رکھتا ہے۔“ عبارت کے مطابق ہیملٹ کا سب سے بڑا فائدہ ہے:
- (a) جرمانے کی بچت (b) گرمی سے بچاؤ (c) سر کی چوٹوں سے بچاؤ (d) ہوا سے بچاؤ
- سوال نمبر 5: لفظ ”عام“ کی درست جمع ہے:
- (a) عوام (b) عالمین (c) عوامی (d) عامل
- سوال نمبر 6: جمع کے استعمال والا درست جملہ ہے:
- (a) آسمان کا رنگ نیلا ہے۔ (b) مجھے تاریخی عمارت پسند ہیں۔ (c) آم بہت خوش ذائقہ پھل ہے۔ (d) محنت کامیابی کی کنجی ہے۔
- سوال نمبر 7: 1965ء کی جنگ میں پاک فوج نے دشمن کے چھکے چھڑا دیے۔ جملے میں ”چھکے چھڑانا“ قواعد کی رو سے ہے:
- (a) پبیلی (b) محاورہ (c) ضرب المثل (d) کہادت
- سوال نمبر 8: ”ہو اور قالین“ کو جب سٹیج پر پیش کیا گیا، اس میں ہمدانی نے ”تخل“ اور احمد نے ”بیکر ٹری“ روئے ”کا کردار نبھا کر دیکھنے والوں کو متاثر کیا۔ اس تحریر کا تعلق ہے:
- (a) شعری صنف (b) ڈراما (c) قصیدہ (d) مضمون
- سوال نمبر 9: ”تم امتحان میں ناکام ہو گئے مگر نصیحت پر عمل نہیں کیا۔“ یہ جملہ قواعد کی رو سے ہو گا:
- (a) مرکب جملہ (b) مفرد جملہ (c) استغنیامیہ جملہ (d) منفی جملہ
- سوال نمبر 10: فعل لازم کے استعمال والا جملہ ہے:
- (a) تشکیل آگیا۔ (b) علی نے سیب کھایا۔ (c) استاد نے سبق پڑھا۔ (d) اسما نے کپڑے دھوئے۔
- سوال نمبر 11: درج ذیل میں سے اسم صفت ہے:
- (a) بھینڈی (b) چالاک (c) طوطا (d) پڑھائی
- سوال نمبر 12: ”ڈاکٹر نے مریض میں ڈیپنگ وائرس کی تشخیص کی۔“ لفظ ”تشخیص“ کے معنی ہیں:
- (a) مرض کی شناخت (b) مرض کا علاج (c) مرض کا آپریشن (d) مریض کی صحت
- سوال نمبر 13: درست املا والا جملہ ہے:
- (a) بھوکوں کو کھانا ناصواب ہے۔ (b) اس نے مریض کا ہال پوچھا۔ (c) فقیر نے گلی میں صدا لگائی۔ (d) طلبانے مری کی سیر کا منصوبہ بنایا۔
- سوال نمبر 14: ”درختوں کے پتے زرد ہو چکے تھے اور ایک ایک کر کے زمین پر گر رہے تھے۔ ہریالی کا کہیں نام و نشان نہ تھا۔“ عبارت میں ذکر ہے:
- (a) موسم بہار کا (b) موسم خزاں کا (c) موسم گرما کا (d) موسم سرما کا
- سوال نمبر 15: ”آج آپ لاہور کیوں جا رہے ہیں؟“ اس جملے میں حرف استفہام ہے:
- (a) آپ (b) آج (c) لاہور (d) کیوں
- سوال نمبر 16: ”انور سڑک پر تیز رفتاری سے گاڑی چلا رہا تھا۔“ عبارت میں مونث الفاظ ہیں:
- (a) انور، سڑک (b) گاڑی، لکرا (c) انور، گاڑی (d) گاڑی، سڑک
- سوال نمبر 17: ”انسان کو کامیاب ہونے کے لیے بہت سے مراحل سے گزرنا پڑتا ہے۔“ اعراب کے اعتبار سے لفظ ”مراحل“ درست ہے:
- (a) مراحل (b) مراحل (c) مراحل (d) مراحل
- سوال نمبر 18: ”مسجد میں امام صاحب نے نمازیوں کو ایک طویل خطبہ دیا۔ جسے سن کر لوگ بہت متاثر ہوئے۔“ اس جملے کے مطابق متلازم الفاظ کی درست فہرست ہے:
- (a) امام، نمازی، متاثر (b) مسجد، امام، نمازی (c) نمازی، امام، متاثر (d) خطبہ، شہر، متاثر
- سوال نمبر 19: اسم نکرہ کے استعمال والا جملہ ہے:
- (a) اسلام چھت پر چڑھتا ہے۔ (b) کراچی صنعتی شہر ہے۔ (c) لڑکا روزانہ سکول جاتا ہے۔ (d) باغ میں گلاب کا پودا ہے۔
- سوال نمبر 20: ”دریا پانی بلند یوں سے آتا ہوا دکھائی دے رہا ہے۔ بادلوں نے پوری وادی کو اپنی لپیٹ میں لے رکھا ہے۔“ عبارت کے مطابق علاقے کی بات کی جا رہی ہے:
- (a) میدانی (b) ریگستانی (c) پہاڑی (d) سمندری
- سوال نمبر 21: ”یہ دنیا فانی ہے // پتھر میں پانی ہے“ اس پبیلی کی درست بوجھ ہے:
- (a) پہاڑ (b) برف (c) بارش (d) رات
- سوال نمبر 22: تشبیہ کے استعمال والا جملہ ہے:
- (a) ہر طرف اندھیرا ہی اندھیرا تھا۔ (b) سورج سوائیزے پر آچکا تھا۔ (c) شبنم موتیوں کی طرح چمک رہی تھی۔ (d) آج صبح سے بارش ہو رہی ہے۔
- سوال نمبر 23: ”نخوش“ سابقہ سے بننے والے الفاظ کی درست فہرست ہے:
- (a) خوش بخت، خوش (b) خوش نما، خوش (c) خوش نام، خوش (d) خوش نصیب، خوش کمال
- سوال نمبر 24: حرف تاکید کے استعمال والا جملہ ہے:
- (a) کپڑوں کی سلائی کیا ہے؟ (b) آپ لازمی ہمارے گھر آئیں۔ (c) لاہور کا موسم بہت پیارا ہے۔ (d) ایہا نے سرخ چوڑیاں لی ہیں۔

سوال نمبر 25: رموز اور قاف ”رابطہ“ کے استعمال والا جملہ ہے:

- (a) میں، آئندہ اور علی سکول گئے۔ (b) واہ! بہت خوب صورت موسم ہے۔  
(c) قائد اعظم نے فرمایا: ”کام، کام اور کام۔“ (d) ایشیا کے ممالک مندرجہ ذیل ہیں:-

سوال نمبر 27: ”ایک مکان جو دو کمروں، دو دواش روم اور کچن پر مشتمل ہے، کرائے کے لیے خالی ہے۔

ضرورت مند افراد بذریعہ فون رابطہ کریں۔“ اس تحریر کا تعلق ہے:

- (a) افسانہ (b) ناول (c) اشتہار (d) ڈراما

پیرا گراف ہدایات \*

درج ذیل عبارت کو غور سے پڑھیں اور سوالات کے درست جوابات کی نشان دہی کریں۔

موبائل فون ایک جدید ایجاد ہے جس نے ہمارے بات چیت، کام کرنے اور زندگی گزارنے کے طریقوں کو حیرت انگیز طور پر تبدیل کر دیا ہے۔ موبائل فون کا اہم کارنامہ ہمیں ایک دوسرے کے قریب لانا ہے۔ اس ایجاد نے ہمیں خاندان اور دوستوں کے ساتھ رابطے میں رہنے کے وسیع مواقع فراہم کئے ہیں۔ چاہے ہم کسی بھی جگہ ہوں؛ موبائل فون ہماری زندگیوں کی اہم ضرورت بن چکا ہے۔ موبائل فون نے رابطے میں آسانی اور معلومات تک رسائی کے حوالے سے بے شمار امکانات کھول دیے ہیں۔ اس سے ہم دنیا میں ہونے والے واقعات سے باخبر رہتے ہیں۔ ان سہولیات کے ساتھ ساتھ موبائل فون نے ہماری روزمرہ زندگی پر کچھ منفی اثرات بھی مرتب کیے ہیں۔ آج کل ہم جسے بھی دیکھیں ہر وقت موبائل پر نظریں جمائے ہوئے نظر آتا ہے۔ طلبہ اس پر گھنٹوں مختلف گیمز کھیلتے رہتے ہیں اور اپنی پڑھائی کو بہت کم وقت دیتے نظر آتے ہیں۔ موبائل فون کی وجہ سے ان کی پڑھائی کا بہت زیادہ حرج ہو رہا ہے۔ دنیا میں جتنی بھی ایجادات ہوئی ہیں ان میں زیادہ تر انسانی فوائد کو مد نظر رکھا گیا۔ یہ ہم ہی ہیں جنہوں نے ان ایجادات کو منفی مقاصد کا ذریعہ بنا لیا۔ ضرورت اس امر کی ہے کہ ان ایجادات کو صرف مثبت مقاصد کے لیے ہی استعمال کیا جائے۔

سوال نمبر 28: پیرا گراف کا مناسب عنوان تجویز کریں۔

- (a) موبائل فون کے اثرات (b) رابطہ کا اہم ذریعہ (c) ویڈیو گیمز کے نقصانات (d) زندگی کی اہم ضرورت

سوال نمبر 30: پیرا گراف کے مطابق ہر سہولت کا بنیادی مقصد ہوتا ہے:

- (a) منفی (b) مثبت (c) بے کار (d) کمائی

سوال نمبر 32: وہ صدی جس میں موبائل فون ٹیکنالوجی نے سب سے زیادہ ترقی کی:

- (a) اٹھارھویں (b) انیسویں (c) بیسویں (d) اکیسویں

حصہ دوم: انشائیہ سوالات

Result.pk

سوال نمبر 33: درج ذیل اشعار کی تشریح لکھیں۔ (10 نمبر)

ہمیشہ بل کے رہنے کے نتیجے نیک ہوتے ہیں // وہیں کچھ لطف ہوتا ہے جہاں دل ایک ہوتے ہیں  
بہی ایکا تو رستہ کامیابی کا دکھاتا ہے // یہی ایکا تو ہر مشکل میں اپنے کام آتا ہے

سوال نمبر 34: ”صحیح کی سیر“ کے عنوان پر مضمون تحریر کریں۔ (10 نمبر)

سوال نمبر 35: ”خوشامد بڑی بلا ہے۔“ کے عنوان کے تحت سبق آموز کہانی تحریر کریں۔ (10 نمبر)

سوال نمبر 36: سکول کے ہیڈ ماسٹر / ہیڈ مسٹریس کے نام بیماری کی درخواست تحریر کریں۔ (10 نمبر)

سوال نمبر 37: نثر پارہ کو پڑھیں اور اس کا خلاصہ بھی سنائیں۔ (6 نمبر)

سوال نمبر 38: نظم پارہ کو سنیں اور پوچھے جانے والے سوالات کے جوابات بتائیں۔ (ممتحن دونوں گروپس میں سے کل تین سوال پوچھے۔) (6 نمبر)