

SCHOOL BASED ASSESSMENT 2024

MODEL PAPER

English Grade 5



[Part A: 50 Marks Part B: 50 Marks Total: 100 Marks] , Time = 3 hours

School Name: _____

Student Name : _____

Roll Number : _____

Section : _____

OBJECTIVE PART(MCQs)

Question No.1 : Which word has a 'Silent Letter'?

- (a) Thursday (b) Sunday (c) Wednesday (d) Monday

Question No.3 : Select the number that starts with a 'Vowel Sound'.

- (a) Eleven (b) Twelve (c) Thirteen (d) Fourteen

Question No.5 : Identify the 'Countable Noun'.

- (a) Egg (b) Milk (c) Meat (d) Butter

Question No.7 : Join a word with 'House' to make a 'Compound Word'.

- (a) Son (b) Wife (c) Man (d) Boy

Question No.9 : 'The businessman was carrying his luggage _____.'

- (a) himself (b) herself (c) yourselves (d) ourselves

Question No.11 : 'Majid helped the police to catch the thief and felt _____.'

- (a) sorrow (b) bad (c) proud (d) sad

Question No.13 : Fill in the blank with an 'Adjective of Shape'.
'She bought a _____ cake for her birthday.'

- (a) butter (b) sweet (c) round (d) cream

Question No.15 : 'The rat is _____ the table.'

- (a) in (b) on
(c) at (d) up



Question No.17 : 'The height of the basketball circle is set at ten _____.'

- (a) foot (b) feets (c) feet (d) foots

Question No.19 : Choose an 'Irregular Verb' from the following.

- (a) Come (b) Copy (c) Clap (d) Climb

Question No.21 : Select the word with the same sound as 'Beat'.

- (a) Best (b) Bet (c) Beet (d) Bat

Paragraph Instruction

*Read the paragraph carefully and answer the following questions given below.

We mostly get sugar from sugar cane. In South America, they use maple trees. The sugar maple is a hard maple tree. It can grow as tall as 100 feet and as wide as 4 feet. Its sap is used in the making of maple syrup. To collect pure maple syrup, holes are made in the trunk of the tree. The water-like sap seeps through the holes. It is collected in a tank. Then the sap is boiled. Now it is ready to be used. The maple syrup found in the markets, however, is usually not pure and has other additives. The maple tree is also important for its wood. It is used in furniture, interior woodwork, flooring, and crates.



Question No. 22 : Why is the maple syrup usually not pure in markets?

- (a) It is boiled for long.
(b) It contains additives.
(c) It is made from sugar cane.
(d) It has a dark brown colour.

Question No.2 : Rearrange the word 'Listen' to make another meaningful word.

- (a) Silent (b) Nelist (c) Tensil (d) Sentil

Question No.4 : Select the 'Opposite' of 'Push'.

- (a) Press (b) Pull (c) Close (d) Lock

**Question No.6 : Choose 'Suffix' for the word 'Owner_____'.
(a) -ship (b) -ly (c) -ful (d) -ism**

Question No.8 : Identify the 'Neuter Gender'.

- (a) Pilot (b) Chef (c) Tailor (d) Dress

Question No.10 : 'He is as strong _____ a bull.'

- (a) like (b) as (c) same (d) too

Question No.12 : Identify the 'Action' shown in the given picture.

- (a) Packing (b) Planting
(c) Sowing (d) Painting



Question No.14 : Select an 'Adverb of Manner' from the followings.

- (a) Early (b) Lately (c) Happily (d) Monthly

Question No.16 : What is the correct way of writing 45 in words?

- (a) Forty-five (b) Forty_five (c) Forty+five (d) Forty=five

Question No.18 : Identify the 'Interrogative Sentence'.

- (a) Sun is a huge star.
(b) Air is not visible.
(c) What is a planet?
(d) I can't believe it!

Question No.20 : Look at the picture and use correct pointing word.

' _____ is a mango tree.'

- (a) That (b) Those
(c) This (d) These



Question No.23 : What is the title of the paragraph?

- (a) The Sugar Maple
(b) The Sugar Cane
(c) The Water Maple
(d) The Woodwork

Question No.24 : How is pure maple syrup made?

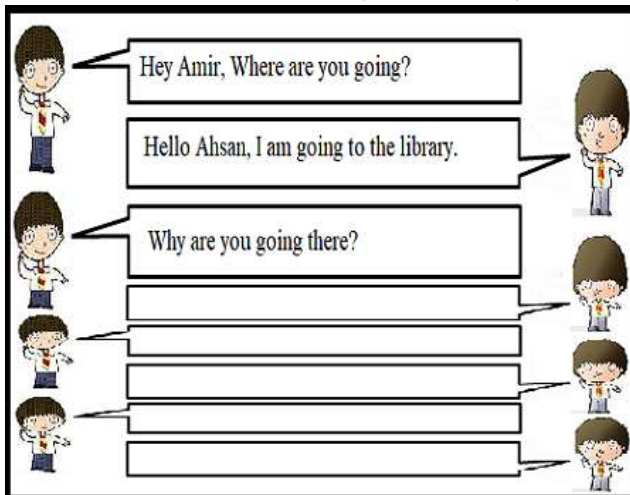
- | | | | |
|------------------------------------|-------------------------------------|------------------------------|----------------------------------|
| (a) Extracting sap from sugar cane | (b) Collecting sap from maple trees | (c) Boiling sugar cane juice | (d) Mixing sugar cane with water |
|------------------------------------|-------------------------------------|------------------------------|----------------------------------|

Question No.25 : What is the height range of a sugar maple tree?

- | | | | |
|------------------|--------------------|-------------------|-------------------|
| (a) Up to 4 feet | (b) Up to 100 feet | (c) Up to 50 feet | (d) Up to 35 feet |
|------------------|--------------------|-------------------|-------------------|

SUBJECTIVE PART(CRQs)

Question No.26 : Complete the dialogue in the speech bubbles. Write five more dialogues. Use correct grammar, punctuation and spelling. Marks (10)



Question No.27 : Write a paragraph of five sentences on 'Qualities of a Good Student'. You can use the following hints. Use correct grammar, punctuation and spelling. Marks (10)

Hints: Regular, punctual, hardworking, obedient, careful, disciplined

Question No.28 : The following letter has many mistakes in layout, grammar, punctuation and spelling. Read the letter carefully and rewrite it after removing these mistakes. Marks (08)

City A.B.C.

Examination Hall,
February 18, 2023,
Dear Sir?

I hope you are doing well. I am writing to let you know that I Admire you. I appreciate how patient you are when I don't understand. I respect your behavior that how kind you are to all your students. I have changed because of you. You are an Amazing person. You taught me to work hard and achieve my goals. Hope you will definitely see the change in me. Please pray for my success and give my regards to all at home.

X.Y.Z.

Yours sincerely,

Question No.29 : Look at the given picture and write a short story with a moral by using the hints given below. Use correct grammar, punctuation and spelling. Marks (10)

Three friends a forest golden coins sent one friend to buy food mixed poison into the food Moral:.....



Question No.30 : Reading Question: Marks (04) - Instructions for the Students: Read the given paragraph correctly with correct pronunciation.

Paragraph for Reading:(There are two main types of fruit: fleshy fruits and dry fruits. In fleshy fruits, the part of the fruit around the seeds is juicy and soft. Apples, berries, oranges, and other fleshy fruits contain many seeds. Some fleshy fruits for example, cherries and peaches contain only one seed, or pit. These are called stone fruits. Dry fruits are not as juicy as fleshy fruits. Dry fruits include beans and nuts.)

Question No.31 : Listening & Speaking Question: Marks (08) - Instructions for the Student: Read the following questions carefully and follow the instructions given by your teacher.

Questions Group 1: Q1. What is the Moon? Marks (04) Q2. What are the pits called? Marks (04) Q3. From where does the Moon get its light? Marks (04)

Question Group 2: Q1. Where does the Moon orbit? Marks (04) Q2. What pulls on the Earth? Marks (04) Q3. What is the Moon made of? Marks (04)

SCHOOL BASED ASSESSMENT 2024

MODEL PAPER

Islamiat Grade 5

[Part A: 50 Marks Part B: 50 Marks Total: 100 Marks] , Time = 3 hours



School Name: _____

Student Name: _____

Roll Number: _____

Section: _____

حصہ اول: معروضی سوالات

سوال نمبر 1: **وَآزَسَلْنَا عَلَيْهِمْ طُوفًا بِآبَائِهِمْ** آیت مبارکہ سورۃ میں ہے:

- (a) سورۃ العصر (b) سورۃ الفیل (c) سورۃ القدر (d) سورۃ الماعون

سوال نمبر 3: دنیا کی زندگی ختم ہو جائے گی، اس عقیدے کا تعلق ہے:

- (a) اللہ تعالیٰ پر ایمان (b) آخرت پر ایمان (c) فرشتوں پر ایمان (d) کتابوں پر ایمان

سوال نمبر 5: معاشرے سے غربت کا خاتمہ کرنے کے لیے ضروری ہے:

- (a) نماز (b) روزہ (c) زکوٰۃ (d) حج

سوال نمبر 7: فطرانہ ادا کیا جاتا ہے:

- (a) عید الفطر سے پہلے (b) عید الفطر کے بعد (c) عید الاضحیٰ سے پہلے (d) عید الاضحیٰ کے بعد

سوال نمبر 9: بیعت عقبہ اولیٰ میں حضرت مصعب رضی اللہ تعالیٰ عنہ کو سونپی گئی ذمہ داری اہمیت کو ظاہر کرتی ہے:

- (a) دولت کی (b) کفایت شعاری کی (c) علم کی (d) عبادت کی

سوال نمبر 11: وہ زمین جس پر مسجد نبوی صلی اللہ علیہ وعلیٰ آلہ وَاٰحِبَّاهِ وَاَسْلَمْنَا لَهُ سَلَّمَ نے مسجد نبوی کی تعمیر کا ارادہ فرمایا:

- (a) بیوہ عورت کی (b) بہرے آدمی کی (c) ایک اندھے آدمی کی (d) دو یتیم بچوں کی

سوال نمبر 13: بیثاق مدینہ کے تحت امن وامان قائم رکھنے کی ذمہ داری تھی:

- (a) مہاجرین کی (b) انصاریوں کی (c) یہودیوں کی (d) تمام قبائل کی

سوال نمبر 15: نرمی ایک ایسی خوبی ہے جس کے نہ ہونے سے انسان محروم ہو جاتا ہے:

- (a) عزت سے (b) دولت سے (c) علم سے (d) بھلائی سے

سوال نمبر 17: وعدہ خلافی کرنے والا شخص روزمرہ زندگی میں شکار ہو جاتا ہے:

- (a) کتبوسی کا (b) اسراف کا (c) غفلت کا (d) ذلت کا

سوال نمبر 19: معاشرے میں اتحاد اور اعتماد کو قائم رکھنے کے لیے ہمیں پچنا ہوگا:

- (a) چغلی خوری سے (b) گروہ بندی سے (c) سفارش سے (d) جہالت سے

سوال نمبر 21: کوڑھ کے مریضوں کو اللہ کے حکم سے شفا یاب کرنا معجزہ تھا:

- (a) حضرت داؤد علیہ السلام کا (b) حضرت سلیمان علیہ السلام کا (c) حضرت موسیٰ علیہ السلام کا (d) حضرت عیسیٰ علیہ السلام کا

سوال نمبر 23: حضرت داتا گنج بخش ہجویری رحمۃ اللہ تعالیٰ علیہ کے فرمان سے پتا چلتا ہے کہ علم کے ساتھ ضروری ہے:

- (a) عقل (b) عمل (c) نصیحت (d) پڑھائی

سوال نمبر 25: درختوں کے باعث کم ہوتی ہے:

- (a) آکسیجن (b) نائٹروجن (c) کاربن ڈائی آکسائیڈ (d) آرگون

- (i) عقیدہ آخرت سے کیا مراد ہے؟ (3)
- (ii) حدیث مبارک کی روشنی میں عقیدہ آخرت کی اہمیت بیان کریں؟ (3)
- (iii) عقیدہ آخرت پر ایمان رکھتے ہوئے ہمیں کس طرح زندگی بسر کرنی چاہیے؟ (4)

- (i) مدینہ منورہ میں آباد تین یہودی قبائل کے نام لکھیں۔ (3)
- (ii) کوئی سی تین دفعات کی روشنی میں بیثاق مدینہ کی اہمیت واضح کریں۔ (3)
- (iii) بیثاق مدینہ کے مدینہ منورہ پر ہونے والے اثرات سے ہم کیا رہنمائی حاصل کر سکتے ہیں؟ (4)
- (i) عفو و درگزر سے متعلق ایک حدیث مبارک کا ترجمہ تحریر کریں۔ (2)
- (ii) قرآن و حدیث کی روشنی میں رحمہ کی اہمیت بیان کریں۔ (4)
- (iii) سیرت نبوی خاتم النبیین صَلَّى اللهُ عَلَيْهِ وَآلِهِ وَآخِصِيهِ وَسَلَّمَ میں رحم دلی کے واقعات کی روشنی میں ہمیں کیسا رویہ اختیار کرنا چاہیے؟ (4)

- (i) اسلامی اخوت سے کیا مراد ہے؟ (2)
- (ii) حضرت محمد خاتم النبیین صَلَّى اللهُ عَلَيْهِ وَآلِهِ وَآخِصِيهِ وَسَلَّمَ کی زندگی سے اسلامی اخوت کا کوئی ایک واقعہ تحریر کیجیے۔ (3)
- (iii) ہمیں اپنی روزمرہ زندگی میں اخوت قائم رکھنے کے لیے کیا اقدامات کرنے چاہیں؟ (5)

- (i) آیت مبارکہ وَلَا تُؤْتُوا بِأَيِّدِيكُمْ إِلَى التَّهْلُكَةِ کا ترجمہ تحریر کریں۔ (2)

- (ii) حادثات کے متعلق اسلامی تعلیمات کیا ہیں؟ (4)

- (iii) حادثات سے بچاؤ کی کوئی سی چار احتیاطی تدابیر تحریر کریں۔ (4)

Result.pk

SCHOOL BASED ASSESSMENT 2023-24

MODEL PAPER

Mathematics Grade 5

[Part A: 50 Marks Part B: 50 Marks Total: 100 Marks] , Time = 3 hours



School Name: _____

Student Name: _____

Roll Number: _____

Section: _____

OBJECTIVE PART(MCQs)

Question No.1 : Eighty thousand two hundred fifteen in numerals is:

- (a) 8215 (b) 80215 (c) 800215 (d) 802015

Question No.3 : The solution of 473×30 is:

- (a) 14190 (b) 19140
(c) 19410 (d) 41910

Question No.5 : Identify the pattern rule of 30, 27, 24, . . . :

- (a) Addition (b) Subtraction
(c) Multiplication (d) Division

Question No.7 : The LCM of 10 and 15 is:

- (a) 20 (b) 25 (c) 30 (d) 40

Question No.9 : The descending order of

2.47, 1.62, 0.31, 4.76, 2.74 is:

- (a) 0.31, 1.62, 2.47, 2.74, 4.76 (b) 4.76, 2.74, 2.47, 1.62, 0.31
(c) 0.31, 1.62, 2.74, 2.47, 4.76 (d) 4.76, 2.47, 2.74, 1.62, 0.31

Question No.11 : The solution of 41.7×4 is:

- (a) 156.8 (b) 164.8 (c) 166.8 (d) 167.8

Question No.13 : A bicycle covers a distance of 29.5 km in 5 hours.

The distance covered in one hour will be:

- (a) 5.9 km (b) 24.5 km
(c) 35.9 km (d) 147.5 km

Question No.15 : 15% in decimals will be:

- (a) 0.015 (b) 0.15 (c) 1.15 (d) 1.50

Question No.17 : Metres in 3700 cm are:

- (a) 0.37 m (b) 3.7 m
(c) 37 m (d) 370 m

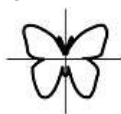
Question No.19 : If the price of one toy is Rs 20, then the price of 7 toys will be:

- (a) Rs 27 (b) Rs 49
(c) Rs 140 (d) Rs 270

Question No.21 : The complement of 55° is:

- (a) 25° (b) 30°
(c) 35° (d) 45°

Question No.23 : The lines of symmetry in the given figure are:



- (a) 1 (b) 2
(c) 3 (d) 4

Question No.25 : The average of 3, 5, 9 and 15 is:

- (a) 4 (b) 5
(c) 6 (d) 8

Question No.2 : The solution of $67207 - 948$ is:

- (a) 66259 (b) 67269 (c) 67741 (d) 68155

Question No.4 : The next term of the pattern 3, 6, 9, ___ is:

- (a) 10 (b) 11 (c) 12 (d) 13

Question No.6 : The HCF of 8 and 12 is:

- (a) 2 (b) 3 (c) 4 (d) 6

Question No.8 : The solution of $\frac{9}{10} \times \frac{15}{18}$ is:

- (a) $\frac{3}{2}$ (b) $\frac{3}{4}$ (c) $\frac{3}{5}$ (d) $\frac{4}{3}$

Question No.10 : The solution of $23.56 - 1.75$ is:

- (a) 16.06 (b) 21.81 (c) 25.31 (d) 41.23

Question No.12 : The solution of $68.4 \div 9$ is:

- (a) 5.6 (b) 6.7 (c) 7.6 (d) 8.6

Question No.14 : By rounding off 4.816 to one decimal place, we get:

- (a) 4.7 (b) 4.8 (c) 4.9 (d) 4.82

Question No.16 : Hassan got 45 marks out of 75 in Urdu test. His marks percentage is:

- (a) 23% (b) 35%
(c) 60% (d) 70%


Question No.18 : Days in 10 weeks are:

- (a) 50 (b) 60
(c) 70 (d) 80

Question No.20 : If the price of 5 bags is Rs 2500 then the price of one bag will be:

- (a) Rs 500 (b) Rs 400
(c) Rs 300 (d) Rs 200

Question No.22 : Identify the Isosceles triangle.



Question No.24 : The order of rotational symmetry of the given figure is:



- (a) 2 (b) 3
(c) 4 (d) 5

SUBJECTIVE PART(CRQs)

Question No: 26

- a) Solve 87259×132 (5 marks)
- b) Find the LCM of 24, 32 and 40 by division method. (5 marks)

Question No: 27

- a) Solve $2\frac{14}{25} \div 2\frac{2}{10}$ (5 Marks)
- b) 82.5 kg of rice is packed in some packets. If each packet contains 5.5 kg of rice, then find the number of packets. (5 marks)

Question No: 28

- a) Afzal's age is 12 years 8 months and his sister's age is 15 years 10 months. What will be the difference between their ages in months? (5 Marks)
- b) Maryam bakes a cake in 35 minutes 45 seconds and a pizza in 45 minutes 27 seconds. How much time does she take to bake both the items? (5 marks)

Question No: 29

- a) Find the supplementary angle of 110° . (5 Marks)
- b) Draw a rectangle ABCD with the help of protractor and ruler. Whose length is 4cm and width is 3cm. (5 Marks)

Question No: 30

- a) A rectangular pool is 9 metre long and 6.8 metre wide. Find the perimeter of the pool. (5 marks)
- b) Rizwan has 16, Hafeez has 20, Shan has 15 and Ali has 9 books. Find the average of books. (5 Marks)

Result.pk

SCHOOL BASED ASSESSMENT 2024

Model Paper

Science Grade 5



[Paper A: 50 Marks, Paper B: 50 Marks, Total: 100 Marks] , Time = 3 hours

School Name: _____

Student Name : _____

Roll Number : _____

Section : _____

OBJECTIVE PART(MCQs)

Question No.1 : Grouping of organisms based on differences and similarities is called:

- (a) classification (b) reproduction (c) pollination (d) fertilization

Question No.3 : A student saw an animal in a garden. It has a round and cylindrical body with no legs. When exposed to light, it quickly crawls into the ground. To which group does this animal belong?

- (a) Sponges (b) Molluscs (c) Worms (d) Echinoderms

Question No.5 : The germs of COVID-19 virus spread through:

- (a) air (b) water (c) food (d) light

Question No.7 : Which of the following components is NOT present in a gram seed?

- (a) Cotyledon (b) Micropyle (c) Endosperm (d) Radicle

Question No.9 : Old worn-out tyres can be used again by adopting which strategy?

- (a) Refuse (b) Reuse (c) Reduce (d) Recycle

Question No.11 : Bacteria and fungi decompose the dead bodies into simple components called:

- (a) decaying (b) burning (c) rusting (d) freezing

Question No.13 : What will be the size of a shadow when the distance between the object and the light source increased?

- (a) Bigger (b) Smaller (c) Equal (d) Disappear

Question No.15 : Leaves of a tree are an example of _____ object.

- (a) transparent (b) luminous (c) translucent (d) opaque

Question No.17 : Which of the following materials is a good conductor of electricity?

- (a) Wood (b) Plastic (c) Copper (d) Rubber

Question No.19 : Identify the biggest part of the Earth.


- (a) Crust (b) Mantle (c) Internal core (d) External core

Question No.21 : Which of the following is NOT a function of an artificial satellite?

- (a) Communication (b) Navigation
(c) Getting weather information (d) Preparation of products

Question No.23 : The activity shown in the image is adopted to avoid which disaster?

- (a) Fire
(b) Flood
(c) Storm
(d) Earthquake



Question No.2 : The internal skeleton of vertebrates is made up of:

- (a) muscles (b) skin (c) bones (d) tissues

Question No.4 : Which of the following diseases is caused by a virus?

- (a) Smut (b) Cholera (c) Polio (d) Typhoid

Question No.6 : Labelled part 'X' of the given image consists of:

- (a) sepal and petal
(b) stigma and style
(c) ovary and sepal
(d) anther and filament



Question No.8 : Which of the following is the cause of air pollution?

- (a) Fertilizers (b) Garbage (c) Plastic (d) Smoke

Question No.10 : Sourness of milk indicates:

- (a) physical change (b) chemical change
(c) temporary change (d) no change

Question No.12 : Which of the following has an unpleasant sound?

- (a) Donkey (b) Cat (c) Parrot (d) Sparrow

Question No.14 : Which of the following is a natural source of light?

- (a) Candle (b) Torch (c) Firefly (d) Bulb

Question No.16 : Which of the following is a magnetic material?

- (a) Pencil (b) Nail (c) Glass (d) Rubber

Question No.18 : Which component of an electric circuit controls the flow of charges?

- (a) Battery (b) Wire (c) Switch (d) bulb

Question No.20 : The presence of bacteria and fungi makes the soil:

- (a) sandy (b) hard (c) fertile (d) sticky

Question No.22 : Following all are the functions of NASA, EXCEPT:

- (a) space exploration (b) discovery of new technology
(c) new scientific discoveries (d) exploration of water resources

Question No.24 : What should we do while working in a laboratory?

- (a) Handle sharp tools with care
(b) Keep unnecessary objects around you
(c) Use electricity-operated tools
(d) Use spit for folding pages

Question No.25 : Which instrument is being used to check the vertical level of the wall in the given image ?

- (a) Spirit level
- (b) Wire cutter
- (c) Drill machine
- (d) Plumb line



SUBJECTIVE PART(CRQs)

Question No: 26

- a) Why classification of organisms is important? (3 Marks)
- b) Which group does the honeybee belong to? Explain why it is placed in this group. (3 Marks)
- c) How monocot plant is different from the dicot plant? Write any two differences. (2+2=4 Marks)

Question No: 27

- a) Identify biodegradable and non-biodegradable materials from the following. (3 Marks)
Grass, polythene bag, sand

- b) Write three effects of global warming. (3 Marks)

- c) Write any two effects of the following types of pollution. (2+2=4 Marks)

- 1. Air pollution
- 2. Water pollution

Question No: 28

- a) What is the difference between temporary and permanent magnets? (2 Marks)

- b) Identify magnetic and non-magnetic materials from the given list. (4 Marks)

Rubber, steel pin, iron nails, plastic bottle

- c) How you can make a magnetic compass at home? (4 Marks)

Question No: 29

- a) What do you know about the core of the Earth? (2 Marks)

- b) Write two differences between clay and sand. (4 Marks)

- c) Why silt is best for plantation? Write four reasons. (4 Marks)

Question No: 30

- a) Identify the circuit in the given image and write its characteristics. (1+2=3 Marks)



- b) Separate the given objects as magnetic or non-magnetic materials. (3 Marks)

Stone, Iron coins, Iron rod

- c) Describe the types of charges and their properties. (2+2=4 Marks)

SCHOOL BASED ASSESSMENT 2024

MODEL PAPER

Social Studies Grade 5

[Part A: 50 Marks Part B: 50 Marks Total: 100 Marks] , Time = 3 hours



School Name: _____

Student Name : _____

Roll Number : _____

Section : _____

OBJECTIVE PART(MCQs)

Question No.1 : The Universal Declaration of Human Rights of 1948 provide the right by the Article 19 of:

- (a) freedom of expression (b) respect of personal information
(c) freedom of organization (d) freedom of religion

Question No.3 : Edhi Foundation has provided the biggest system of:

- (a) hospitals (b) shelters
(c) free ambulances (d) correspondance

Question No.5 : The wool woven dress of Gilgit-Baltistan is called:

- (a) Shalwar-Qameez (b) Frock
(c) Shoqa (d) Dhoti Kurta

Question No.7 : The most important role played in the revival of Islamic calligraphy by:

- (a) Ismail Gull Jee (b) Sadqain
(c) Abdur Rehman Chughtai (d) Ahmed Parvaiz

Question No.9 : Government system formed through election is:

- (a) monarchy (b) caliphate
(c) democratic (d) authoritarian

Question No.11 : Gandhara Civilization was destroyed because of:

- (a) pleasures of the nobles (b) civil war in the country
(c) invasion of nomads (d) invasion of the Greeks

Question No.13 : The number of lines of longitude are:

- (a) 80 (b) 90
(c) 180 (d) 360

Question No.15 : Natural disaster that affect tall buildings the mostly is:

- (a) flood (b) earthquake
(c) cyclone (d) drought

Question No.17 : Sand dunes, thorn bushes and plants are found in:

- (a) forests (b) desert
(c) Pothwar Plateau (d) hill ranges

Question No.19 : The most important reason for increase in population density is:

- (a) increase in literacy rate (b) increase in mortality rate
(c) awareness of family planning (d) increase in illiteracy rate

Question No.21 : The example of small scale business is:

- (a) textile mill (b) shopping mall
(c) electrician shop (d) automobile industry

Question No.23 : Means used to take goods from one place to another are called:

- (a) means of communication (b) means of production
(c) means of transportation (d) means of import and exports

Question No.2 : An important role to protect the rights of citizens is played by:

- (a) Government (b) students
(c) society (d) organizations

Question No.4 : Broshki language is spoken in:

- (a) Baluchistan (b) Punjab
(c) Gilgit Baltistan (d) Sindh

Question No.6 : The present world has changed due to modern means of communication into:

- (a) International community (b) Global alliance
(c) World association (d) Global village

Question No.8 : Under the 1973 constitution, all children between the ages of five to sixteen were given the right of:

- (a) free and compulsory education (b) playing and labour
(c) labour and health (d) speech and writing

Question No.10 : In 1896 started _____ from Greece:

- (a) modern Cricket (b) modern Football
(c) modern Polo (d) modern Olympics

Question No.12 : Qazi Muhammad Isa played an important role in Balochistan to the:

- (a) merger of Muslim League (b) registration of Muslim League
(c) stability of Muslim League (d) expansion of Muslim League

Question No.14 : The land distance between places on a map can find out with the help of:

- (a) title (b) scale
(c) borders (d) direction

Question No.16 : A latitude is approximately equal to:

- (a) 110 Kilometer (b) 111 Kilometer
(c) 112 Kilometer (d) 113 Kilometer

Question No.18 : The silk road connecting Pakistan and China passes through the mountain range:

- (a) Himalaya (b) Karakoram
(c) Hindu Kuch (d) Koh-e-Suleman

Question No.20 : State Bank of Pakistan was established on:

- (a) 1st July 1948 (b) 1st August 1948
(c) 1st September 1948 (d) 1st November 1948

Question No.22 : Electronic devices and computers have made easier:

- (a) food transfer (b) animal transfer
(c) money transaction (d) cars transfer

Question No.24 : WAPDA is the important Government authority of Pakistan that supply:

- (a) electricity (b) water
(c) gas (d) internet

Question No.25 : The main reason for the end of the practice of keeping more money in the pocket is:

- (a) digitalization (b) urbanization
(c) vandalization (d) sensitization

SUBJECTIVE PART(CRQs)

Question No: 26

a) Describe the methods to promote peace and harmony. (Marks 05)

b) Write daily common etiquette. (Marks 05)

Question No: 27

a) Describe the difference between Punjab and Balochistan dresses. (Marks 05)

b) All the cultural groups living in Pakistan have different languages, Explain.(Marks 05)

Question No: 28

a) Explain the views of Sir Syed Ahmed Khan regarding the two-nation theory.(Marks 05)

b) Write a note on the educational services of Sir Syed Ahmad Khan.(Marks 05)

Question No: 29

a) When and how did the concept of time zones originate? Explain. (Marks 05)

b) Write the method of knowing the time of any country with reference to Greenwich. (Marks 05)

Question No: 30

a) Write a note on imports of Pakistan. (Marks 05)

b) What is meant by means of transportation? What are the main modes of transportation? (Marks 05)

Result.pk

SCHOOL BASED ASSESSMENT 2024

MODEL PAPER

Urdu Grade 5

[Part A: 50 Marks Part B: 50 Marks Total: 100 Marks] , Time = 3 hours



School Name: _____

Student Name : _____

Roll Number : _____

Section : _____

حصہ اول: معروضی سوالات

- سوال نمبر 1: بادشاہ نے کہا ”ہم نے گرم پانی کی سطح پر گوشت کی چکنائی دیکھ کر اندازہ لگا لیا تھا کہ یہ روپیہ انھوں نے گوشت فروخت کر کے کمایا ہے۔“ لفظ ”چکنائی“ سے مراد ہے:
- (a) ہڈی (b) خون (c) بال (d) چربی
- سوال نمبر 3: تائیت (بے جان) کا درست جملہ ہے:
- (a) چارپائی ٹوٹ گیا۔ (b) چارپائی ٹوٹ گئے۔
(c) چارپائی ٹوٹ گئی۔ (d) چارپائی ٹوٹ گئیں۔
- سوال نمبر 4: ”حماد اپنی جماعت کا ایک ذہین طالب علم ہے۔“ جملے میں ”اس صفت“ ہے:
- (a) حماد (b) ذہین (c) طالب علم (d) جماعت
- سوال نمبر 5: ”حرف تاسف“ کے درست استعمال والا جملہ ہے:
- (a) ارے اکرم! امیر اموبائل دینا۔ (b) افسوس! انسان غفلت کا شکار ہو گیا۔
(c) ماشا اللہ! آصف بہت خوش ہے۔ (d) واہ بھائی واہ! آپ نے اچھا کام کیا ہے۔
- سوال نمبر 6: حرف جار کے استعمال والا جملہ ہے:
- (a) ہمیں اپنے وطن سے محبت ہے۔ (b) میں اور بلال ہم جماعت ہیں۔
(c) ہاکی اور کرکٹ مشہور کھیل ہیں۔ (d) ہمیں صبح وشام محنت کرنی چاہیے۔
- سوال نمبر 7: درست اسم معرفہ کی پہچان کریں:
- (a) ہم لاہور گئے۔ (b) تم لاہور گئے۔ (c) علی لاہور گیا۔ (d) وہ لاہور گئے۔
- سوال نمبر 8: اجمل نے دیاسلائی۔
- (a) جلائے (b) جلاتا (c) جلائی (d) جلاتے
- سوال نمبر 9: ”استاد صاحب کراجماعت میں حمد کے متعلق باتیں کرتے رہتے ہیں“ آپ کی رائے میں وہ پڑھاتے ہیں:
- (a) جغرافیہ (b) ریاضی (c) اردو (d) سائنس
- سوال نمبر 10: ”نالہ“ کا مطلب ہے ”رونا“ جب کہ نالہ کا مطلب ہوگا:
- (a) دریا (b) سمندر (c) ندی (d) چشمہ
- سوال نمبر 11: واوین کے درست استعمال والا جملہ ہے:
- (a) ارشاد باری تعالیٰ: ”نماز“ کی پابندی کرو۔ (b) ارشاد باری تعالیٰ: ”نماز کی پابندی کرو۔“
(c) ”ارشاد باری تعالیٰ: ”نماز کی پابندی کرو۔“ (d) ارشاد باری تعالیٰ: نماز کی ”پابندی“ کرو۔
- سوال نمبر 12: علامت فاعل اور مفعول کا درست جملہ ہے:
- (a) ہمیں نیک کام کرنے چاہئیں۔ (b) اجمل نے اسرار کو کتاب دی۔
(c) یہ بستہ بھی ریاض کا ہے۔ (d) یہ کامران کی گاڑی نہیں ہے۔
- سوال نمبر 13: یہ میلا موسم بہار کی آمد کی خوشی میں منایا جاتا تھا۔ زائرین کی کثیر تعداد شاہ حسین کے مزار پر چراغ جلایا کرتی تھی۔
- اسی مناسبت سے اس میلے کو کہا جاتا ہے:
- (a) میلا مویشیاں (b) میلا چراغاں (c) کُتب میلا (d) صنعتی میلا
- سوال نمبر 14: بس گیٹ نمبر 11 پرڑک گئی، درست عددی ترتیب کی نشان دہی کریں:
- (a) گیارہ (b) گیارہواں (c) گیارہویں (d) گیارواں
- سوال نمبر 15: اردو ویکیپیڈیا ہے:
- (a) پلے سٹور (b) انٹرنیٹ (c) ویب سائٹ (d) ایپ
- سوال نمبر 16: محلہ میں سڑک کنارے دو اوباش شخص بیٹھے ہوں تو آپ کا رد عمل ہوگا:
- (a) تھانہ میں رپورٹ کریں گے۔ (b) وہاں تماشادیکھیں گے۔
(c) دوستوں کو اکٹھا نہیں کریں گے۔ (d) ان کے پاس بیٹھ جائیں گے۔
- سوال نمبر 17: ماحول کو فضائی آلودگی سے بچانے کے لیے کرنا چاہیے:
- (a) درختوں کی کٹائی (b) کارخانوں میں اضافہ
(c) شجرکاری (d) گاڑیوں کا بے تحاشا استعمال
- سوال نمبر 18: سڑک پر نصب بورڈ کے اوپر سرنخ، پیلے اور سبز نشانات کا تعلق ہے:
- (a) بس اسٹیشن (b) پناہ گاہ (c) ہسپتال (d) ٹریفک کا اشارہ
- سوال نمبر 19: حرف عطف کے استعمال والا جملہ ہے:
- (a) مجھے کام کرنا ہے۔ (b) مجھے قلم لا دو۔
(c) مجھے کاغذ اور قلم لا دو۔ (d) مجھے سکول جانا ہے۔
- سوال نمبر 20: چھوٹے بھائی سے برتن گر کر ٹوٹ جائے تو آپ کا رد عمل ہونا چاہیے:
- (a) چیخیں گے۔ (b) ڈانٹیں گے۔ (c) شکایت لگائیں گے۔ (d) سمجھائیں گے۔

پیرا گراف ہدایات

درج ذیل پیرا گراف کو غور سے پڑھیں اور سوالات کے درست جوابات کی نشان دہی کریں۔

فلم کے آخری حصے میں ہم نے ایک حیران کن منظر دیکھا۔ یہاں کچھ لوگ گھوڑوں پر سوار ہو کر ہاکی کی طرز کا کوئی کھیل کھیل رہے تھے۔ پتا چلا کہ اس کھیل کو ”پولو“ کہتے ہیں۔ گلگت بلتستان کا صدر مقام گلگت ہے اور پولو گلگت بلتستان کا مشہور کھیل ہے جو کہ چترال اور گلگت کی سرحد پر واقع دنیا کے بلند پولو گراؤنڈ ”شندور“ میں کھیلا جاتا ہے۔ یہاں ہر سال ایک میلا لگتا ہے، جسے شندور میلا کہتے ہیں۔ اس میلے میں دیگر علاقائی کھیل بھی کھیلے جاتے ہیں۔ گلگت بلتستان کو اللہ نے بے شمار قدرتی وسائل سے نوازا ہے۔ یہاں کے مشہور شہروں میں چلاس، گلگت، سکردو، ہنزہ، گاگوج، استور اور جگلوٹ شامل ہیں۔ اس کے علاوہ یہاں خوب صورت پہاڑی سلسلے بھی موجود ہیں۔ ہر سال ہزاروں لوگ سیر و تفریح کے لیے گلگت بلتستان کا رخ کرتے ہیں۔

- سوال نمبر 21: گھوڑوں پر سوار ہو کر کھیل کھیلا جاتا ہے:
- (a) ہاکی (b) پولو (c) فٹ بال (d) کرکٹ
- سوال نمبر 22: ”شندور“ سے مراد ہے:
- (a) کھیل (b) رواج (c) ثقافت (d) مقام
- سوال نمبر 23: پیراگراف کے مطابق گلگت بلتستان کے مشہور شہروں کی تعداد ہے:
- (a) چار (b) سات (c) پانچ (d) چھ
- سوال نمبر 24: پولو کا کھیل کھیلنے کے لیے کھلاڑی استعمال کرتے ہیں:
- (a) بلا (b) ریکٹ (c) چھتری (d) ہاکی
- سوال نمبر 25: پیراگراف کا مناسب عنوان ہے:
- (a) پنجاب کے مشہور کھیل (b) سندھ کے مشہور کھیل (c) گلگت بلتستان کے مشہور کھیل (d) کشمیر کے مشہور کھیل

حصہ دوم: انشائیہ سوالات



سوال نمبر 26: تصویر میں دکھائی دینے والے منظر سے بچاؤ کے بارے میں دس حفاظتی اقدام لکھیں۔ (10 نمبر)

سوال نمبر 27: دوست کو اپنی سالگرہ پر آنے کی دعوت دینے کے لیے خط لکھیں۔ (10 نمبر)

سوال نمبر 28: نظم کے اشعار کو نثر میں تبدیل کریں۔ (10 نمبر)

Result.pk

پرچم و وطن کا ہم کو ہے جان سے بھی پیارا
آنکھوں کا ہے اجالا یہ چاند یہ ستارا
جلوے ہمارے دل میں اس کی کرن کرن کے
ہم پھول اک چمن کے
آنے نہ دیں گے اپنے گلشن میں ہم خزاں کو
جنت بنائیں گے ہم اس پاک گلستاں کو
رنگ دیں گے اپنے خوں سے یہ راستے وطن کے
ہم پھول اک چمن کے

سوال نمبر 29: عبارت کو درست تلفظ اور روانی کے ساتھ پڑھیں۔ (10 نمبر)

سوال نمبر 30: نثر پارہ غور سے سنیں اور پوچھے جانے والے سوالات کے جوابات بتائیں۔ (10 نمبر)