

SCHOOL BASED ASSESSMENT 2024

MODEL PAPER

English Grade 4

[Part A: 50 Marks Part B: 50 Marks Total: 100 Marks] , Time = 3 hours



School Name: _____

Student Name : _____

Roll Number : _____

Section : _____

OBJECTIVE PART(MCQs)

Question No.1 : Find out the 'Plural' of 'Bulb'.

- (a) Bulbz (b) Bulbs (c) Bulbes (d) Bulbies

Question No.2 : Recognize the correct 'Spelling' of the given object.

- (a) Chucolate (b) Chacolate
(c) Chocolate (d) Chocalate



Question No.3 : Identify the correct 'Action Word'.

- (a) Pluck (b) Flower (c) Beautiful (d) Nature

Question No.4 : Choose the 'Adverb' of the word 'Beauty'.

- (a) Beautify (b) Beautician (c) Beautiful (d) Beautifully

Question No.5 : Choose a suitable 'Collective Noun' for the given blank.

'A _____ of students'

- (a) cluster (b) class (c) herd (d) gang

Question No.6 : Which of the following sentences shows an 'Expression of Sadness'?

- (a) Aha! I got scholarship. (b) Yeah! I will visit the zoo.
(c) Hurrah! It is a holiday. (d) Alas! His mother died.

Question No.7 : Select the word with the /id/ sound.

- (a) Depended (b) Appeared (c) Explained (d) Attached

Question No.8 : Identify the word which has a 'Diphthong Sound'.

- (a) Master (b) Madel (c) Matter (d) Mouth

Question No.9 : Which sentence shows 'Prohibition'?

- (a) May I borrow your English book please?
(b) He may watch the cricket match today.
(c) You are not allowed to take pictures here.
(d) You can stay here with your family.

Question No.10 : 'My new blanket is as _____ as velvet.'

- (a) cool (b) soft (c) hard (d) dry

Question No.11 : 'Huma is my sister. _____ is fond of cycling.'

- (a) It (b) He (c) She (d) This

Question No.12 : Choose the appropriate question for the given statement.

'There are three types of matter.'

- (a) How often types of matter are there?
(b) How many types of matter are there?
(c) How more types of matter are there?
(d) How much types of matter are there?

Question No.13 : 'It was the _____ day of my life.'

- (a) happy (b) happily (c) happier (d) happiest

Question No.14 : 'The _____ web is delicate.'

- (a) spider's (b) spide'rs (c) spid'ers (d) spi'ders

Question No.15 : Identify the sentence of 'Simple Future Tense'.

- (a) She can become a pilot. (b) She will become a pilot.
(c) She might become a pilot. (d) She may become a pilot.

Question No.16 : Identify the correct division of the given 'Compound Word'.

- (a) Ha+ndsome (b) Han+dsome (c) Hand+some (d) Hands+ome

Question No.17 : 'Fahim _____ not catch the bus yesterday.'

- (a) have (b) did (c) does (d) has

Question No.18 : Identify the sentence that gives a 'Command'.

- (a) Press my clothes. (b) Please help them.
(c) Where were they? (d) Always be honest.

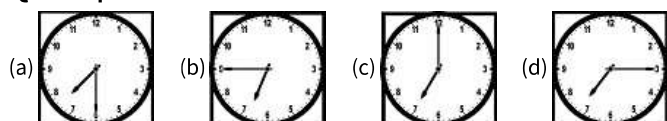
Question No.19 : Identify the 'Adjective of Origin'.

- (a) Sindhi (b) Whole (c) Some (d) Black

Question No.20 : Choose the sentence of 'Past Continuous Tense'.

- (a) He is rescuing a bird. (b) He has rescued a bird.
(c) He was rescuing a bird. (d) He will be rescuing a bird.

Question No.21 : Which of the following pictures shows the time 'Quarter past Seven'?



Paragraph Instruction

***Read the paragraph carefully and answer the following questions given below.**

Many people travel on the road daily. Some people go by car or motorcycle, and some choose to walk. Every day, people are killed or get injured in traffic accidents. It happens due to the mistakes of drivers or walking people. We all must follow the road signs to be safe on the roads. It will help reduce road accidents and deaths. We should always walk on the footpath. We must always walk on the left side of the streets. We should use zebra crossings to cross the roads.



Question No. 22 : What must be followed to reduce accident?

- (a) Left side (b) Footpath (c) Road signs (d) Motorcycle

Question No.24 : How should we cross the road if we are walking?

- (a) Use zebra crossings (b) Follow road signs
(c) Follow drivers (d) Walk on right

Question No.23 : Choose the suitable title for the paragraph.

- (a) Drivers (b) Accidents (c) Road Signs (d) Road Safety

Question No.25 : What should we do when we walk in the street?

- (a) Walk on the road side (b) Walk on the right side
(c) Walk on the left side (d) Walk on the footpath

SUBJECTIVE PART(CRQs)

Question No.26 : Read the story carefully and write a suitable title for the story. Also, write the character and plot of the story. Use correct grammar, punctuation and spelling. Marks (08)

Once, a farmer was coming home. It was cold. The farmer saw a large snake frozen with cold. He took him home. He placed him near the fire. After a few minutes, the snake began to move. Snake attacked his family. So, the farmer killed the snake. Moral: Nature cannot be changed.

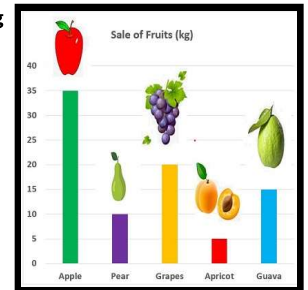
Question No.27 : Make a list of ten items you need to make a card. Marks (10)

Question No.28 : Look at the pictures and write down five sentences with 'Sequence of Morning Routine' using the word bank given below. Use correct grammar, punctuation and spelling. Marks (10) Word bank: Wake up, Brush, Prayer, Breakfast, Go



Question No.29 : This is a graph of the sale of fruits in a shop. Read the information given in the graph and answer the following questions: The answers must be in the form of sentences. Use correct grammar, punctuation, and spelling. Marks (10)

1. Which is the most selling fruit? Marks (02)
2. Which is the least selling fruit? Marks (02)
3. How many kgs of grapes are sold? Marks (02)
4. How many kgs of guava are sold? Marks (02)
5. How many kgs of pear and apricot were sold? Marks (02)



Question No.30 : Reading Question: Marks (04) - Instructions for the Students: 1.Your teacher will show you some words. 2.Pronounce them clearly. 3.Focus on the parts (syllables) of each word.

Question No.31 : Listening & Speaking Question: Marks (08) - Instructions for the Students: 1.Your teacher will show you some 'Consonant Clusters'. 2.He/ She will make at least one word from each 'Consonant Cluster'. 3.Listen to the sounds spoken by your teacher. 4.Now, make two words with from each 'Consonant Cluster' asked by your teacher.

SCHOOL BASED ASSESSMENT 2024

MODEL PAPER

Islamiat Grade 4

[Part A: 50 Marks Part B: 50 Marks Total: 100 Marks] , Time = 3 hours



School Name: _____

Student Name : _____

Roll Number : _____

Section : _____

حصہ اول: معروضی سوالات

- سوال نمبر 1: حدیث مبارک کے مطابق لکھو شر سے مراد ہے:
- (a) حور (b) موتی (c) نمبر (d) خوشبو
- سوال نمبر 2: حدیث مبارک کے مطابق اللہ تعالیٰ کی رحمت حاصل کرنے کے لیے ہمیں چاہیے:
- (a) لوگوں پر رحم (b) کفایت شعاری سے (c) لوگوں سے رابطہ رکھیں (d) سادگی اختیار کریں
- سوال نمبر 3: قیامت کے دن صُور پھونکنے کی ذمہ داری ہے:
- (a) حضرت میکائیل (b) حضرت اسرافیل (c) حضرت جبرائیل (d) حضرت عزرائیل
- سوال نمبر 4: اللہ تعالیٰ کے فرمان کے مطابق قرآن مجید نصیحت ہے:
- (a) متکبرین کے لیے (b) نادانوں کے لیے (c) عقل مندوں کے لیے (d) نافرمانوں کے لیے
- سوال نمبر 5: روزہ ہمیں سکھاتا ہے:
- (a) تقویٰ (b) بھائی چارہ (c) سچ بولنا (d) مدد کرنا
- سوال نمبر 6: حقوق اللہ میں انسانوں پر عائد ہونے والا سب سے پہلا حق ہے:
- (a) ذکر کرنا (b) ایمان لانا (c) شکر کرنا (d) دعا کرنا
- سوال نمبر 7: قیامت تک ہدایت کا ذریعہ ہے:
- (a) زبور (b) تورات (c) انجیل (d) قرآن مجید
- سوال نمبر 8: نزول وحی کے آغاز کا مہینہ ہے:
- (a) محرم (b) ربیع الاول (c) رمضان المبارک (d) ذوالحجہ
- سوال نمبر 9: دعوت و تبلیغ کا فریضہ ادا کرتے ہوئے ہمیں تیار رہنا چاہیے:
- (a) احتساب کے لیے (b) اخراجات کے لیے (c) تکلیف برداشت کرنے کے لیے (d) جنگ کے لیے
- سوال نمبر 10: مسلمانوں کی ہجرت حبشہ پر نجاشی بادشاہ نے کردار ادا کیا تھا:
- (a) ظالمانہ (b) منافقانہ (c) عادلانہ (d) متکبرانہ
- سوال نمبر 11: مقاطعہ قریش کے معاہدے کی تحریر کو کیا ہوا؟
- (a) آگ نے جلادیا (b) بارش نے مٹادیا (c) دیبک نے چاٹ لیا (d) طوفان نے اڑادیا
- سوال نمبر 12: عام الحزن کا تعلق آپ خاتم النبیین صَلَّی اللہُ عَلَیْہِ وَاٰلِہٖ وَاٰحْضَیْہِ وَسَلَّمَ کی دو اہم شخصیات سے ہے:
- (a) حضرت ابوطالب و حضرت خدیجہ رضی اللہ عنہما (b) حضرت ابوطالب و حضرت عائشہ رضی اللہ عنہما (c) حضرت ابوطالب و حضرت سودہ رضی اللہ عنہما (d) حضرت ابوطالب و حضرت میمونہ رضی اللہ عنہما
- سوال نمبر 13: رسول اللہ خاتم النبیین صَلَّی اللہُ عَلَیْہِ وَاٰلِہٖ وَاٰحْضَیْہِ وَسَلَّمَ نے ایمان کا حصہ قرار دیا ہے:
- (a) رواداری کو (b) سادگی کو (c) کفایت شعاری کو (d) صبر کو
- سوال نمبر 14: مجلس میں ہماری گفتگو کا انداز ہونا چاہیے:
- (a) زوردار (b) نرم (c) سخت (d) بلند
- سوال نمبر 15: حدیث مبارک "الصَّلَاةُ عَلٰی وَجْہِہَا" میں اہمیت بیان کی گئی ہے:
- (a) کسب حلال کی (b) پابندی وقت کی (c) پاکیزگی کی (d) صبر و تحمل کی
- سوال نمبر 16: ہر کام نیک نیتی کے ساتھ کرنا کہلاتا ہے:
- (a) ملنساری (b) کفایت شعاری (c) رواداری (d) دیانت داری
- سوال نمبر 17: آپ خاتم النبیین صَلَّی اللہُ عَلَیْہِ وَاٰلِہٖ وَاٰحْضَیْہِ وَسَلَّمَ کے لقب "امین" کی وجہ تھی:
- (a) وفاداری (b) دیانت داری (c) رواداری (d) خودداری
- سوال نمبر 18: حدیث مبارک "الْخَلْقُ عِبَالُ الْکَلْبِ" کے مطابق ساری مخلوق ہے:
- (a) اللہ تعالیٰ کا گھر (b) اللہ تعالیٰ کا فیصلہ (c) اللہ تعالیٰ کا کتبہ (d) اللہ تعالیٰ کی رحمت
- سوال نمبر 19: دوسرے ملک میں جا کر اپنے وطن کی محبت کا بہترین ثبوت یہ ہے کہ ہم کریں:
- (a) اپنے خاندان کی (b) اپنے ملک کی (c) اپنی تجارت کی فکر (d) اپنی شہرت کا حصول
- سوال نمبر 20: حضرت اسماعیل علیہ السلام کی بجائے قربان کیا گیا:
- (a) بکرا (b) اونٹ (c) بیل (d) مینڈھا
- سوال نمبر 21: قرآن مجید کے مطابق فرعون پیدا ہونے والے لڑکوں کو قتل کروادیتا تھا، اس کی وجہ تھی:
- (a) نجومی کی پیش گوئی (b) لڑکوں سے نفرت (c) خاندانی دشمنی (d) وزیروں کا مشورہ
- سوال نمبر 22: حضرت عمر رضی اللہ تعالیٰ عنہ کے فرمان، "اگر دریائے فرات کے کنارے ایک بکری بھی بھوک سے مر جائے تو قیامت کے دن مجھ سے پوچھا جائے گا" میں حکمرانوں کے لیے سبق ہے:
- (a) شجاعت کا (b) احسان کا (c) احساس ذمہ داری کا (d) نظم و ضبط کا
- سوال نمبر 23: حضرت عثمان غنی رضی اللہ تعالیٰ عنہ کا مدینہ میں یہودی سے کتواں خرید کر مسلمانوں کے لئے وقف کرنا مثال ہے:
- (a) عدل کی (b) اخوت کی (c) مساوات کی (d) سخاوت کی
- سوال نمبر 24: اسلامی تعلیمات کے مطابق صحت مند رہنے کے لیے ہمیں ضرورت ہے:
- (a) انصاف کی (b) سیاحت کی (c) سخاوت کی (d) صفائی کی
- سوال نمبر 25: "وَاسْقٰیْنٰکُمْ مَّاءً حَرًّا" میں ذکر ہوا ہے:
- (a) پانی کا (b) شہد کا (c) دودھ کا (d) رس کا

- (i) چار مشہور فرشتوں کے نام لکھیں۔ (4)
- (ii) فرشتوں کے بارے قرآن مجید کی ایک آیت مبارکہ کا ترجمہ لکھیں۔ (3)
- (iii) منکر تکبیر کی ذمہ داری کے تناظر میں ہمارا رویہ کیا ہونا چاہیے؟ (3)

- (i) طائف کا محل وقوع بیان کریں؟ (2)
- (ii) نبی اکرم ﷺ نے سفر طائف میں صبر کا اظہار کیسے کیا؟ (4)
- (iii) آپ ﷺ نے سفر طائف کے تناظر میں مشکلات کے سامنے ہمیں کیا لائحہ عمل اختیار کرنا چاہئے؟ (4)

- (i) وقت کی پابندی سے کیا مراد ہے؟ (2)
- (ii) نماز کے لئے وقت کی پابندی لازمی شرط ہے۔ قرآن مجید کی آیت مبارکہ سے ثابت کریں۔ (3)
- (iii) کائنات کی ہر شے کو وقت کی پابندی کرتے ہوئے دیکھ کر ہمیں کیا رویہ اختیار کرنا چاہیے؟ (5)

- (i) حب الوطنی سے کیا مراد ہے؟ (3)
- (ii) حضور ﷺ نے وطن سے اظہار محبت کیسے کیا؟ (3)
- (iii) ہم وطن سے محبت کا پورا پورا حق کیسے ادا کر سکتے ہیں؟ (4)

- (i) حضرت موسیٰ علیہ السلام کے دو معجزات لکھیں۔ (2)
- (ii) فرعون دریا میں کیوں غرق کیا گیا؟ (4)

- (iii) مشکلات کے تناظر میں حضرت موسیٰ علیہ السلام کی زندگی موجودہ دور میں ہمارے لیے کیا سبق فراہم کرتی ہے؟ (4)

SCHOOL BASED ASSESSMENT 2024

MODEL PAPER

Mathematics Grade 4

[Part A: 50 Marks Part B: 50 Marks Total: 100 Marks] , Time = 3 hours



School Name: _____

Student Name : _____

Roll Number : _____

Section : _____

OBJECTIVE PART(MCQs)

Question No.1 : Forty five thousand six hundred seventy two in numeral is:

- (a) 45627 (b) 45672
(c) 45726 (d) 45762

Question No.3 : The price of one book is Rs 31.The price of 127such books will be:

- (a) 3739 (b) 3799
(c) 3937 (d) 3973

Question No.5 : The next term of the pattern 65, 61, 57, ... is:

- (a) 53 (b) 54
(c) 55 (d) 56

Question No.7 : Identify the composite number:

- (a) 11 (b) 19
(c) 29 (d) 35

Question No.9 : Prime factorization of 45 is:

- (a) $2 \times 2 \times 5$ (b) $2 \times 3 \times 5$
(c) $3 \times 3 \times 5$ (d) $3 \times 5 \times 5$

Question No.11 : The fraction $\frac{34}{19}$ is:

- (a) Proper fraction (b) Unit fraction
(c) Mixed fraction (d) Improper fraction

Question No.13 : 68.5 in fraction is:

- (a) $\frac{685}{10}$ (b) $\frac{685}{100}$
(c) $\frac{685}{1000}$ (d) $\frac{685}{10000}$

Question No.15 : The solution of $6.75 + 2.60$ is:

- (a) 3.95 (b) 4.15
(c) 5.93 (d) 9.35

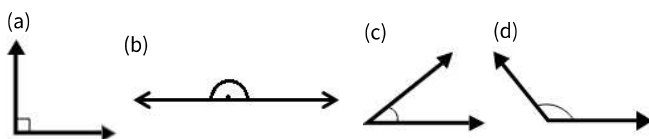
Question No.17 : Grams in 1.8 Kilograms are:

- (a) 0.018 g (b) 0.18 g
(c) 180 g (d) 1800 g

Question No.19 : Days in 12 weeks are:

- (a) 72 days (b) 84 days
(c) 96 days (d) 108 days

Question No.21 : Identify the acute angle:



Question No.2 : The solution of $72876 - 18597$ is:

- (a) 54279 (b) 66321
(c) 79254 (d) 91473

Question No.4 : The solution of $1323 \div 27$ is:

- (a) 47 (b) 48
(c) 49 (d) 50

Question No.6 : The number divisible by 5 is:

- (a) 155 (b) 158
(c) 162 (d) 166

Question No.8 : The factors of 34 are:

- (a) 1, 3, 17, 34 (b) 1, 2, 17, 34
(c) 1, 17, 23, 34 (d) 2, 17, 28, 34

Question No.10 : The fractions $\frac{2}{3}$, $\frac{3}{5}$, $\frac{4}{7}$ are :

- (a) Like fractions (b) Unlike fractions
(c) Improper fractions (d) Mixed fractions

Question No.12 : The solution of $\frac{34}{39} - \frac{24}{39}$ is:

- (a) $\frac{10}{39}$ (b) $\frac{58}{39}$
(c) $\frac{58}{78}$ (d) $\frac{10}{78}$

Question No.14 : $\frac{723}{100}$ in decimals is:

- (a) 72.3 (b) 7.23
(c) 0.723 (d) 0.0723

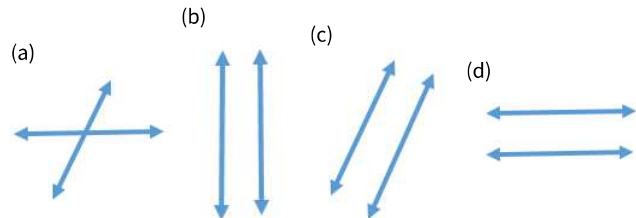
Question No.16 : Centimetres in 3.6 metres are:

- (a) 36 cm (b) 360 cm
(c) 3600 cm (d) 36000 cm

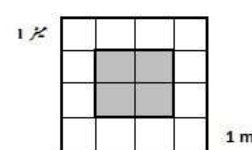
Question No.18 : The solution of $58 \ell + 34 \ell$ is:

- (a) 29 ℓ (b) 72 ℓ
(c) 82 ℓ (d) 92 ℓ

Question No.20 : Identify non-parallel lines:



Question No.22 : The area of shaded part in the given figure is:




- (a) $2 m^2$ (b) $4 m^2$
(c) $6 m^2$ (d) $8 m^2$

Question No.23 : The lines of symmetry in the given figure are:



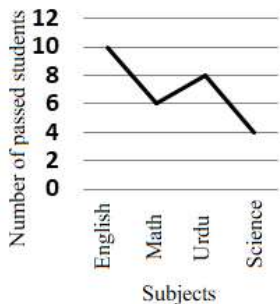
- (a) 2
- (b) 3
- (c) 4
- (d) 5

Question No.24 : In the given bar graph number of shoes selling shops are:



- (a) 10
- (b) 20
- (c) 30
- (d) 40

Question No.25 : In the given line graph number of passed students in science are:



- (a) 2
- (b) 4
- (c) 6
- (d) 8

a) Solve. $64597 + 83678$ (5 Marks)

b) Solve. 3859×64 (5 marks)

Question No: 27

a) Separate the composite numbers from 31, 33, 35, 37, 39, 43, 45, 47, 51, 53. (5 Marks)

b) Babar divides $6\frac{6}{7}$ m ribbon in 6 peoples . Find the length of ribbon each person get. (5 Marks)

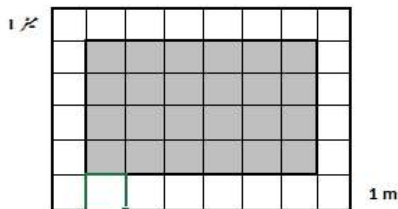
Question No: 28

a) 82.5 kg of rice is packed in some packets. If each packet contains 5.5 kg of rice, then find the number of packets. (5 marks)

b) Convert 7 years 9 months into months. (5 marks)

Question No: 29

a) Find the perimeter of the shaded region of the given figure. (5 marks)



b) Construct an angle of 180° . (5 marks)

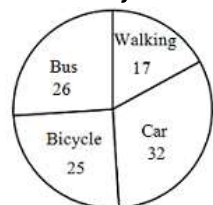
Question No: 30

a) Write the name of given figure and its number of surfaces, edges and vertices.(5 marks)



b) The given pie chart shows the types of transportation used by students to come to school. Read the graph and answer the following questions. (5 Marks)

1. How many students come to school by bicycle?
2. How many students come to school by car and bus?
3. How many more students come by bus than by walk?



SUBJECTIVE PART(CRQs)

Result.pk

SCHOOL BASED ASSESSMENT 2024

MODEL PAPER Science Grade 4



[Paper A: 50 Marks, Paper B: 50 Marks, Total: 100 Marks] , Time = 3 hours

School Name: _____

Student Name: _____

Roll Number: _____

Section: _____

OBJECTIVE PART(MCQs)

Question No.1 : Which organ in our body keeps the blood flowing?

- (a) Heart (b) Lungs (c) Liver (d) Stomach

Question No.3 : Which of the following is the non-flowering plant?

- (a) (b) (c) (d)



Question No.5 : In a grassland, all the herbivores compete for:

- (a) air (b) meat (c) water (d) grass

Question No.7 : Most of the diseases are caused by:

- (a) drinking polluted water (b) taking balanced diet
(c) brushing teeth (d) getting enough sleep

Question No.9 : The water in the blood helps to provide food and _____ to the human body.

- (a) oxygen (b) carbon dioxide
(c) nitrogen (d) hydrogen

Question No.11 : Which material has the ability to sink in water?

- (a) Wood (b) Plastic bottle (c) Steel spoon (d) Rubber ball

Question No.13 : When the light of the torch falls on the ball, where does the shadow of the ball be formed?

- (a) In front of the ball (b) Behind the ball
(c) Over the ball (d) Below the ball

Question No.15 : We can save natural energy sources by:

- (a) reducing their prices
(b) increasing their production
(c) using them more efficiently and carefully
(d) exploring new extraction techniques

Question No.17 : The falling of fountain water on the ground is due to the:

- (a) frictional force (b) gravitational force
(c) magnetic force (d) electrostatic force

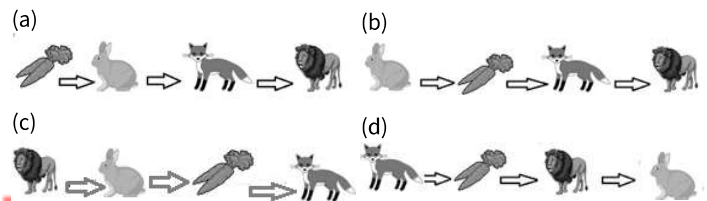
Question No.2 : Identify the animal that does NOT have a backbone.

- (a) Frog (b) Fish (c) Butterfly (d) Lizard

Question No.4 : What is the primary source of energy for photosynthesis in plants?

- (a) Oxygen (b) Water
(c) Sunlight (d) Carbon dioxide

Question No.6 : A simple food chain is given below. Identify the correct link of organisms on the basis of food.



Question No.8 : Which of the following diseases can be transmitted from one person to another person?

- (a) Cancer (b) Diabetes (c) Hepatitis (d) Heart attack

Question No.10 : The fragrance of a perfume spreads because it exists in _____ state of matter.

- (a) solid (b) liquid (c) gaseous (d) plasma

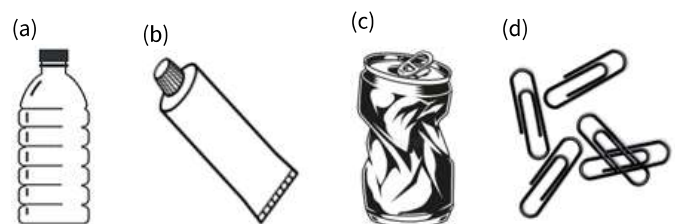
Question No.12 : What does a vibrating object produce?

- (a) Light (b) Friction (c) Sound (d) Electricity

Question No.14 : Why hot tea becomes cold after sometime?

- (a) Heat moves from tea to atmosphere
(b) Heat moves from atmosphere to tea
(c) Bonds between tea particles are formed
(d) Bonds between tea particles break

Question No.16 : Which of the following objects shows the application of force?



Question No.18 : The correct percentage of water and land on Earth's surface is respectively:

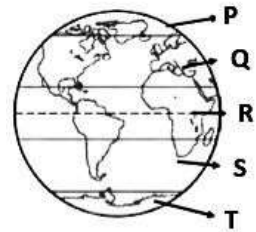
- (a) 79% and 21% (b) 71% and 29% (c) 65% and 35% (d) 62% and 38%

Question No.19 : Which of the following is a renewable source of energy?

- (a) Coal (b) Petrol (c) Gas (d) Sun

Question No.20 : In the given image, different zones of the Earth are labelled as P, Q, R, S, and T. Identify the correct pair of coldest zones among them.

- (a) P, R
(b) Q, S
(c) P, T
(d) Q, T



Question No.21 : The main source of light and heat on our Earth is:

- (a) Moon (b) Jupiter (c) Venus (d) Sun

Question No.22 : During axial rotation of the Earth, the shadow of any object is smallest in size in the/ at:

- (a) morning (b) noon (c) evening (d) night

Question No.23 : The shape of a football is like a:

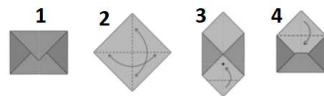
- (a) cylinder (b) cube (c) sphere (d) cone

Question No.24 : Which application of a smartphone reminds you of important tasks?

- (a) Camera (b) Alarm clock (c) Calculator (d) Navigator

Question No.25 : Which of the following is the correct order of envelop making process?

- (a) 1,2,3,4
(b) 4,2,3,1
(c) 2,4,1,3
(d) 2,3,4,1



SUBJECTIVE PART(CRQs)

Question No: 26

- a) Write the names of two groups of plants. (2 Marks)
b) Write any two differences between vertebrates and invertebrates. (2+2=4 Marks)
c) Write one function of each of the following organs. (4 Marks)
1. Heart, 2. Lungs, 3. Stomach, 4. Muscles

Question No: 27

- a) What is meant by fever? (2 Marks)
b) What is the purpose of injecting weak or killed germs in vaccination? (2 Marks)
c) Differentiate between contagious and non-contagious diseases. Give one example of each. (3+3=6 Marks)

Question No: 28

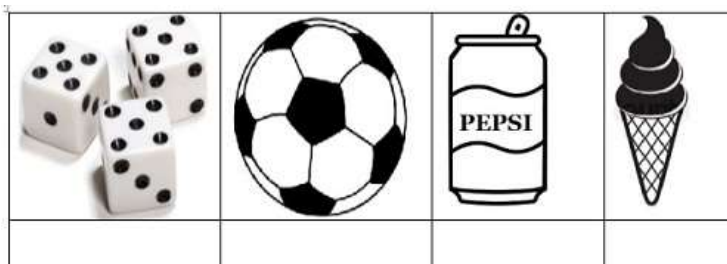
- a) Define energy. (2 Marks)
b) Write the names of any three sources of energy. (3 Marks)
c) Below given objects convert electrical energy into which form of energy? (5 Marks)
Speaker, Iron, Bulb, Radio, Lamp

Question No: 29

- a) Define fossils and give an example. (2+1=3 Marks)
b) Describe any three ways to conserve natural resources.(3 Marks)
c) Differentiate renewable and non-renewable resources and give one example of each. (2+2=4 Marks)

Question No: 30

- a) Write one use of a calculator and alarm clock. (2 Marks)
b) Identify cube, cylinder, sphere, and cone from the given images. (4 Marks)



- c) Write one use of each of the following items in the first aid box. (4 Marks)
Thermometer, bandage, tweezers, scissors

SCHOOL BASED ASSESSMENT 2024

MODEL PAPER

Social Studies Grade 4

[Part A: 50 Marks Part B: 50 Marks Total: 100 Marks] , Time = 3 hours



School Name: _____

Student Name : _____

Roll Number : _____

Section : _____

OBJECTIVE PART(MCQs)

Question No.1 : All human beings are decendants of:

- (a) Hazrat Adam (A.S) (b) Hazrat Nooh (A.S)
(c) Hazrat Esa (A.S) (d) Hazrat Idris (A.S)

Question No.3 : Clean and Green Pakistan is a campaign of:

- (a) plantation (b) cleanliness
(c) supply of water (d) provision of education

Question No.5 : The ancient civilizations of Gandhara and Indus valley were inhabited in:

- (a) Egypt (b) Pakistan
(c) India (d) Iran

Question No.7 : The constitutional head of the province is:

- (a) chief minister (b) prime minister
(c) chief justice (d) governor

Question No.9 : Chief minister is accountable to the:

- (a) provincial assembly (b) national assembly
(c) senate (d) speaker

Question No.11 : Muhtarma Fatima Jinnah was born on:

- (a) 31July1894 (b) 31July1893
(c) 31July1895 (d) 31 July1896

Question No.13 : Sindh became famous due to the spread of Islam as the name of:

- (a) Babul Islam (b) Dar ul Fatah
(c) Babul Emaan (d) Dar ul Aman

Question No.15 : Essential elements for obtaining high yield of crops are:

- (a) suitable weather and proper rains (b) severe weather and heavy rains
(c) fertile land and severe weather (d) river water and barren land

Question No.17 : The element that used to express the different objects and places on the earth is the:

- (a) title (b) legend
(c) orientation (d) borders

Question No.19 : The main cause of nomadism in desert areas of Pakistan is:

- (a) non-availability of water (b) extreme weather
(c) barren lands (d) lack of facilities

Question No.21 : Human activities that effects cause to increase the damage during natural disasters are:

- (a) agriculture and mining (b) dams construction and industry
(c) plastic products and tranportarion (d) deforestation and construction of high-rise buildings

Question No.2 : Obeying the laws is included in the:

- (a) rights (b) duties
(c) morality (d) etiquettes

Question No.4 : Eid ul fitr is called:

- (a) Eid Qurban (b) New Eid
(c) Methi Eid (d) Spring festival

Question No.6 : By paying mutual respect to their culture, the different cultural groups create an atmosphere of:

- (a) peace and brotherhood (b) unrest
(c) fighting (d) disturbance

Question No.8 : The essential conditions for the election of the chief minister are to be the:

- (a) citizen of pakistan and muslim (b) member of provincial assembly and muslim
(c) member of national assembly and muslim (d) member of senate and muslim

Question No.10 : In Pakistan, each law is formed according to the Holy Quran and Sunnah because the sovereignty over the universe is of:

- (a) Allah (b) Prophets
(c) Angels (d) Saints

Question No.12 : The most developed and organized cities of Indus Valley civilization were:

- (a) Taxila and Rawalpindi (b) Multan and Khanaawal
(c) Kolkata and Bombay (d) Harrappa and Mohenjo Daro

Question No.14 : The climate of coastal region through out the year remains:

- (a) hot (b) cold
(c) moderate (d) humid

Question No.16 : Lack of resources in the world is due to:

- (a) increase in population (b) decrease in population
(c) persistence of population (d) prevention of population

Question No.18 : The ocean between the continents of Africa and South America is:

- (a) Indian Ocean (b) Atlantic Ocean
(c) Pacific Ocean (d) Arctic Ocean

Question No.20 : On the basis of information and analysis obtained from the census, implementation can be ensured the:

- (a) development plans (b) job training programs
(c) cultural diversity programs (d) crime prevention strategies

Question No.22 : The levels of business are usually:

- (a) two (b) three
(c) four (d) five

Question No.23 : The main features of goods are buying, selling,:

- (a) seeing and touching (b) seeing and listening
(c) touching and tasting (d) smelling and tasting

Question No.24 : The person who buy the goods by paying the price is known as:

- (a) customer or consumer (b) customer or seller
(c) producer or customer (d) seller or consumer

Question No.25 : The major reason for rising the prices of goods as compared the demand is to:

- (a) increase the supply of goods (b) decrease the supply of goods
(c) increase the demand for goods (d) decrease the demand for goods

SUBJECTIVE PART(CRQs)

Question No: 26

a) Describe the importance of tolerance for the existence of a healthy society. (Marks 05)

b) Describe the role of behaviors to establish a peaceful and trustable environment. (Marks 05)

Question No: 27

a) Compare the functions of the federal legislature and federal executive. (Marks 05)

b) Explain the role of President of Pakistan in legislation. (Marks 05)

Question No: 28

a) Write down briefly about Allama Muhammad Iqbal (R.A). (Marks 05)

b) Minar e Pakistan reminds us of a great resolution, Explain.(Marks 05)

Question No: 29

a) Describe the location of the continent of Africa. (Marks 05)

b) Write the names of the oceans that meet the continent of North America and South America. (Marks 05)

Question No: 30

a) Explain the types of entrepreneurship. (Marks 05)

b) Define the bank and write its services.(Marks 05)

Result.pk

SCHOOL BASED ASSESSMENT 2024

MODEL PAPER Urdu Grade 4



[Part A: 50 Marks Part B: 50 Marks Total: 100 Marks] , Time = 3 hours

School Name: _____

Student Name : _____

Roll Number : _____

Section : _____

حصہ اول: معروضی سوالات

- سوال نمبر 1: تانیث (جان دار) کے مطابق درست فعل والا جملہ ہے:
- (a) ارباز پودوں کو پانی دیتا ہے۔ (b) سلیمی ہاکی کھیلتی ہے۔
(c) پنپل ٹوٹ گئی ہے۔ (d) آم پھلوں کا سردار ہے۔
- سوال نمبر 2: محاورے کے درست استعمال والا جملہ ہے:
- (a) بچے کی ناکامی پر ماں کا دماغ بھج گیا۔ (b) بچے کی ناکامی پر ماں کا دل بھج گیا۔
(c) بچے کی ناکامی پر ماں کا جذبہ بھج گیا۔ (d) بچے کی ناکامی پر ماں کا شوق بھج گیا۔
- سوال نمبر 3: ”وہ وقت پر سکول جاتی ہے۔“ سے فعل ماضی کا جملہ ہے:
- (a) وہ وقت پر سکول جاتی تھی۔ (b) وہ وقت پر سکول جائے گی۔
(c) وہ وقت پر سکول جا رہی ہے۔ (d) وہ وقت پر سکول چلی جائے۔
- سوال نمبر 4: متضاد الفاظ کے استعمال والا جملہ ہے:
- (a) علی صبح وشام ورزش کرتا ہے۔ (b) علی صبح سویرے ورزش کرتا ہے۔
(c) علی صبح اور دوپہر میں ورزش کرتا ہے۔ (d) علی صبح اور دن کو ورزش کرتا ہے۔
- سوال نمبر 5: ہم اپنے وطن کے شیدائیں // بلبل ہیں چمن کے شیدائیں
یہ جھنڈا سبز ہمارا ہے // من بھاتا چاند ستارا ہے
ان اشعار سے تاثر ملتا ہے:
- (a) حیرت کا (b) پریشانی کا (c) خوف کا (d) حب الوطنی کا
- سوال نمبر 6: لاحقہ ”مند“ سے بننے والے الفاظ کی درست فہرست ہے:
- (a) عقل مند، قسمت مند، سود مند (b) ضرورت مند، صحت مند، عقل مند
(c) دولت مند، قیمت مند، صحت مند (d) حکمت مند، قیمت مند، صحت مند
- سوال نمبر 7: اسم خاص کی درست فہرست ہے:
- (a) مسجد، احمد، جناح پارک (b) بادشاہی مسجد، احمد، پارک
(c) بادشاہی مسجد، احمد، جناح پارک (d) بادشاہی مسجد، لڑکا، جناح پارک
- سوال نمبر 8: اسم ضمیر کی فاعلی حالت کا درست جملہ ہے:
- (a) علی باہر چلا گیا۔ (b) احمد نے کھانا کھایا۔
(c) وہ گھر چلا گیا۔ (d) آمنہ سکول چلی گئی۔
- سوال نمبر 9: ”عالم اور جاہل۔۔۔۔۔ بڑا فرق علم کا ہونا ہے۔“ خالی جگہ میں لگنے والا درست حرف جار ہے:
- (a) کا (b) تک (c) سے (d) میں
- سوال نمبر 10: ”عالم اور جاہل۔۔۔۔۔ بڑا فرق علم کا ہونا ہے۔“ خالی جگہ میں لگنے والا درست حرف جار ہے:
- (a) کا (b) تک (c) سے (d) میں
- سوال نمبر 11: علامت فاعل ”نے“ کے درست استعمال والا جملہ ہے:
- (a) پڑھا سبق اسلم نے۔ (b) سبق اسلم نے پڑھا۔
(c) پڑھا اسلم نے سبق۔ (d) اسلم نے سبق پڑھا۔
- سوال نمبر 12: فعل امر کے درست استعمال والا جملہ ہے:
- (a) پانی پیو۔ (b) مت کھیلو۔ (c) مت دوڑو۔ (d) نہ بولو۔
- سوال نمبر 13: لفظ ”بل“ کا مطلب ”مروڑنا“ جب کہ ”بل“ کا مطلب ہے:
- (a) چکر (b) سوراخ (c) گھیرا (d) دائرہ
- سوال نمبر 14: واوین کے درست استعمال والا جملہ ہے:
- (a) میلے میں خوب ”چہل پہل“ تھی۔ (b) قاضی نے کہا: ”مجرم کو سزا دو۔“
(c) ابو نے کہا ”لا ارجح بری بلا ہے،“ (d) ”اُس نے کہا، ہم سکول جائیں گے۔“
- سوال نمبر 15: تذکیر (بے جان) کے مطابق درست فعل والا جملہ ہے:
- (a) کرسی کی ٹانگ ٹوٹی ہوئی ہے۔ (b) مٹین کی رفتار بہت آہستہ ہے۔
(c) جہاز بہت اونچا اڑتا ہے۔ (d) گاڑی سڑک پر دوڑتی ہے۔
- سوال نمبر 16: سکول کے راستے پر بچے کو کاغذ پھینکتا دیکھ کر آپ کا رد عمل ہونا چاہیے:
- (a) خاموش رہیں (b) خوش ہوں گے۔ (c) ڈانٹیں گے۔ (d) سمجھائیں گے۔
- سوال نمبر 17: ”آپ کی والدہ بازار گئی ہیں۔ آپ گھر میں اپنے چھوٹے بہن بھائیوں کے ساتھ اکیلے ہیں۔“
ایسے میں آپ:
- (a) مل کر کھلیں گے۔ (b) ان کو ماریں گے۔
(c) ان کو ڈرائیں گے۔ (d) مل کر اُدھم چائیں گے۔
- سوال نمبر 18: ”اکرم سکول سے سائیکل پر گھر جا رہا تھا کہ اچانک ناز پھینکنے کے باعث وہ گر کر زخمی ہو گیا۔“
اگر آپ وہاں موجود ہوں تو ایسی صورت حال میں آپ کا رد عمل ہونا چاہیے:
- (a) فوری طور پر بھاگ جائیں گے۔ (b) امدادی ٹیم کو فون کریں گے۔
(c) حادثے کو نظر انداز کر دیں گے۔ (d) کھڑے ہو کر تماشا دیکھیں گے۔
- سوال نمبر 19: پشاور تا کراچی بس کی روانگی 22:00 بجے ہوگی، ہدایت کے مطابق گاڑی سفر کا آغاز کرتی ہے:
- (a) رات 8 بجے (b) رات 9 بجے (c) رات 10 بجے (d) رات 11 بجے
- سوال نمبر 20: سکول کے راستے پر بچے کو کاغذ پھینکتا دیکھ کر آپ کا رد عمل ہونا چاہیے:
- (a) خاموش رہیں (b) خوش ہوں گے۔ (c) ڈانٹیں گے۔ (d) سمجھائیں گے۔
- سوال نمبر 21: سکول کے راستے پر بچے کو کاغذ پھینکتا دیکھ کر آپ کا رد عمل ہونا چاہیے:
- (a) خاموش رہیں (b) خوش ہوں گے۔ (c) ڈانٹیں گے۔ (d) سمجھائیں گے۔
- سوال نمبر 22: سکول کے راستے پر بچے کو کاغذ پھینکتا دیکھ کر آپ کا رد عمل ہونا چاہیے:
- (a) خاموش رہیں (b) خوش ہوں گے۔ (c) ڈانٹیں گے۔ (d) سمجھائیں گے۔
- سوال نمبر 23: سکول کے راستے پر بچے کو کاغذ پھینکتا دیکھ کر آپ کا رد عمل ہونا چاہیے:
- (a) خاموش رہیں (b) خوش ہوں گے۔ (c) ڈانٹیں گے۔ (d) سمجھائیں گے۔
- سوال نمبر 24: سکول کے راستے پر بچے کو کاغذ پھینکتا دیکھ کر آپ کا رد عمل ہونا چاہیے:
- (a) خاموش رہیں (b) خوش ہوں گے۔ (c) ڈانٹیں گے۔ (d) سمجھائیں گے۔
- سوال نمبر 25: سکول کے راستے پر بچے کو کاغذ پھینکتا دیکھ کر آپ کا رد عمل ہونا چاہیے:
- (a) خاموش رہیں (b) خوش ہوں گے۔ (c) ڈانٹیں گے۔ (d) سمجھائیں گے۔

پیرا گراف ہدایات *

درج ذیل عبارت کو غور سے پڑھیں اور دیے گئے سوالات کے درست جوابات کی نشان دہی کریں۔

درختوں کے بہت سے فوائد ہیں۔ یہ ہمیں آکسیجن فراہم کرتے ہیں جو سانس لینے کے لیے بہت ضروری ہے۔ اس کے علاوہ کاربن ڈائی آکسائیڈ کو جذب کر کے ماحول کو خوش گوار بناتے ہیں۔ یہ سیلاب کے خطرے کو کم کرنے اور زمین کو بچھڑنے سے روکتے ہیں۔ یہ زمین کے کٹاؤ کو کم کرتے ہیں اور زمین کی زرخیزی میں اضافہ کرتے ہیں۔ درخت زمین کے حسن میں بھی اضافہ کرتے ہیں۔ درخت پرندوں کا مسکن ہوتے ہیں۔ درختوں کی لکڑی سے فرنیچر بھی تیار کیا جاتا ہے۔ اس کے علاوہ درختوں کا استعمال بطور ایندھن بھی کیا جاتا ہے۔ درخت جانوروں کے چارہ کے طور پر استعمال ہوتے ہیں۔ ہمیں درختوں کی دیکھ بھال کرنی چاہیے اور شجر کاری کا حصہ بننا چاہیے۔

سوال نمبر 21: انسانوں کے سانس لینے کے لیے ضروری گیس ہے:

(a) نائٹروجن (b) آکسیجن (c) کاربن ڈائی آکسائیڈ (d) ہائیڈروجن

سوال نمبر 22: درخت سبب بنتے ہیں:

(a) سیلاب بڑھنے کا (b) زلزلے آنے کا (c) زمینی کٹاؤ کم کرنے کا (d) طوفان کا

سوال نمبر 23: درختوں کے علاوہ قدرتی ایندھن کا بڑا ذریعہ ہے:

(a) بجلی (b) پانی (c) ہوا (d) گیس

سوال نمبر 25: پیراگراف کا مناسب عنوان ہو گا:

(a) آب پاشی کے ذرائع (b) سچلوں کی اہمیت (c) سیلاب کی تباہ کاریاں (d) درختوں کے فوائد

حصہ دوم: انشائیہ سوالات

سوال نمبر 26: اپنی صحت یابی کے بارے میں آگاہ کرنے کے لیے والدہ کے نام خط لکھیں۔ (10 نمبر)

سوال نمبر 27: شادی میں شمولیت کے لیے ہیڈ ماسٹر / ہیڈ مسٹریس کے نام چھٹی کی درخواست تحریر کریں۔ (10 نمبر)

سوال نمبر 28: دیے گئے اشعار کو نثر میں تبدیل کر کے لکھیں۔ (10 نمبر)

بیڑوں پہ سب پرندے
پیٹھے ہوئے ہیں چھپ کے
جو دھوپ گرمیوں کی
ہے جسم کو جلاتی
یہ کام بھی ہے آتی
غلہ بھی ہے پکاتی
دیتی ہے گرچہ رحمت
پر ہے خدا کی رحمت

Result.pk

سوال نمبر 29: عبارت کو درست تلفظ اور روانی کے ساتھ پڑھیں۔ (10 نمبر)

سوال نمبر 30: نثر پارہ غور سے سنیں اور پوچھے جانے والے سوالات کے جوابات بتائیں۔ (10 نمبر)