

SCHOOL BASED ASSESSMENT 2024

MODEL PAPER English Grade 3



[Part A: 50 Marks Part B: 50 Marks Total: 100 Marks] , Time = 3 hours

School Name: _____

Student Name : _____

Roll Number : _____

Section : _____

OBJECTIVE PART(MCQs)

Question No.1 : Which one of the following words 'Rhymes' with the given picture?

- (a) Kill (b) Mall
(c) Dull (d) Well



Question No.3 : Identify a 'Noun' from the given words.

- (a) Read (b) Busy (c) Good (d) Book

Question No.5 : Select the 'Feminine Gender' of the word 'Bull'.

- (a) Hen (b) Duck (c) Mare (d) Cow

Question No.7 : Recognize the correct 'Syllable Division' of 'Apricot'.

- (a) Apr-ic-ot (b) Ap-ric-ot (c) Ap-ri-cot (d) A-pri-cot

Question No.9 : Choose the correct 'Punctuation Mark' for the following sentence.

'Do you like birds_____'

- (a) ? (b) . (c) - (d) !

Question No.11 : Choose the word starts with a 'Digraph'.

- (a) Mouse (b) Cloud (c) Broom (d) Whale

Question No.13 : 'This _____ not your shirt.'

- (a) have (b) is (c) am (d) are

Question No.15 : 'The match was cancelled _____ we came back.'

- (a) nor (b) due (c) but (d) and

Question No.17 : Identify the word with a 'Long Vowel' sound.

- (a) Heat (b) Death (c) Cell (d) Fell

Question No.19 : Identify the 'Expression' shown in the picture.

- (a) Joy (b) Happy
(c) Anger (d) Amazed



Question No.21 : What is the time in the given clock?

- (a) Half past four (b) Half past three
(c) Half past one (d) Half past two



Question No.2 : Identify the correct 'Alphabetical Order' of the following words.

- (a) Cable, Major, Super (b) Super, Major, Cable
(c) Major, Cable, Super (d) Super, Cable, Major

Question No.4 : Identify the 'Pronoun' for the underlined word. 'Apple is good for health.'


- (a) You (b) It (c) He (d) She

Question No.6 : Complete the word 'Bala__ce'.

- (a) r (b) t (c) n (d) k

Question No.8 : Select the correct 'Consonant Cluster' to complete the word '___apes'.

- (a) Gr (b) Sw
(c) Gl (d) Hw



Question No.10 : Identify the word which has a 'Soft Sound' of 'G'.

- (a) Gem (b) Great (c) Gum (d) Gift

Question No.12 : 'He is _____ obedient child.'

- (a) a (b) an (c) the (d) any

Question No.14 : 'They _____ salad before lunch daily.'

- (a) eat (b) eats (c) eaten (d) eating

Question No.16 : Recognize the sentence with the correct 'Capitalization'.

- (a) An igloo is a snow house. (b) an Igloo is a Snow house.
(c) An igloo Is a snow House. (d) an igloo is a Snow house.

Question No.18 : Identify the correct 'Sentence Structure'.

- (a) Snack carrot is a healthy. (b) Snack healthy is a carrot.
(c) A carrot is a snack healthy. (d) A carrot is a healthy snack.

Question No.20 : 'Octopus is a sea animal. _____ blood is blue.'

- (a) Its (b) My (c) Her (d) Our

Paragraph Instruction

Read the paragraph carefully and answer the questions given below.

China first invented paper and used it. It was invented in 105 A.D. They kept it secret for hundreds of years. Paper is made of wood, straw, grass, and bamboo. It is mostly white but can be of many colours. We write on paper. We read books that are printed on paper. The art of folding papers is called origami. This game was started in Japan in the 6th century. Paper is now costly. We should not waste it.



Question No. 22 : Which secret was kept by Chinese?

- (a) Art of making straws (b) Art of cutting woods
(c) Art of making paper (d) Art of making bamboo

Question No.23 : What should we avoid about papers?

- (a) To buy papers (b) To print on papers
(c) To fold papers (d) To waste papers

Question No.24 : What is origami?

- (a) A paper (b) An art (c) An invention (d) A game

Question No.25 : When was the first paper used?

- (a) 109 A.D (b) 106 A.D (c) 105 A.D (d) 108 A.D

SUBJECTIVE PART(CRQs)

Question No.26 : Make an invitation card to invite your friends to join the 'Awareness Campaign of Rescue 1122'. Write the following information. Marks (10)

For _____
Where _____
Date _____
Time _____
RSVP _____

Question No.27 : Look at the picture and write four nouns and four verbs. Marks (08)


Nouns: _____

Verbs: _____



Question No.28 : Look at the picture and write answers to the following questions. Use correct grammar, punctuation and spelling. Marks (10)

1. How many people are there in the picture? Marks (02)
2. Where are they? Marks (02)
3. Who is standing? Marks (02)
3. How many students are there? Marks (02)
4. What are the kids doing? Marks (02)



Question No.29 : Write the given numbers in words to complete each sentence. Marks (10)

1. There are (54) _____ ducks in the ponds.
2. I have (57) _____ fresh oranges .
3. Your father is (61) _____ years old.
4. There are (68) _____ goats at my farm house.
5. He bought (76) _____ balloons for his birthday.
6. They planted (85) _____ plants in the ground.
7. We have (78) _____ hens for laying eggs.
8. There were (92) _____ kites flying in the sky.
9. A troop of (86) _____ soldiers went to the city.
10. I have got (94) _____ marks in the English paper.

Question No.30 : Reading Question: Marks (04) - Instructions for the Students: 1.Your teacher will show you some words. 2.Read and pronounce them clearly. 3.Focus on the short or long vowels of each word.

Question No.31 : Listening & Speaking Question: Marks (08) - Instructions for the Students: 1.Read the questions given below. 2.Your teacher will call you one by one. 3.He/ She will show you a picture. 4.Then he/she will ask any two of the following questions. 5.Observe the picture carefully and try to answer these questions.

Question Group 1: 1.What do you see in the picture? Marks (04) 2.How many ears does it have? Marks (04) 3.How many legs does it have? Marks (04)

Question Group 2: 1.Have you ever seen this animal? Marks (04) 2.Do you like it ? Marks (04) 3.Did you ever take a ride on it ? Marks (04)

SCHOOL BASED ASSESSMENT 2024

MODEL PAPER

General Knowledge Grade 3

[Paper A: 50 Marks, Paper B: 50 Marks, Total: 100 Marks] , Time = 3 hours



School Name: _____

Student Name: _____

Roll Number: _____

Section: _____

OBJECTIVE PART(MCQs)

Question No.1 : Identify the habitat of a lion.

- (a) Forest (b) Desert (c) Ocean (d) Grassland

Question No.3 : Which of the following abiotic factors is necessary for life?

- (a) Plant (b) Water (c) Flower (d) Soil

Question No.5 : In which direction does the Sun set?

- (a) North (b) South (c) East (d) West

Question No.7 : What is the main difference between states of matter?

- (a) Size, volume (b) Shape, volume (c) Shape, size (d) Shape, area

Question No.9 : Fruits and shoes are examples of:

- (a) goods (b) services (c) scarcity (d) interdependence

Question No.11 : Pollution caused by the horns of vehicles is known as _____ pollution.

- (a) water (b) air (c) noise (d) land

Question No.13 : Identify an endangered animal in Pakistan.

- (a) Wild ox (b) Markhor (c) Tasmanian tiger (d) Dodo bird

Question No.15 : Identify the machine that is used to cut things.

- (a) Screw (b) Pulley (c) Wedge (d) Wheel and axle

Question No.17 : Who is the founder of Pakistan?

- (a) Quaid-e-Azam Muhammad Ali Jinnah (b) Allama Muhammad Iqbal (c) Sir Syed Ahmad Khan (d) Liaquat Ali Khan

Question No.19 : People of ancient times used to make their tools with:

- (a) wood (b) rubber (c) stone (d) plastic

Question No.21 : To be good citizens is our:

- (a) right (b) option (c) problem (d) responsibility

Question No.23 : Identify the feeling shown in the image.

- (a) Anger (b) Love (c) Sadness (d) Happiness



Question No.25 : What are the potential hazards of using sharp tools?

- (a) Electric shock (b) Bleeding (c) Shivering (d) Burning

Question No.2 : Which of the following parts of a fish helps it to swim?

- (a) Fins (b) Gills (c) Mouth (d) Eyes

Question No.4 : What is the second stage in the life cycle of a frog?

- (a) Egg (b) Larva (c) Embryo (d) Tadpole

Question No.6 : In which direction of light, shadow will be formed?

- (a) Opposite (b) Vertical (c) Left (d) Right

Question No.8 : Which type of energy comes from the Sun in the form of light and heat?

- (a) Solar energy (b) Chemical energy (c) Wind energy (d) Electrical energy

Question No.10 : Which of the following is an example of human resources?

- (a) Land (b) Pilot (c) Dam (d) Vehicles

Question No.12 : We can conserve natural resources by:

- (a) storing rainwater (b) cutting forests (c) using excess lights (d) using chemical fertilizers

Question No.14 : Identify the omnivore from the following animals.

- (a) Tiger (b) Cow (c) Wolf (d) Crow

Question No.16 : Which machine is used to lift materials in the construction of buildings?

- (a) Wheel and axle (b) Inclined plane (c) Screw (d) Pulley

Question No.18 : Who is the expounder of Pakistan?

- (a) Quaid-e-Azam Muhammad Ali Jinnah (b) Sir Syed Ahmad Khan (c) Allama Muhammad Iqbal (d) Liaquat Ali Khan

Question No.20 : Which of the following modern inventions is used in transportation?

- (a) Tonga (b) Steam engine (c) Handcart (d) Aeroplane

Question No.22 : Which practice leads to the poor availability of clean water?

- (a) Storing rainwater (b) Efficient use of water (c) Proper water supply management (d) Not storing rainwater

Question No.24 : What is the danger of holding a piece of broken glass?

- (a) Bleeding will begin (b) There will be a fire (c) The shock will be felt (d) The pressure will be felt

SUBJECTIVE PART(CRQs)

Question No: 26

- a) Define ecosystem and give an example. (3 Marks)
- b) Which characteristics are found in the leaves of plants found in cold regions? (3 Marks)
- c) Write any two differences between forest and desert habitats. (2+2=4 Marks)

Question No: 27

- a) Define resources. How many types of resources are there? (2+1=3 Marks)
- b) Write the names of any three natural resources. (3 Marks)
- c) Differentiate between human and capital resources. (2+2=4 Marks)

Question No: 28

- a) Write any two advantages of a simple machine. (2 Marks)
- b) Write the names of any four simple machines. (4 Marks)
- c) What is push and pull? Write any three changes that it brings in bodies. (4 Marks)

Question No: 29

- a) What is meant by disagreement? (2 Marks)
- b) Write any four reasons for a disagreement. (4 Marks)
- c) Write any four ways to overcome disagreements. (4 Marks)

Question No: 30

- a) When and where Allama Muhammad Iqbal was born? (2 Marks)
- b) Write the names of two popular books for the youth and two poems for children of Allama Muhammad Iqbal. (4 Marks)
- c) Write a short note on Allama Iqbal's life. (4 Marks)

Result.pk

SCHOOL BASED ASSESSMENT 2024

MODEL PAPER

Islamiat Grade 3

[Part A: 50 Marks Part B: 50 Marks Total: 100 Marks] , Time = 3 hours



School Name: _____

Student Name: _____

Roll Number: _____

Section: _____

حصہ اول: معروضی سوالات

- سوال نمبر 1: مَا لَيْكِ يَوْمَ الدِّينِ "آیت مبارکہ ہے:
- (a) سورۃ الفاتحہ کی (b) سورۃ النصر کی (c) سورۃ الکوثر کی (d) سورۃ الاخلاص کی
- سوال نمبر 2: گناہوں سے بخشش طلب کرنے کے کلمات ہیں:
- (a) سُبْحَانَ اللَّهِ (b) اللَّهُ أَكْبَرُ (c) اَسْتَغْفِرُ اللَّهَ (d) وَالْحَمْدُ لِلَّهِ
- سوال نمبر 3: حدیث مبارک اللہ تعالیٰ سے دعا مانگنے کی ترغیب دیتی ہے:
- (a) اِنَّمَا الْأَعْمَالُ بِالنِّيَّاتِ (b) خَيْرُكُمْ مَنْ تَعَلَّمَ الْقُرْآنَ وَعَلَّمَهُ (c) اَللّٰهُمَّ صَلِّ وَسَلِّمْ عَلٰى رَسُوْلِكَ الْبَارِئِ (d) اَللّٰهُمَّ صَلِّ وَسَلِّمْ عَلٰى رَسُوْلِكَ الْبَارِئِ
- سوال نمبر 4: اَلْحَمْدُ لِلّٰهِ الَّذِيْ اَعْطَمَنَا وَسَقَانَا وَجَعَلَنَا مُسْلِمِيْنَ "دعا" پڑھنی چاہیے:
- (a) جاگنے کے بعد (b) کھانا کھانے کے بعد (c) نماز کے بعد (d) سبق یاد کرنے کے بعد
- سوال نمبر 5: انسان کا پختہ اور اہل نظر یہ کہلاتا ہے:
- (a) مشورہ (b) جذبہ (c) ارادہ (d) عقیدہ
- سوال نمبر 6: کلمہ طیبہ کا پہلا حصہ بیان کرتا ہے:
- (a) عقیدہ توحید (b) عقیدہ شفاعت (c) عقیدہ رسالت (d) عقیدہ آخرت
- سوال نمبر 7: "رسالت اور نبوت کا سلسلہ ختم ہو گیا اور میرے بعد نہ کوئی رسول آئے گا اور نہ کوئی نبی" یہ حدیث مبارک دلالت کرتی ہے:
- (a) توحید پر (b) رسالت پر (c) ختم نبوت پر (d) آخرت پر
- سوال نمبر 8: عقیدہ ختم نبوت کے تناظر میں تمام انبیائے کرام علیہم السلام پر ایمان رکھنا لازم ہے:
- (a) یہودیوں کے لئے (b) عیسائیوں کے لئے (c) مسلمانوں کے لئے (d) مجوسیوں کے لئے
- سوال نمبر 9: دین اسلام کی بنیاد قائم ہے:
- (a) تین ارکان پر (b) چار ارکان پر (c) پانچ ارکان پر (d) چھ ارکان پر
- سوال نمبر 10: حدیث مبارک کے مطابق قیامت کے دن سب سے بلند گردن ہوگی:
- (a) مؤذن کی (b) نمازی کی (c) مجاہد کی (d) تاجر کی
- سوال نمبر 11: حدیث مبارک کے مطابق قیامت کے دن امت مسلمہ کے چہرے روشن ہوں گے، اس سے ہمیں ترغیب ملتی ہے:
- (a) خوشبو لگانے کی (b) غسل کرنے کی (c) نیاباس پہننے کی (d) وضو کرنے کی
- سوال نمبر 12: "اور رکوع کرنے والوں کے ساتھ رکوع کرو" اس آیت مبارکہ میں حکم ہے:
- (a) نماز کا (b) جہاد کا (c) زکوٰۃ کا (d) حج کا
- سوال نمبر 13: عبادت کے لئے سب سے پہلا گھر بنایا گیا:
- (a) مکہ میں (b) مدینہ میں (c) فلسطین میں (d) طائف میں
- سوال نمبر 14: حلف الفضول میں شامل لوگوں کے ناموں کا پہلا لفظ تھا:
- (a) حلف (b) فاضل (c) فضل (d) فضیل
- سوال نمبر 15: حدیث مبارک "جو شخص دھوکہ دے وہ ہم میں سے نہیں ہے" میں تاکید کی گئی ہے:
- (a) حسن معاملات کی (b) صلہ رحمی کی (c) کفایت شعاری کی (d) عجز و انکساری کی
- سوال نمبر 16: سیرت نبوی کے مطابق تکلیف کے وقت آپ کو مظاہرہ کرنا چاہیے:
- (a) قناعت کا (b) برداشت کا (c) عاجزی کا (d) عدل کا
- سوال نمبر 17: رواداری کا تقاضا ہے کہ ہمیں تمام مذاہب کے نظریات کا کرنا چاہیے:
- (a) مذاکرہ (b) احترام (c) مشاہدہ (d) پرچار
- سوال نمبر 18: اہل مکہ رسول اللہ ﷺ صَلَّى اللّٰهُ عَلَيْهِ وَآلِهِ وَسَلَّمَ کو ہمیشہ سچ بولنے کی وجہ سے کہتے تھے:
- (a) صادق (b) امین (c) رؤف (d) رحیم
- سوال نمبر 19: ہمیں چاہیے کہ ہمیشہ اچھی بات کریں کیوں کہ خوش کلامی سے اضافہ ہوتا ہے:
- (a) صبر میں (b) استقامت میں (c) قناعت میں (d) محبت میں
- سوال نمبر 20: اسلامی تعلیمات میں ہمیں سب سے زیادہ خیال رکھنا چاہئے:
- (a) اساتذہ کا (b) والدین کا (c) ہمسایوں کا (d) افسران کا
- سوال نمبر 21: حدیث مبارک کی رو سے روحانی باپ کا درجہ حاصل ہے:
- (a) امام کو (b) استاد کو (c) بھائی کو (d) بادشاہ کو
- سوال نمبر 22: ابلیس کا حضرت آدم علیہ السلام کو سجدے سے انکار کرنے کا سبب تھا:
- (a) بغل (b) حسد (c) تکبر (d) جہالت
- سوال نمبر 23: غزوہ تبوک کے موقع پر حضرت ابو بکر صدیق رضی اللہ تعالیٰ عنہ کا سارا سامان پیش کرنے میں سبق ہے:
- (a) سخاوت کا (b) میانہ روی کا (c) بردباری کا (d) صبر و تحمل کا
- سوال نمبر 24: ہم مسواک کا استعمال صفائی کے لیے کرتے ہیں:
- (a) کپڑوں کی (b) دانتوں کی (c) بالوں کی (d) آنکھوں کی
- سوال نمبر 25: صحت مندر بننے کے لیے سب سے بہترین کھیل ہے:
- (a) لڈو (b) موہا بل گیمز (c) فٹ بال (d) سنوکر

(i) "وَرَأَيْتَ النَّاسَ يَبْذُلُونَ فِي دِينِ اللَّهِ أَمْوَالَهُمْ" یہ آیت مبارکہ کس سورت سے ہے؟ (3)

(ii) "أَسْتَغْفِرُ اللَّهَ" کا اردو ترجمہ لکھیں۔ (3)

(iii) حدیث مبارکہ "الدُّعَاءُ مُمْتَلِئُ الْجِبَادَةِ" کا ترجمہ لکھ کر وضاحت کریں کہ اس حدیث مبارکہ میں ہمیں کس بات کی ترغیب دی گئی ہے؟ (4)

(i) قبلہ کسے کہتے ہیں؟ (2)

(ii) مسجد کا تعارف مختصراً تحریر کریں۔ (4)

(iii) ہمیں اپنی عملی زندگی میں مسجد کا ادب و احترام کیسے کرنا چاہیے؟ (4)

(i) آپ خاتم النبیین صلی اللہ علیہ وعلیٰ آلہ وارضیاءہ وسلم عرب کے کس شہر میں پیدا ہوئے؟ (2)

(ii) سفر شام میں بارہ سال کی عمر میں آپ خاتم النبیین صلی اللہ علیہ وعلیٰ آلہ وارضیاءہ وسلم کے ساتھ کون سا تاریخی واقعہ پیش آیا؟ (5)

(iii) رسول اللہ خاتم النبیین صلی اللہ علیہ وعلیٰ آلہ وارضیاءہ وسلم کے کس عمل سے متاثر ہو کر حضرت خدیجہ رضی اللہ تعالیٰ عنہا نے آپ سے نکاح کی درخواست کی؟ (3)

(i) حقوق العباد سے کیا مراد ہے؟ (2)

(ii) والدین کے حقوق کے بارے میں اسلامی تعلیمات کیا ہیں؟ (4)

(iii) حقوق العباد کی ادائیگی سے ہم معاشرے میں کیا تبدیلی لاسکتے ہیں؟ (4)

(i) سب سے پہلے نبی علیہ السلام کا نام لکھیں۔ (2)

(ii) اللہ تعالیٰ نے تمام فرشتوں کو حضرت آدم علیہ السلام کو سجدہ کرنے کا حکم کیوں دیا؟ (4)

(iii) حضرت آدم علیہ السلام کی زندگی سے ہمیں اللہ تعالیٰ کے احکامات ماننے سے متعلق کیا رہنمائی ملتی ہے؟ (4)

SCHOOL BASED ASSESSMENT 2024

MODEL PAPER

Mathematics Grade 3

[Part A: 50 Marks Part B: 50 Marks Total: 100 Marks] , Time = 3 hours



School Name: _____

Student Name : _____

Roll Number : _____

Section : _____

OBJECTIVE PART(MCQs)

Question No.1 : 17 is written in Roman numbers as:

- (a) XV (b) XVI
(c) XVII (d) XVIII

Question No.3 : The place value of digit 7 in 6750 is :

- (a) 07 (b) 70
(c) 700 (d) 7000

Question No.5 : The solution of $982 - 680$ is:

- (a) 300 (b) 320
(c) 302 (d) 350

Question No.7 : If a motorcycle covers a distance of 40 km in 1 litre of petrol. Then the distance covered in 5 litres will be:

- (a) 100 km (b) 200 km
(c) 300 km (d) 400 km

Question No.9 : Identify the proper fraction:

- (a) $\frac{3}{4}$ (b) $\frac{5}{3}$
(c) $\frac{7}{5}$ (d) $\frac{5}{2}$

Question No.11 : The solution of $\frac{3}{5} + \frac{3}{5}$ is:

- (a) $\frac{1}{5}$ (b) $\frac{4}{5}$
(c) $\frac{6}{5}$ (d) $\frac{6}{10}$

Question No.13 : Ahmad bought 15 m cloth and gave 10 m cloth from it to his brother. The remaining cloth is:

- (a) 5m (b) 10m
(c) 15m (d) 25m

Question No.15 : The solution of $633\text{ml} - 120\text{ml}$ is:

- (a) 410 ml (b) 413 ml
(c) 513 ml (d) 753 ml

Question No.17 : Hamid bought 20kg rice and 50kg sugar. The total mass of both is:

- (a) 30 kg (b) 60 kg
(c) 70 kg (d) 100 kg

Question No.19 : The solution of $6h + 5h$ is:

- (a) $2h$ (b) $6h$
(c) $11h$ (d) $30h$

Question No.21 : Identify the given figure:



- (a) Point (b) Line
(c) Ray (d) Line segment

Question No.2 : Identify even number:

- (a) 23 (b) 35
(c) 46 (d) 59

Question No.4 : The sum of 246 and 721 is:

- (a) 475 (b) 521
(c) 567 (d) 967

Question No.6 : The solution of 12×5 is:

- (a) 7 (b) 17
(c) 32 (d) 60

Question No.8 : If Ali bought 5 pens for Rs 50, then the price of one pen will be:

- (a) Rs 10 (b) Rs 30
(c) Rs 50 (d) Rs 70

Question No.10 : The equivalent fraction of $\frac{2}{3}$ is :

- (a) $\frac{7}{9}$ (b) $\frac{8}{9}$
(c) $\frac{10}{12}$ (d) $\frac{8}{12}$

Question No.12 : The solution of $65\text{cm} + 21\text{cm}$ is:

- (a) 44cm (b) 66cm
(c) 86cm (d) 96 cm

Question No.14 : The solution of $3\text{kg } 463\text{g} - 2\text{kg } 232\text{g}$ is:

- (a) 1kg 231g (b) 2kg 463g
(c) 3kg 232g (d) 5kg 695g

Question No.16 : Sana bought 10l of milk and she used 2l of milk for tea. Remaining milk left with her is:

- (a) 8l (b) 9l
(c) 11l (d) 12l

Question No.18 : The time on the given clock is:



- (a) 4:30 (b) 5:30
(c) 6:20 (d) 6:25

Question No.20 : If Shahzaib took 7 hours for studying an Urdu book while Ali took 11 hours, then Ali took more time than Shahzaib:

- (a) 3 hours (b) 4 hours
(c) 5 hours (d) 9 hours

Question No.22 : If the length of one side of square is 5cm, then its perimeter will be:

- (a) 16cm (b) 20cm
(c) 25cm (d) 40cm

Question No.23 : Number of faces in a cube are:


- (a) 4 (b) 6
(c) 8 (d) 12

Question No.24 : The value of the given tally mark is:



- (a) 5 (b) 6
(c) 7 (d) 8

Question No.25 : The following picture graph shows the number of apples that each child have. Which child has the maximum number of apples?



- (a) Sana (b) Salman
(c) Neelam (d) Azhar

SUBJECTIVE PART(CRQs)

Question No: 26

- a) Write Roman numbers from 14 to 18. (5 marks)
b) Write 512, 321, 445, 241, 114 in ascending and descending order.(5 marks)

Question No: 27

- a) A book has 1653 pages. Ali has read 432 pages of it. How many pages are left to read? (5 mark)
b) If the price of one book is Rs 20. Find the price of 8 such books. (5 marks)

Question No: 28

- a) Solve: $\frac{3}{15} + \frac{4}{15}$ (5 marks)
b) Solve: $17\text{ kg } 656\text{ g} - 15\text{ kg } 431\text{ g}$. (5 marks)

Question No: 29

- a) Ali bought 8 litre 700 millilitre milk and used 3 litre 200 millilitre from it. How much of Milk is left?. (5 Marks)
b) Saqib studies English for 9 hours and Urdu for 6 hours in a week. How much time does he spend for both of the subjects? (5 Marks)

Question No: 30

- a) Find the perimeter of rectangle whose length is 35m and width is 20m. (5 marks)
b) The given tally chart shows the favorite colours of students. Read it and answer the following questions. (5 marks)

- Which is the most favorite colour?
- How many students like the yellow and blue colours?
- What is the difference between the number of students who like pink colour and blue colour?

Colours	Tally Marks
Red	III
Yellow	III
Blue	IIII
White	IIII
Pink	IIII

SCHOOL BASED ASSESSMENT 2024

MODEL PAPER

Urdu Grade 3

[Part A: 50 Marks Part B: 50 Marks Total: 100 Marks] , Time = 3 hours



School Name: _____

Student Name : _____

Roll Number : _____

Section : _____

حصہ اول: معروضی سوالات

سوال نمبر 1: تم سے سارے کھیت ہرے ہیں غلے سے گودام بھرے ہیں
دیے گئے شعر میں ذکر ہے:

(a) گیارہ (b) اکیس (c) اکتیس (d) اکتالیس

(a) معمار کا (b) ڈاکٹر کا (c) کسان کا (d) درزی کا

سوال نمبر 3: اسائی جملہ ہے:

(a) میں کھانا کھاتا ہوں۔ (b) ہم کھانا کھاتے ہیں۔
(c) نجمہ کھانا کھاتی ہے۔ (d) وہ کھانا کھاتے ہیں۔

سوال نمبر 4: واحد کے استعمال والا درست جملہ ہے:

(a) پرندے دانہ چنگ رہے ہیں۔ (b) کوئے اڑ رہے ہیں۔
(c) طوطے ٹپ ٹپ کر رہے ہیں۔ (d) کبوتر دانہ چنگ رہا ہے۔

سوال نمبر 5: ”عدیل سفر کرے گا۔“ سے بننے والا فعل ماضی کا جملہ ہوگا:

(a) یہ علی کا بہتہ ہے۔ (b) یہ کرسی پرانی ہے۔ (c) یہ چھت اونچی ہے۔ (d) یہ آمنہ کی کاپی ہے۔

(a) عدیل سفر کر رہا ہوگا۔ (b) عدیل سفر کرتا ہے۔
(c) عدیل سفر کر رہا ہے۔ (d) عدیل سفر کرتا تھا۔

سوال نمبر 6: مذکر کے استعمال والے جملے کی شناخت کریں:

(a) راج، کاج، تاج (b) نام، شام، آج (c) باج، تاج، کلام (d) تمام، سلام، راج

سوال نمبر 7: لفظ ”روشنیوں“ کا مترادف لفظ ہے:

(a) تارکیوں (b) رنگوں (c) غلعتوں (d) اُجالوں

سوال نمبر 10: درج ذیل میں سے استنبہامیہ جملہ ہے:

(a) ماحول کی صفائی ہمارا فرض ہے۔ (b) ماحول کی صفائی ہمارا فرض نہیں ہے۔
(c) کہا ماحول کی صفائی ہمارا فرض ہے؟ (d) ماحول کی صفائی خاص لوگوں کا فرض ہے۔

سوال نمبر 9: اسم ضمیر کے استعمال والا جملہ ہے:

(a) دادا جان بازار (b) پانی نعمت ہے۔ (c) وہ کھیتے ہیں۔ (d) سوال آسان ہے۔

سوال نمبر 12: ”میں ڈاکٹر بنوں گا۔“ زمانے کی رو سے ہے:

(a) فعل ماضی (b) فعل مستقبل
(c) فعل حال (d) فعل ماضی ثانیہ

سوال نمبر 11: ”میں آپ کا انتظار کروں گا۔“ کا انکاری جملہ ہوگا:

(a) میں آپ کا انتظار کیسے کروں گا؟ (b) کیا میں آپ کا مزید انتظار کروں؟
(c) جی نہیں! میں آپ کا انتظار نہیں کروں گا۔ (d) جی ہاں! میں آپ کا انتظار کروں گا۔

سوال نمبر 14: آپ کو سکول میں تقریری مقابلے کی تقریب میں شمولیت کر کے خوشی ہوئی۔ اس بارے میں اپنے والدین کو بتائیں گے:

(a) چلیں مل کر کھانا کھاتے ہیں۔ (b) مجھے معلوم تھا آپ نہیں گئے۔
(c) سبحان اللہ! کیا عمدہ لباس ہے۔ (d) آؤ! اب یہاں سے چلتے ہیں۔

(a) تقریری مقابلے کی تقریب طویل تھی۔ (b) تقریری مقابلے کی تقریب مختصر تھی۔
(c) تقریری مقابلے کی تقریب بور تھی۔ (d) تقریری مقابلے کی تقریب دلچسپ تھی۔

سوال نمبر 16: آپ کی بہن باورچی خانہ میں اکثر گیس کا پوہا لہنا چھوڑ جاتی ہے، اس پر آپ اسے کہیں گے:

(a) گیس کا ضیاع مت کریں۔ (b) گیس کا استعمال زیادہ کریں۔
(c) احتیاط ہرگز نہ کیا کریں۔ (d) گیس کھلی چھوڑ دیا کریں۔

سوال نمبر 15: ”وہ رہتی ہے گھر میں اکیلی کھڑی
چلیں آپ تو ساتھ ہی چل پڑی“
پہیلی کا درست بوجھ ہے:

(a) جھاڑو (b) چھتری (c) چھتری (d) الماری

سوال نمبر 18: دوست کے ساتھ کرکٹ کھیلتے ہوئے غلطی سے آپ کو گیند لگ گئی اس صورت حال میں دوست کے ساتھ اختیار کریں گے:

سوال نمبر 17: آج آپ سکول میں اپنی اردو کی کتاب لانا بھول گئے ہیں۔ اب آپ اس مسئلہ کو حل کریں گے۔

(a) رواداری (b) دیانت داری (c) سادگی (d) کفایت شعاری

(a) دوست سے پیسے لے کر نئی کتاب خریدیں (b) خاموشی سے بیٹھے رہیں گے۔
(c) ہم جماعت کے ساتھ مل کر پڑھ لیں گے۔ (d) جماعت سے باہر آ جائیں گے۔

سوال نمبر 20: ”مگر جماعت میں آپ پڑھ رہے ہیں کہ زلزلہ کے جھکے محسوس ہوتے ہیں۔“ آپ اس صورت میں کریں گے:

(a) رونا شروع کر دیں گے۔ (b) اپنی پڑھائی جاری رکھیں گے۔
(c) آپ چھت پر چڑھ جائیں گے۔ (d) جلدی سے میدان میں آ جائیں گے۔

سوال نمبر 19: سکول سے واپس آتے ہوئے آپ کو راستے میں کسی نے بیسوں کالا لٹچ دے کر اپنے ساتھ جانے کو بولا۔ آپ اس بارے میں بتائیں گے:

(a) ہمسائیوں کو بتائیں گے۔ (b) اجنبی کو بتائیں گے۔
(c) والدین کو بتائیں گے۔ (d) کسی کو نہیں بتائیں گے۔

پیرا گراف ہدایات *

درج ذیل عبارت کو غور سے پڑھیں اور سوالات کے درست جوابات کی نشان دہی کریں۔

پاکستان ہمارا دل ہے لیکن پاکستان کا دل لاہور ہے۔ لاہور صوبہ پنجاب کا دارالحکومت ہے، جو آبادی کے لحاظ سے پاکستان کا سب سے بڑا صوبہ ہے۔ لاہور کو کالجوں اور باغات کا شہر بھی کہا جاتا ہے۔ سمندر کسی بھی ملک کی تجارت میں اہم کردار ادا کرتا ہے۔ پاکستان کی سب سے بڑی بندرگاہ کراچی میں ہے۔ کراچی آبادی کے لحاظ سے پاکستان کا سب سے بڑا شہر ہے۔ کراچی صوبہ سندھ کا دارالحکومت ہے۔ صوبہ سندھ آبادی کے لحاظ سے دوسرا بڑا صوبہ ہے۔

- سوال نمبر 21: آبادی کے لحاظ سے پاکستان کا پہلے نمبر پر صوبہ ہے:
- (a) سندھ (b) بلوچستان (c) پنجاب (d) خیبر پختونخوا
- سوال نمبر 22: باغات کا شہر کہلاتا ہے:
- (a) لاہور (b) کراچی (c) اسلام آباد (d) پشاور
- سوال نمبر 23: تجارت سے مراد ہے:
- (a) گداگری (b) غلبہ بانی (c) نوکری (d) کاروبار
- سوال نمبر 24: بندرگاہ کا مطلب ہے:
- (a) ریٹیل علاقہ (b) ساحلی علاقہ (c) میدانی علاقہ (d) پہاڑی علاقہ
- سوال نمبر 25: پیراگراف کا مناسب عنوان ہے:
- (a) پاکستان کے باغات (b) پاکستان کے تہوار (c) پاکستان کے صوبے (d) پاکستان کے موسم

حصہ دوم: انشائیہ سوالات

- سوال نمبر 26: آپ گھر کے کاموں میں کیسے اپنے والدین کی مدد کرتے ہیں؟ دس جملوں میں بیان کریں۔ (10 نمبر)
- سوال نمبر 27: اپنے ہیڈ ماسٹر / ہیڈ مسٹریس کے نام (چوٹ لگنے کی وجہ سے) رخصت کی درخواست لکھیں۔ (10 نمبر)



- سوال نمبر 28: دکھائی گئی تصویر کے مطابق دس جملے تحریر کریں۔ (10 نمبر)

- سوال نمبر 29: عبارت کو درست تلفظ اور روانی کے ساتھ پڑھیں۔ (10 نمبر)

- سوال نمبر 30: نثر پارہ غور سے سنیں اور پوچھے جانے والے سوالات کے جوابات بتائیں۔ (10 نمبر)

Result.pk