

| Questions سوالات | | Rough Work زائد عمل |
|------------------|--|----------------------------------|
| Q. No.2. | $5643 \times 52 =$ a) 5591 b) 5695 c) 28215 d) 293436 | |
| Q. No.3. | $3996 \div 37 =$ a) 3961 b) 3959 c) 108 d) 18 | |
| Q. No.4. | $3 \times (10 + 10) =$ a) 20 b) 30 c) 40 d) 60 | |
| Q. No.5. | L.C.M of 5, 10, 15 and 20 is: a) 5 b) 10 c) 20 d) 60 | 15، 10 اور 20 کا ذواضعاف اقل ہے۔ |
| Q. No.6. | H.C.F of 7, 14 and 21 is: a) 7 b) 14 c) 21 d) 42 | 7، 14 اور 21 کا عدا اعظم ہے۔ |
| Q. No.7. | $\frac{2}{3} + \frac{1}{6} =$ a) $\frac{5}{6}$ b) $\frac{1}{9}$ c) $\frac{1}{6}$ d) $\frac{1}{3}$ | |
| Q. No.8. | $\frac{2}{3} - \frac{1}{5} =$ a) $\frac{1}{5}$ b) $\frac{3}{8}$ c) $\frac{1}{15}$ d) $\frac{7}{15}$ | |
| Q. No.9. | $\frac{8}{15} \times \frac{7}{5} =$ a) $\frac{1}{10}$ b) $\frac{3}{4}$ c) $\frac{1}{75}$ d) $\frac{56}{75}$ | |
| Q. No.10. | $14.35 + 5.8 =$ a) 8.55 b) 19.15 c) 19.43 d) 20.15 | |
| Q. No.11. | $38.24 - 5.32 =$ a) 0.3292 b) 3.824 c) 32.92 d) 38.24 | |
| Q. No.12. | $1.6 \times 0.6 =$ a) 0.0096 b) 0.096 c) 0.96 d) 9.6 | |
| Q. No.13. | $1.21 \div 1.1 =$ a) 0.0011 b) 0.011 c) 0.11 d) 1.1 | |

Q. No.14. Answer of 5.168 correct to two decimal places is:

5.168 کا دو درجہ اعشاریہ تک درست جواب ہے۔

- a) 5.15 b) 5.16 c) 5.17 d) 5.18

Q. No.15. 360 minutes = 360 منٹ =

- a) 6 hours گھنٹے b) 36 hours گھنٹے
c) 60 hours گھنٹے d) 300 hours گھنٹے

Q. No.16. 7 kilometres = 7 کلومیٹر =

- a) 7 metres میٹر b) 70 metres میٹر
c) 700 metres میٹر d) 7000 metres میٹر

Q. No.17. 7 days = 7 دن =



- a) 1 week ہفتہ b) 1 month ماہ
c) 1 year سال d) 7 weeks ہفتے

Q. No.18. If the price of one book is Rs.40, then the price of 2 such books is:

اگر ایک کتاب کی قیمت 40 روپے ہو تو ایسی 2 کتابوں کی قیمت ہے۔

- a) Rs.20 روپے b) Rs.38 روپے
c) Rs.42 روپے d) Rs.80 روپے

Q. No.19. Which figure is a trapezium? کونسی شکل ذوقنقہ ہے؟

- a)  b) 
c)  d) 

Q. No.20. The measure of a straight angle is: خطی زاویے کی مقدار ہوتی ہے۔

- a) 60° b) 90° c) 180° d) 270°

Q. No.21. If the length of a side of a square is 5 cm, then its perimeter will be.

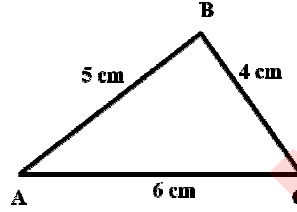
اگر ایک مربع کے ایک ضلع کی لمبائی 5 cm ہو تو اس کا احاطہ ہوگا۔

- a) 5cm b) 10cm c) 20cm d) 25cm

Q. No.22. The given figure is a/an :

دی گئی شکل ہے۔


- a) equilateral triangle مساوی الاضلاع مثلث
b) isosceles triangle مساوی الساقین مثلث
c) obtuse angled triangle منفرجہ الزاویہ مثلث
d) scalene triangle مختلف الاضلاع مثلث



Q. No.23. Area of the given figure is:

دی گئی شکل کا رقبہ ہے۔

- a) $5m^2$
b) $13m^2$
c) $26m^2$
d) $36m^2$



Q. No.24. Average of the numbers 4, 10 and 25 is: اعداد 4، 10 اور 25 کی اوسط ہے۔

- a) 3 b) 13 c) 39 d) 42

Q. No.25. The graph shows the marks obtained by Ali in his annual examination. His obtained marks in Science are:

گراف میں علی کے سالانہ امتحان میں حاصل کردہ نمبر دکھائے گئے ہیں۔ اس کے سائنس میں حاصل کردہ نمبر ہیں۔

- a) 20
b) 30
c) 40
d) 50

